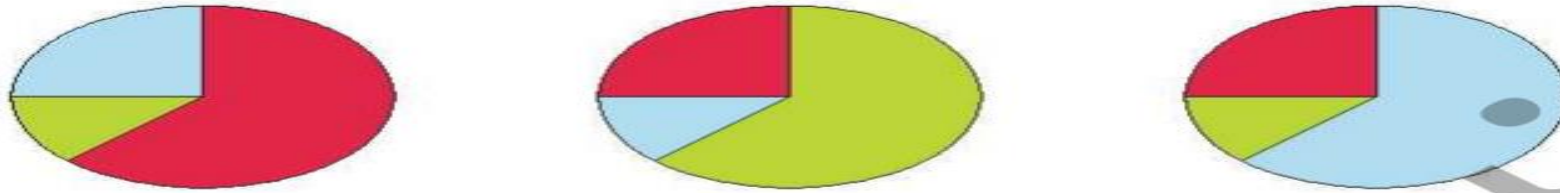


# پاسخ نامه ی هوش

۱. الف) در یک کیسه ۱۸ مهره به رنگ‌های قرمز، آبی و سبز قرار دارد. تعداد مهره‌های قرمز دوبرابر تعداد مهره‌های آبی است. کدام یک از نمودارهای دایره‌ای زیر نشان دهنده‌ی این کیسه است؟



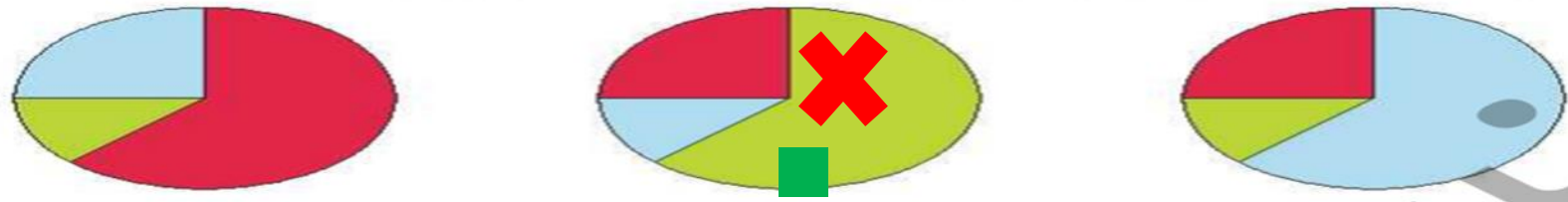
ب) اگر هر  $\square$  برابر ۲ مهره باشد نمودار تصویری مهره‌های درون کیسه رسم کن.

پ) نمودار ستونی مهره‌ها را رسم کن.

ت) کدام یک از نمودارهای بالا، برای نمایش مهره‌های درون کیسه مناسب‌تر است؟ چرا؟



۱. الف) در یک کیسه ۱۸ مهره به رنگ‌های قرمز، آبی و سبز قرار دارد. تعداد مهره‌های قرمز دوبرابر تعداد مهره‌های آبی است. کدام یک از نمودارهای دایره‌ای زیر نشان دهنده‌ی این کیسه است؟




ب) اگر هر  برابر ۲ مهره باشد نمودار تصویر  مهره‌های درون کیسه رسم کن.

قرمز = ۴  
آبی = ۲  
سبز = ۱۲



پ) نمودار ستونی مهره‌ها را رسم کن.



ت) کدام یک از نمودارهای بالا، برای نمایش مهره‌های درون کیسه مناسب‌تر است؟ چرا؟

نمودار ستونی - چون نمودار ستونی برای نمایش دقیق داده‌ها بهتر است.

