

هفته آموزشی	
۱	هوش ریاضی - دسته بندی و سرشماری - ساختن عدد - های دو راس
۲	هوش فضایی - شکره گیری - ماشین
۳	هوش کلاسی
۴	سرعت، دقت، تمرکز
۵	سرعت، دقت، تمرکز - هوش ریاضی - جمع دو عدد

۱. در هر ردیف، دسته های ۱۰ تایی درست کن و در جاهای خالی عدد مناسب بنویس.



یکی	ده تایی
۵	۱

۱... دسته های ده تایی و ... ۵... یکی



یکی	ده تایی
۶	۱

۱... دسته های ده تایی و ... ۶... یکی



یکی	ده تایی
۲	۱

۱... دسته های ده تایی و ... ۲... یکی



یکی	ده تایی
۴	۱

۱... دسته های ده تایی و ... ۴... یکی

۲. اندازه های بلندی هر شکل چند چیز است؟ مانند نمونه مشخص کن.



۵...



۷...



۳...



۷...



۳...



۹...

چهار هوش اول دیدت

۲۴



+ Tags

(1)2648266319987...- →



چهار هوش اول دبستان



علوی

۳. صدای آخر کدام یک از کلمه‌های دو بخشی زیر، مانند صدای اول است؟ دور آن‌ها خط بکش.

- گره بزنگ سنگ بزنگ بزنگ بزنگ بزنگ

۴. به جای ؟ کدام شکل را قرار می‌دهی؟

		?



(۴)



(۳)



(۲)



(۱)

۵. کدام دو عدد کنار هم را با هم جمع کنیم تا جواب آن‌ها عدد ۱۰ شود؟

۱	۸	۸	۸	۲	۳	۶	۸	۷	۳
۴	۳	۵	۵	۶	۹	۱	۱	۲	۲
۶	۶	۳	۷	۸	۲	۸	۳	۶	۱
۳	۶	۶					۶	۸	۲
۳	۸	۷					۱	۱	۹
۷	۲	۵					۲	۶	۹
۷	۷	۴					۵	۹	۶
۸	۲	۲	۶	۹	۸	۲	۵	۱	۳
۵	۷	۷	۳	۲	۶	۹	۹	۲	۹
۱	۵	۵	۵	۹	۴	۱	۸	۷	۱





+ Tags

(1)2648266319987...-



روز	۱	هفته آموزشی
موضوع	۲	هوش یابی - مفهوم جمع : حاصل کمتر از ۱۰
هدف	۳	هوش فضایی
روش تدریس	۴	هوش کلامی
روش ارزشیابی		سرعت، دقت، تمرکز

۱. با کمک انگشتان جواب جمع را پیدا کن. سپس به همان تعداد برای کفشدوزک خال بکش.

$2 + 2 = 4$
 $3 + 3 = 6$
 $4 + 4 = 8$

۲. نیمه‌ی راست شکل را کامل کن.

چهار هوش اول دبستان


علوی

۳. به کمک کارت نشانه‌ها، کلمه بساز. می‌توانی از هر کارت چند بار استفاده کنی.



+ Tags

(1)2648266319987...-



چهار هوش اول دبستان



عابوی

۳. به کمک کارت نشانه‌ها، کلمه بساز. می‌توانی از هر کارت چند بار استفاده کنی.

ز	ت	ن	خ	و	آ	س
---	---	---	---	---	---	---

تاس...تاس

زان...زان

سوزن...سوزن

زافن...زافن

سراسان...سراسان

ساختن...ساختن

۴. به جای ؟ کدام گزینه را قرار می‌دهی؟

			؟
--	--	--	---

(۴)	(۳)	(۲)	(۱)
-----	-----	-----	-----



بیشتر

Word به Word

Share

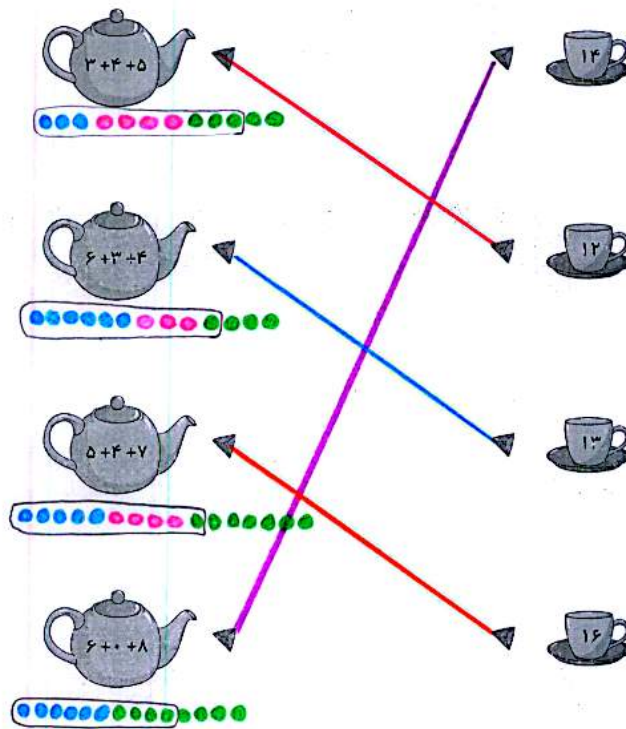
Edit PDF

Add

موضوع	تعداد سوال	نمره
هوش ریاضی - جمع های چندتایی با استفاده از رسم شکل	۱	
هوش کلاسی	۲	
سرعت، دقت، تمرکز	۳	
هوش فضایی	۴	

هفته آموزشی
هفدهم

۱. با کشیدن شکل، جواب جمع های داخل قوری را به فنجان مربوطه وصل کن.



۲. رابطه ی دسامان، با دبابا، مثل رابطه ی مادربزرگ، با است.

- (۱) برادر
- (۲) دایی
- (۳) خاله
- (۴) پدربزرگ

چهار هوش اول دبستان

علوی

۳. تکه ی جدا شده از هر شکل، را پیدا کن و دور آن خط بکش.





+Tags

(1)2648266319987...-



بزرگتری (۴)

خانه (۳)

دایی (۲)

برادر (۱)

چهار هوش اول دبستان

۲۸


عابوی



۳. تکه‌ی جدا شده از هر شکن را پیدا کن و دور آن خط بکش.

- (۱)
- (۲)
- (۳)
- (۴)
- (۱)
- (۲)
- (۳)
- (۴)
- (۱)
- (۲)
- (۳)
- (۴)

۴. به جای ؟ کدام شکل را می‌توان قرار داد؟



- (۲)
- (۴)

- (۱)
- (۳)





+ Tags

(1)2648266319987...-



هفته آموزشی	
۱	هوش ریاضی - الگوهای عددی
۲	هوش فضایی
۳	هوش کلامی
۴	سرعت، دقت، تمرکز


۱. جاهای خالی را با عدد مناسب پر کن.

۲. گوشه‌های جدا شده از هر شکل را پیدا و به آن وصل کن.

چهار هوش اول دستن








علوی

۳. اسم تصویف‌های زیر را بنویس. کدا- یک از آن‌ها بیش‌ترین نقطه را دارد؟ دور آن خط بکش.

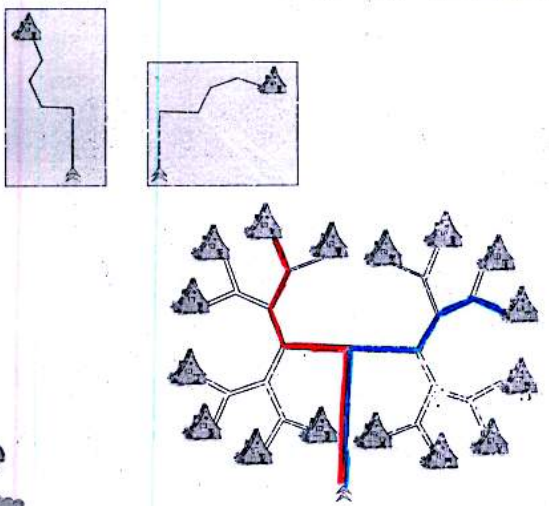


علوی

۳. اسم تصویه های زیر را بنویس، کدام یک از آنها بیشترین نقطه را دارد؟ دور آن خط بکش.

			
خورشید	مورچه	پیچ	چنگال
			
خرچنگ	هواپیما	چاقو	چسب
			
هشت	قارچ	قرص	چادر

۴. دو مسیر قرمز و آبی را از زیر درختان پیدا کن و رنگ بزن





+Tags

(1)2648266319987...-



موضوع	تعداد	هفته آموزشی
هوش ریاضی - حل مسئله	۱	نوزدهم
هوش فضایی	۲	
هوش کلامی	۳	
سرعت، دقت، تمرکز	۴	

۱. پرسش‌های زیر را حل کن.
 سبیا ۱۰ گل سر دارد. مادرش ۶ گل سر دیگر برایش خرید. حالا سبیا چند گل سر دارد؟

$10 + 6 = 16$

سبیا ۱۶ گل سر دارد.

۲. ۸ پرنده در لایه بودند. ۵ تا از پرنده‌ها پرواز کردند. چند پرنده در لایه باقی مانده است؟

$8 - 5 = 3$

۳ پرنده در لایه باقی مانده است.

۳. نیمه‌ی پایینی شکل را کامل کن.

چهار هوش اول دبستان

علوی

۳. به گردونه‌ی کلمه سازی دقت کن. چند کلمه می‌توانی بسازی؟

بیشتر

Word به

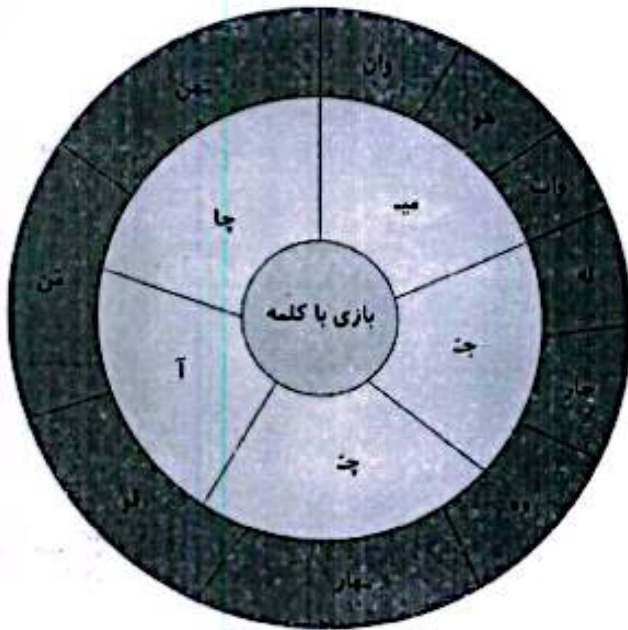
Share

Edit PDF

Add

علوی

۳. به گردونه‌ی کلمه سازی دقت کن. چند کلمه می‌توانی بسازی؟



- میوه
- آهن
- بیله
- آهو
- جواب
- چاقو
- بوان
- چاه
- شیراز
- میزین

۴. در زمان‌های قدیم برای هر نشانه یک علامت در نظر گرفته بودند.

*	*	×	⊕	+	=	≡	-	
خ	چ	ج	ش	س	ت	پ	ب	آ
⊙	⊗	⊖	⊠	⊡	⊢	⊣	⊤	⊥
ن	م	ل	گ	ک	ز	ر	د	ای

برای مثال کلمه‌ی باد را به این صورت می‌نوشتند: —|○

حالا شما کلمه‌ی شیرینی را با کمک نشانه‌های داده شده بنویس.

دومین ماه فصل پاییز را با کمک نشانه‌های داده شده بنویس.

⊕ | ⊖ ⊗ ⊠ ⊡ ⊢ ⊣ ⊤ ⊥ کیتلاس

