



هفته آموزشی



پنجم

موضوع	شماره سوال
هوش ریاضی - درک مفهوم تفریق با انگشت و نمایش حاصل تفریق با استفاده از چوب خط	۱
هوش فضایی - جدول شگفت انگیز	۲
هوش کلامی	۳
سرعت، دقت، تمرکز	۴
هوش فضایی	۵









۱. انگشتان یک دست را باز کن و به تعداد شکل‌ها، از انگشتان خود ببند. باقی مانده را با چوب خط نشان بده.



۱. انگشتان یک دست را باز کن و به تعداد شکل ها، از انگشتان خود ببند. باقی مانده را با چوب خط نشان بده.



















۲. جدول شگفت لگیز زیر را کامل کن.

چهار هوش اول دبستان



۲. جدول شگفت انگیز زیر را کامل کن.

چهار هوش اول دبستان

۱۴



علوی

۳. با توجه به تصاویر کادر سمت راست، به جای ؟ کدام تصویر قرار می‌گیرد؟



(۴)



(۳)



(۲)




(۱)

علوی


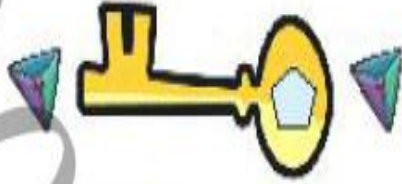
۳. با توجه به تصاویر کادر سمت راست، به جای ؟ کدام تصویر قرار می‌گیرد؟



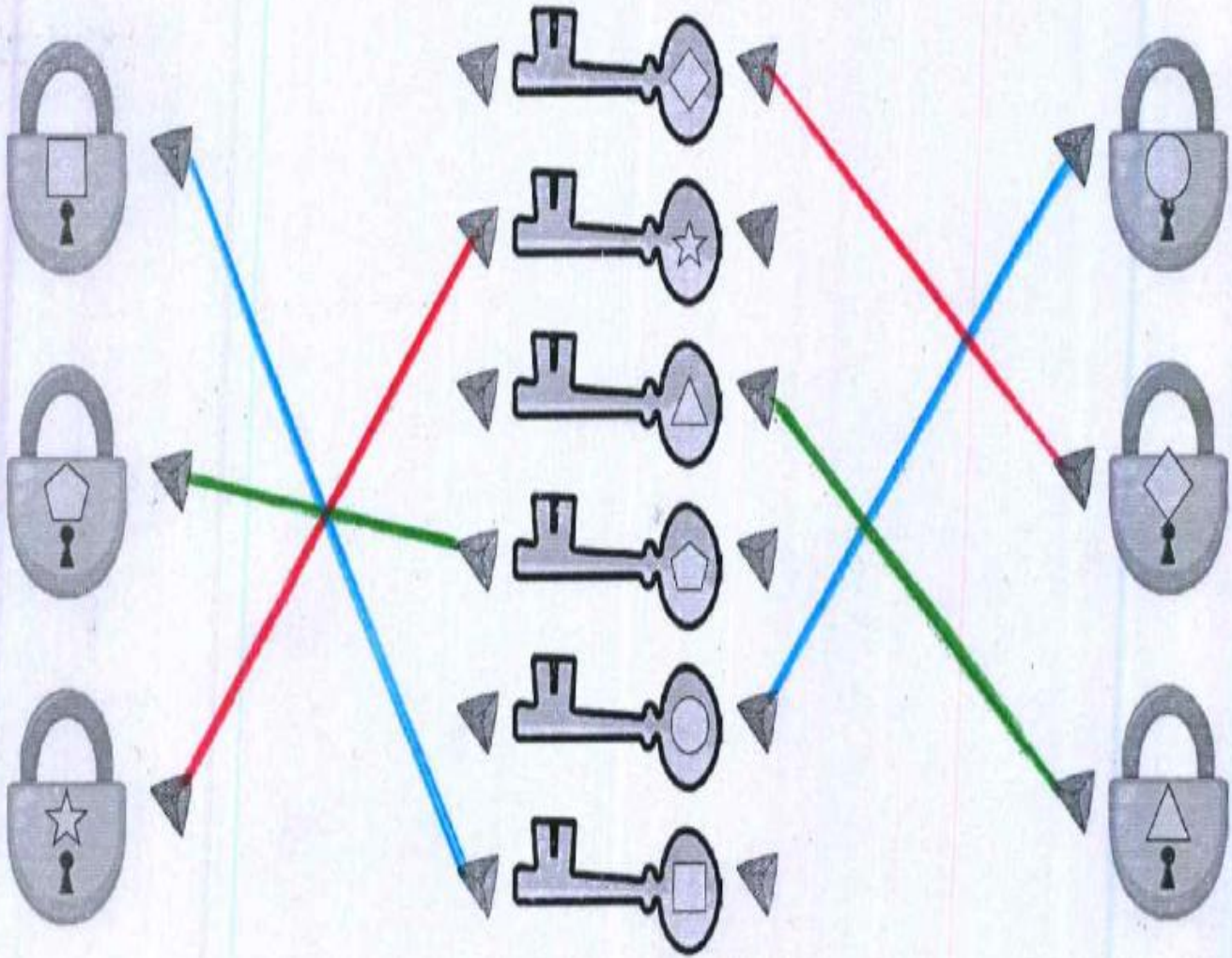
۳




۴. هر کلید را به قفل مخصوص خود وصل کن.



۴. هر کلید را به قفل مخصوص خود وصل کن.



۵. به جای ؟ کدام شکل را قرار می‌دهی؟



(۴)



(۳)



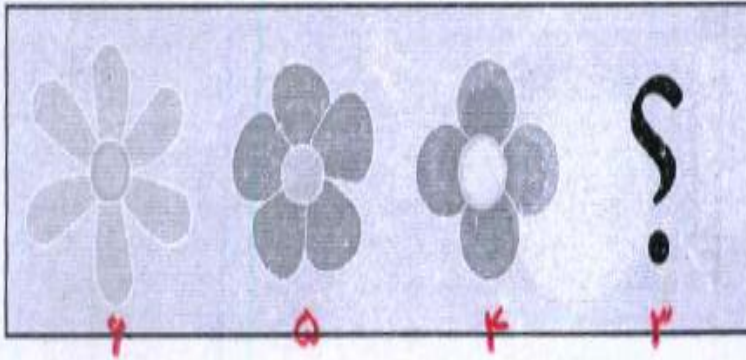
(۲)




(۱)



۵. به جای ؟ کدام شکل را قرار می دهی؟



۴



۳



۲









۱



۱. شکل‌های سمت چپ را با دست چپ و شکل‌های سمت راست را با دست راست نشان بده.

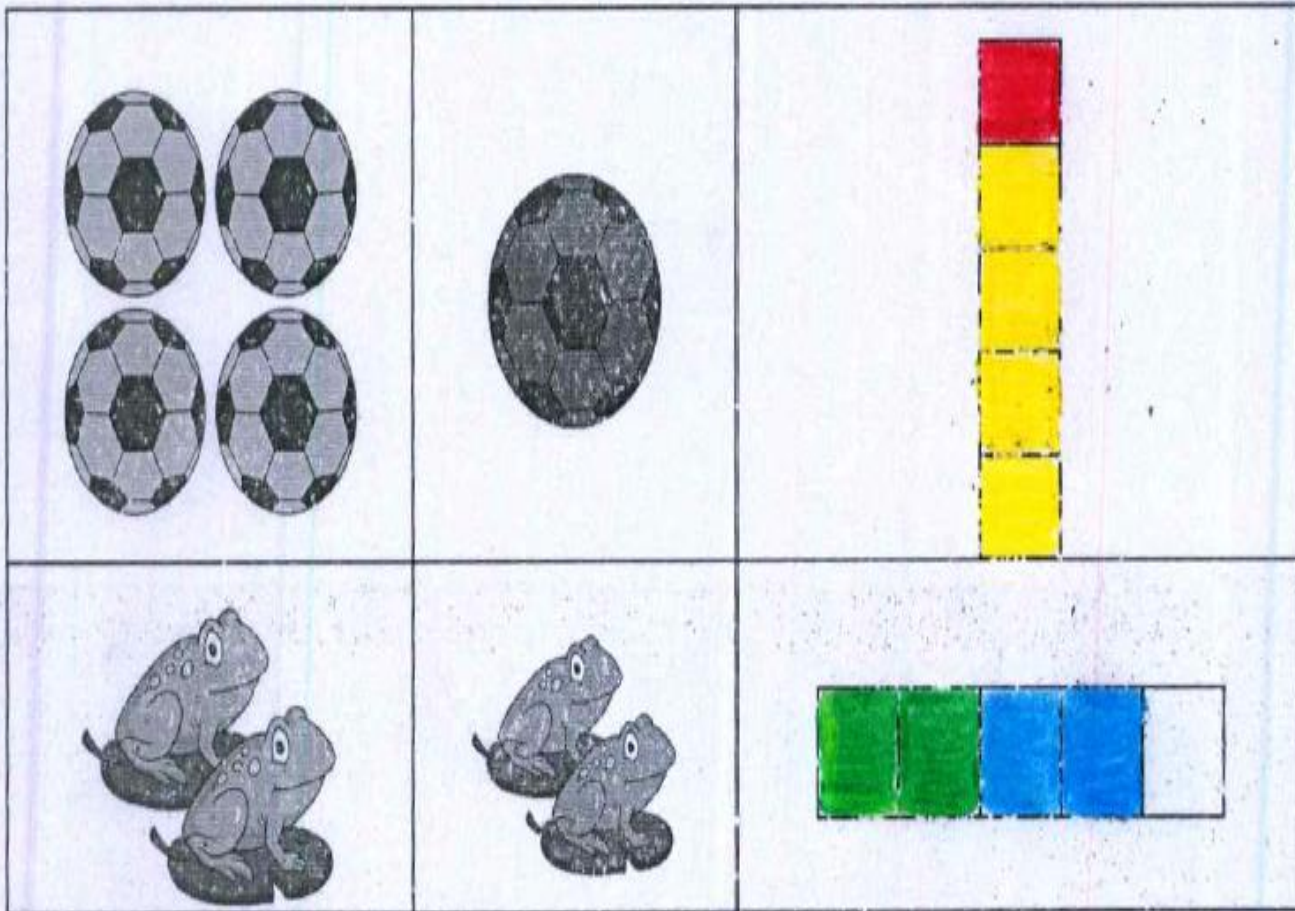
روی هم چندتا هستند؟ به همان اندازه از چینه‌ها رنگ بزن.



۱. شکل‌های سمت چپ را با دست چپ و شکل‌های سمت راست را با دست راست نشان بده.

روی هم چندتا هستند؟ به همان اندازه از چینه‌ها رنگ بزن.




۲. بادبادک بچه‌ها به رنگ لباس هایشان است. با مداد رنگی هایت هر بادبادک را دنبال کن و بادبادک را رنگ بزن.





چهار هوش اول دبستان



۲. بادبادک بچه‌ها به رنگ لباس‌هایشان است. با مداد رنگی هایت هر بادبادک را دنبال کن و بادبادک را رنگ بزن.





۳. اگر سارا با  در  در حال رفتن به مسافرت به سمت تهران باشد، مرجان با



کدام وسیله در  می تواند به سمت مشهد سفر کند؟



علوی

۳. اگر سارا با  در  در حال رفتن به مسافرت به سمت تهران باشد، مرجان با


کدام وسیله در  می تواند به سمت مشهد سفر کند؟



۴. در کدام تصویرها صدای (آ) چند بار تکرار شده است؟ دور آن‌ها خط بکش.



۴. در کدام تصویرها صدای (آ) چند بار تکرار شده است؟ دور آن‌ها خط بکش.



۵. نیمه‌ی دیگر هر شکل را پیدا کن و مانند هم رنگ بزنی.



کارگاه
۱۵/۳/۱۵



۵. نیمه‌ی دیگر هر شکل را پیدا کن و مانند هم رنگ بزن.

