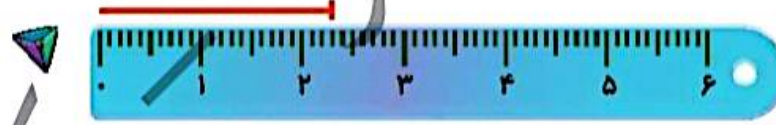
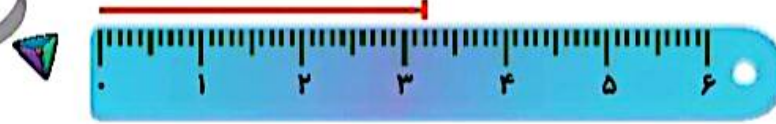


۴. اندازه‌ای که هر خطکش نشان می‌دهد، به عدد آن وصل کن.

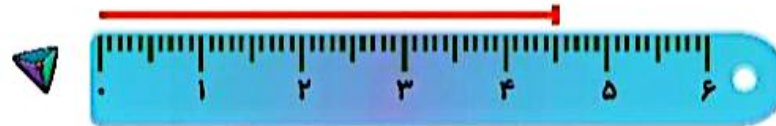
۵۴ میلی‌متر




۲۳ میلی‌متر



۴۵ میلی‌متر



۳۲ میلی‌متر



۲. ساجده ۷ سال داشت که برادرش به دنیا آمد. حالا از آن زمان ۵ سال گذشته است و هر دو بزرگ شده‌اند. حالا این خواهر و برادر روی هم چند سال دارند؟



چهارهوش دوم دبستان



48/4