

۳. جمع و تفریق‌ها را به روش داده شده انجام بده. سپس آن بادکنکی را که جوابش بین ۵۰۰ تا ۶۰۰ است

را قرمز کن.

$$\begin{array}{r} 125 \\ + 243 \\ \hline 368 \\ + 43 \\ \hline 411 \\ + 3 \\ \hline 414 \end{array}$$

$$\begin{array}{r} 523 \\ + 174 \\ \hline 697 \end{array}$$

$$\begin{array}{r} 684 \\ + 302 \\ \hline 986 \end{array}$$

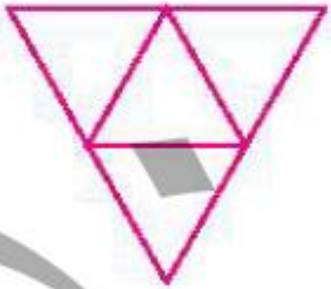
$$\begin{array}{r} 746 \\ - 224 \\ \hline 522 \end{array}$$

$$\begin{array}{r} 368 \\ - 104 \\ \hline 264 \end{array}$$

۴. در هر الگو، شکل بعدی را رسم کن.




۹




۹




۹




۹



۹




۹



۱. صبا یک دفتر و یک کتاب از فروشگاه لوازم التحریر خرید. او چقدر پول خرج کرده است؟ (با سکه بکش.)

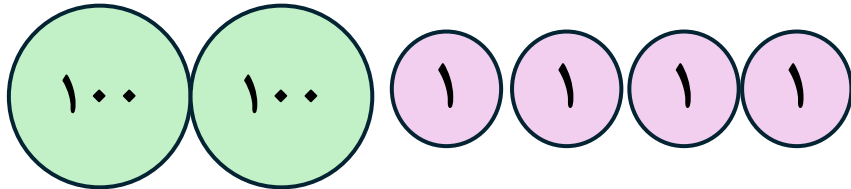



۲۰۴ ریال



۶۵۳ ریال

۸۵۷



۲. پرسا تصمیم گرفت به مناسبت تولد دوستش یک درخت بکارد و با این کار او را خوشحال کند. بعد از بررسی متوجه شد که می‌تواند به یک مجموعه این سفارش را بدهد. آن‌ها در مناطق مختلف با توجه به پوشش گیاهی، نهال می‌کارند و آن را آبیاری می‌کنند تا به خوبی رشد کرده و به طبیعت آن منطقه کمک کند. این هدیه هم به زمین کمک کرده و هم دیگران را شاد می‌کند، چون نهال به نام آن‌هاست. در روز درخت‌کاری (۱۵ اسفند) می‌توانی به کمک بزرگ‌ترها برای عزیزانتان این هدیه را تهیه کنی.

حال مراحل رشد دانه را توضیح بده.

❖ دانه را در زمین می‌کاریم.

❖ به دانه آب می‌دهیم.

❖ دانه با استفاده از هوا، نور خورشید، آب کافی به تدریج رشد می‌کند.

