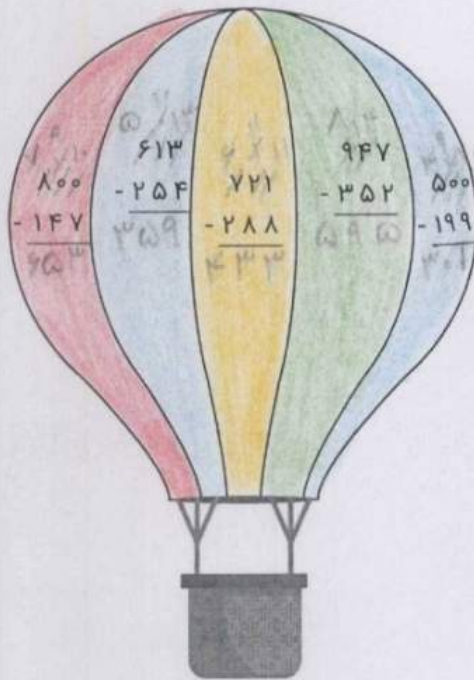


موضوع	شماره سوال	هفته آموزشی
هوش ریاضی- جمع و تفریق اعداد سه رقمی	۱	بیست و چهارم
هوش کلامی	۲	
هوش فضایی	۳	
سرعت، دقت، تمرکز	۴	

۱. با توجه به راهنما، بالن را رنگ آمیزی کن.



عدد	رنگ
۳۰۰ - ۴۰۰	آبی
۴۰۰ - ۵۰۰	زرد
۵۰۰ - ۶۰۰	سبز
۶۰۰ - ۷۰۰	قرمز

۲. به پرسش‌ها پاسخ بده و رمز قفل را پیدا کن.



- ◆ نشانه‌ی اول و آخر کلمه‌ی «نان»:
- ◆ دومین نشانه در کلمه‌ی «خوشحال»:
- ◆ اولین نشانه در کلمه‌ی «راست‌گو»:
- ◆ چهارمین نشانه در کلمه‌ی «ابرو»:
- ◆ اولین نشانه در کلمه‌ی «زاگرس»:

نشانه‌های به دست آمده را به ترتیب کنار هم بگذار و رمز قفل را پیدا کن.

نوروز




علوی

۳. اندازه‌ی مداد مشکی و قرمز را روی خطکش زیر مشخص کن. سپس اختلاف طول آن‌ها را با مداد سبز روی خطکش نشان بده.

◆ مداد مشکی: ۱۲۰ میلی‌متر

◆ مداد قرمز: ۱۸۳ میلی‌متر



۴. با توجه به قسمت‌های رنگ شده، هر عبارت را به شکل مناسبش وصل کن.

۳ قسمت از ۴ قسمت مساوی


۴ قسمت از ۶ قسمت مساوی

۵ قسمت از ۸ قسمت مساوی


۳ قسمت از ۸ قسمت مساوی

موضوع	شماره سوال	هفته آموزشی
هوش ریاضی	۱	بیست و پنجم
هوش فضایی	۲	
هوش کلامی	۳	
سرعت، دقت، تمرکز	۴	

۱. در این محورها هر واحد به قسمت‌های مساوی تقسیم شده و زنبوری روی گل این قسمت نشسته است.



این زنبور روی^۴ واحد و^۲ قسمت از^۵ قسمت مساوی نشسته است.



این زنبور روی^۳ واحد و^۴ قسمت از^۴ قسمت مساوی نشسته است.

۲. شکل‌هایی که به قسمت‌های مساوی تقسیم نشده است را رنگ کن.

