

علوی

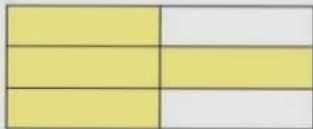
۳. اندازه‌ی مداد مشکی و قرمز را روی خطکش زیر مشخص کن. سپس اختلاف طول آن‌ها را با مداد سبز روی خطکش نشان بده.

♦ مداد مشکی: ۱۲۰ میلی‌متر

♦ مداد قرمز: ۱۸۳ میلی‌متر



۴. با توجه به قسمت‌های رنگ شده، هر عبارت را به شکل مناسبش وصل کن.



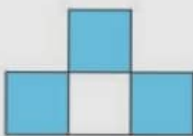
۳ قسمت از ۴ قسمت مساوی



۴ قسمت از ۶ قسمت مساوی



۵ قسمت از ۸ قسمت مساوی




۳ قسمت از ۸ قسمت مساوی



موضوع	شماره سؤال	هفته آموزشی
هوش ریاضی: جمع و تفریق اعداد سه رقمی	۱	بیست و چهارم
هوش کلامی	۲	
هوش فضایی	۳	
سرعت، دقت، تمرکز	۴	

۱. با توجه به راهنما، بالن را رنگ آمیزی کن.

عدد	رنگ
۳۰۰ - ۴۰۰	آبی
۴۰۰ - ۵۰۰	زرد
۵۰۰ - ۶۰۰	سبز
۶۰۰ - ۷۰۰	قرمز



۲. به پرسش‌ها پاسخ بده و رمز قفل را پیدا کن.


◆ نشانه‌ی اول و آخر کلمه‌ی «نان»:

◆ دومین نشانه در کلمه‌ی «خوشحال»:

◆ اولین نشانه در کلمه‌ی «راست‌گو»:

◆ چهارمین نشانه در کلمه‌ی «ابرو»:

◆ اولین نشانه در کلمه‌ی «زاگرس»:



نشانه‌های به دست آمده را به ترتیب کنار هم بگذار و رمز قفل را پیدا کن.


نوروز

علوی



۳. اندازه‌ی مداد مشکی و قرمز را روی خط‌کش زیر مشخص کن. سپس اختلاف طول آن‌ها را با مداد سبز روی خط‌کش نشان بده.

◆ مداد مشکی: ۱۲۰ میلی‌متر

◆ مداد قرمز: ۱۸۳ میلی‌متر



۴. با توجه به قسمت‌های رنگ شده، هر عبارت را به شکل مناسبش وصل کن.



۳ قسمت از ۴ قسمت مساوی

۴ قسمت از ۶ قسمت مساوی

۵ قسمت از ۸ قسمت مساوی

۳ قسمت از ۸ قسمت مساوی