



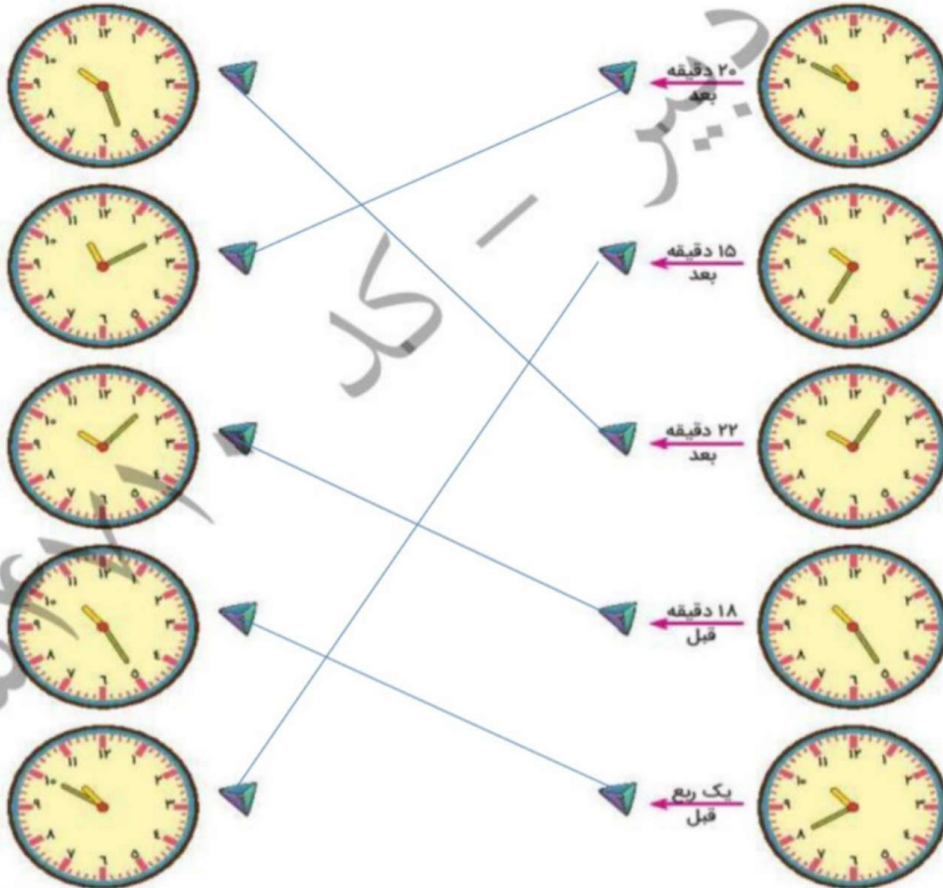
موضوع:

تاریخ:


نام و نام خانوادگی:

هدف:

۴. هر ساعت را به زمان خواسته شده وصل کن.



Google Chrome





موضوع:

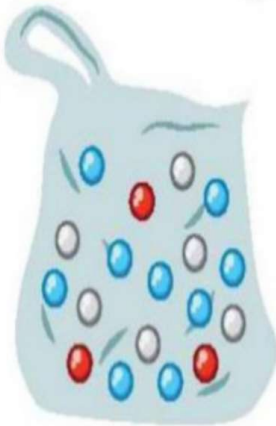
تاریخ

نام و نام خانوادگی

هدف:

علوی

۳. در یک کیسه ۱۸ مهره داریم. ۶ مهره سفید، ۳ مهره قرمز و ۹ مهره آبی.



جملات را با توجه به تعداد مهره‌ها کامل کن.

.....۶ مهره از۱۸ مهره، سفید است.

.....۱۲ مهره از۱۸ مهره، قرمز و آبی است.

۴. مجید برای خودش و مادر بزرگش میوه خریده است. به کیسه‌های او نگاه کرده و جاهای خالی را کامل کن.

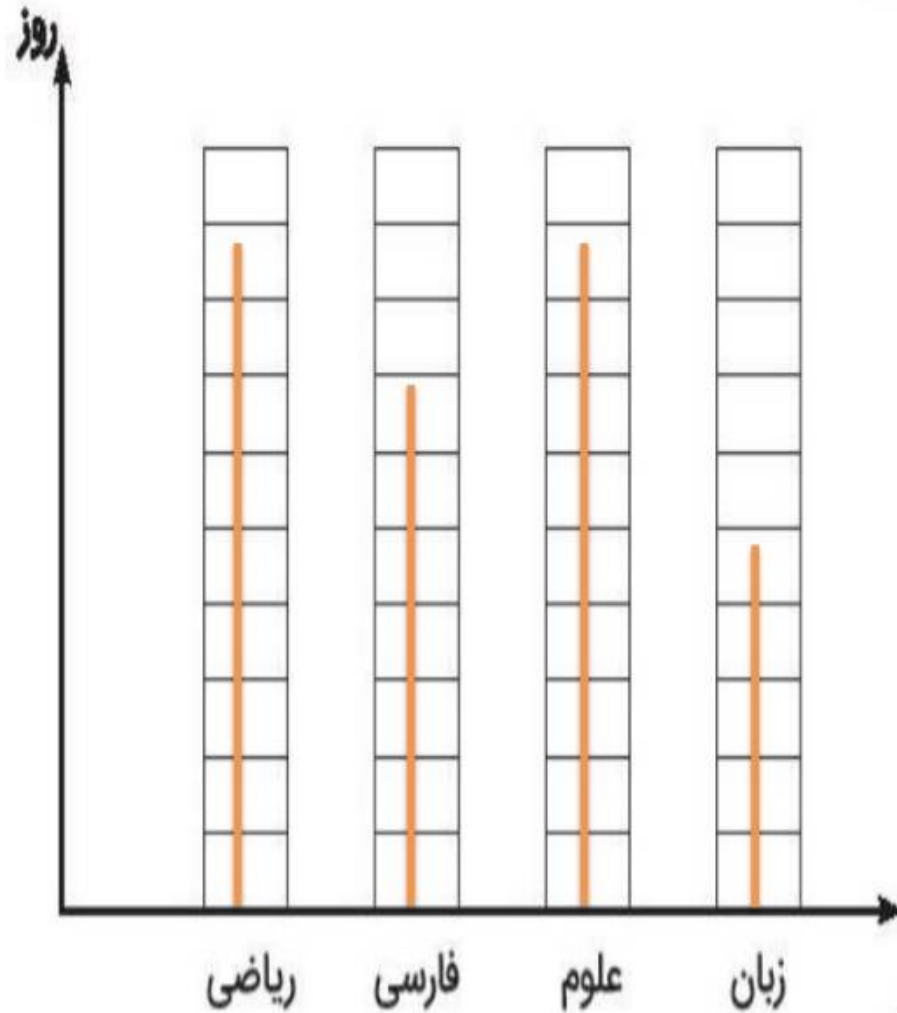
.....۳ دسته‌ی۲ تایی موز می‌شود۶.....

.....۲ دسته‌ی۳ تایی سیب می‌شود۶.....




۱. سارا در ماه مهر، ۹ روز ریاضی، ۵ روز زبان، ۷ روز فارسی و در بقیه‌ی روزها علوم خوانده است. جدول و

نمودار زیر را طبق روزهای مطالعه‌ی او کامل کن.



تعداد روزهای مطالعه	درس
۹	ریاضی
۷	فارسی
۹	علوم
۵	زبان

۳. شکل سمت راست را در صفحه‌ی سمت چپ رسم کن.



۴. الف) دور عددهای زوج را با دایره‌ی قرمز رنگ و دور عددهای فرد را با مربع سبز رنگ خط بکش.

۷۲ - ۱۱۴ - ۵۰ - ۹ - ۳۴۸ - ۶۰۱ - ۱۷

