

۴. در یک مزرعه ۷ گاو و مرغ وجود دارد. اگر مجموع پاهای آنها ۲۲ تا باشد، چند مرغ و چند گاو در این

باغ است؟


(۱) ۲ مرغ و ۵ گاو

(۲) ۳ مرغ و ۴ گاو

(۳) ۵ مرغ و ۲ گاو

(۴) ۴ مرغ و ۳ گاو

سوال ۴ صفحه ۴۵



۴. در یک مزرعه ۷ گاو و مرغ وجود دارد. اگر مجموع پاهای آنها ۲۲ تا باشد، چند مرغ و چند گاو در این باغ است؟




(۱) ۲ مرغ و ۵ گاو

(۲) ۳ مرغ و ۴ گاو

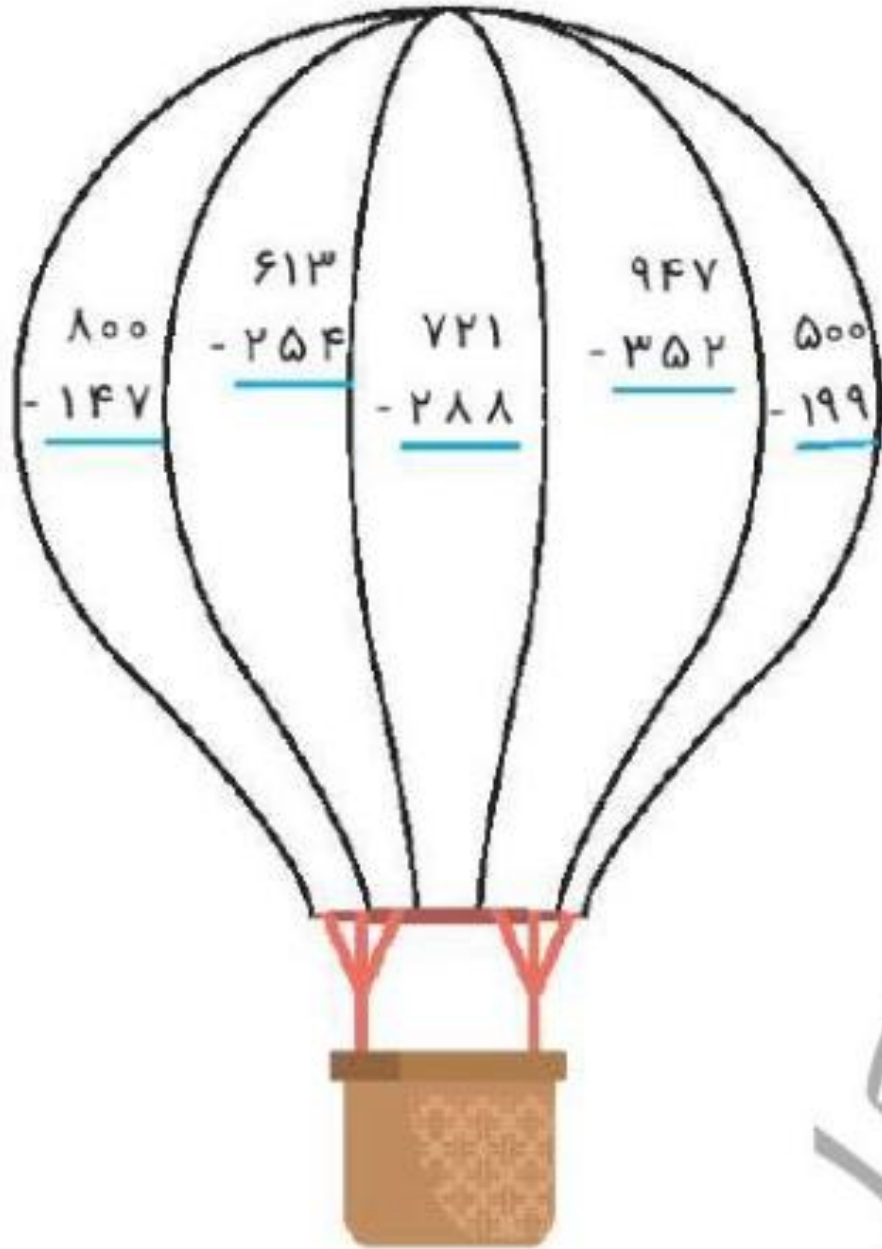
(۳) ۵ مرغ و ۲ گاو

(۴) ۴ مرغ و ۳ گاو

$$۴ + ۴ + ۴ + ۴ + ۲ + ۲ + ۲ = ۲۲$$



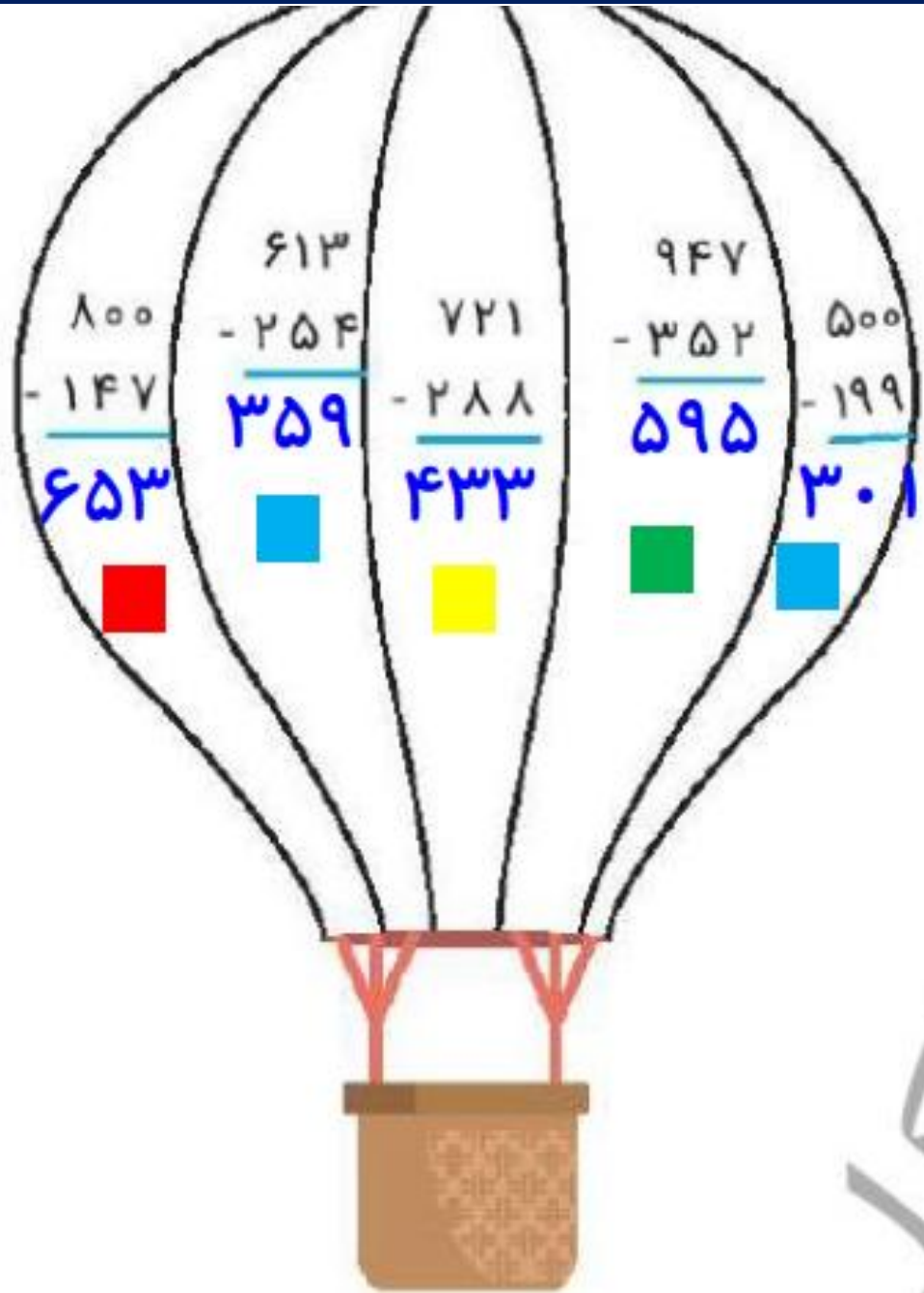
۱. با توجه به راهنما، بالن را رنگ آمیزی کن.



عدد	رنگ
۳۰۰ - ۴۰۰	آبی
۴۰۰ - ۵۰۰	زرد
۵۰۰ - ۶۰۰	سبز
۶۰۰ - ۷۰۰	قرمز

سوال ۱ صفحه ۵۲

۱. با توجه به راهنما، بالن را رنگ آمیزی کن.



عدد	رنگ
۳۰۰ - ۴۰۰	آبی
۴۰۰ - ۵۰۰	زرد
۵۰۰ - ۶۰۰	سبز
۶۰۰ - ۷۰۰	قرمز

دخترم از روش تکنیکی حل کن.