

# پاسخ نامه ی هوش

۱. حاصل تقریبی کدام ضربها برابر است، وصل کن.

$78 \times 31$



$48 \times 63$



$53 \times 62$



$148 \times 9$



$49 \times 29$



$59 \times 37$



$91 \times 49$



$52 \times 88$



۲. در چهار جعبه ۲۴ تخم مرغ قرار دارد. در ۱۰ جعبه چند تخم مرغ قرار دارد؟ (تعداد تخم مرغهای موجود در جعبه‌ها برابر است).

---











---



---

۱. حاصل تقریبی کدام ضربها برابر است، وصل کن.

$۸۰ \times ۳۰$	$۷۸ \times ۳۱$			$۴۸ \times ۶۳$	$۵۰ \times ۶۰$
$۵۰ \times ۶۰$	$۵۳ \times ۶۲$			$۱۴۸ \times ۹$	$۱۵۰ \times ۱۰$
$۵۰ \times ۳۰$	$۴۹ \times ۲۹$			$۵۹ \times ۳۷$	$۶۰ \times ۴۰$
$۹۰ \times ۵۰$	$۹۱ \times ۴۹$			$۵۲ \times ۸۸$	$۵۰ \times ۹۰$

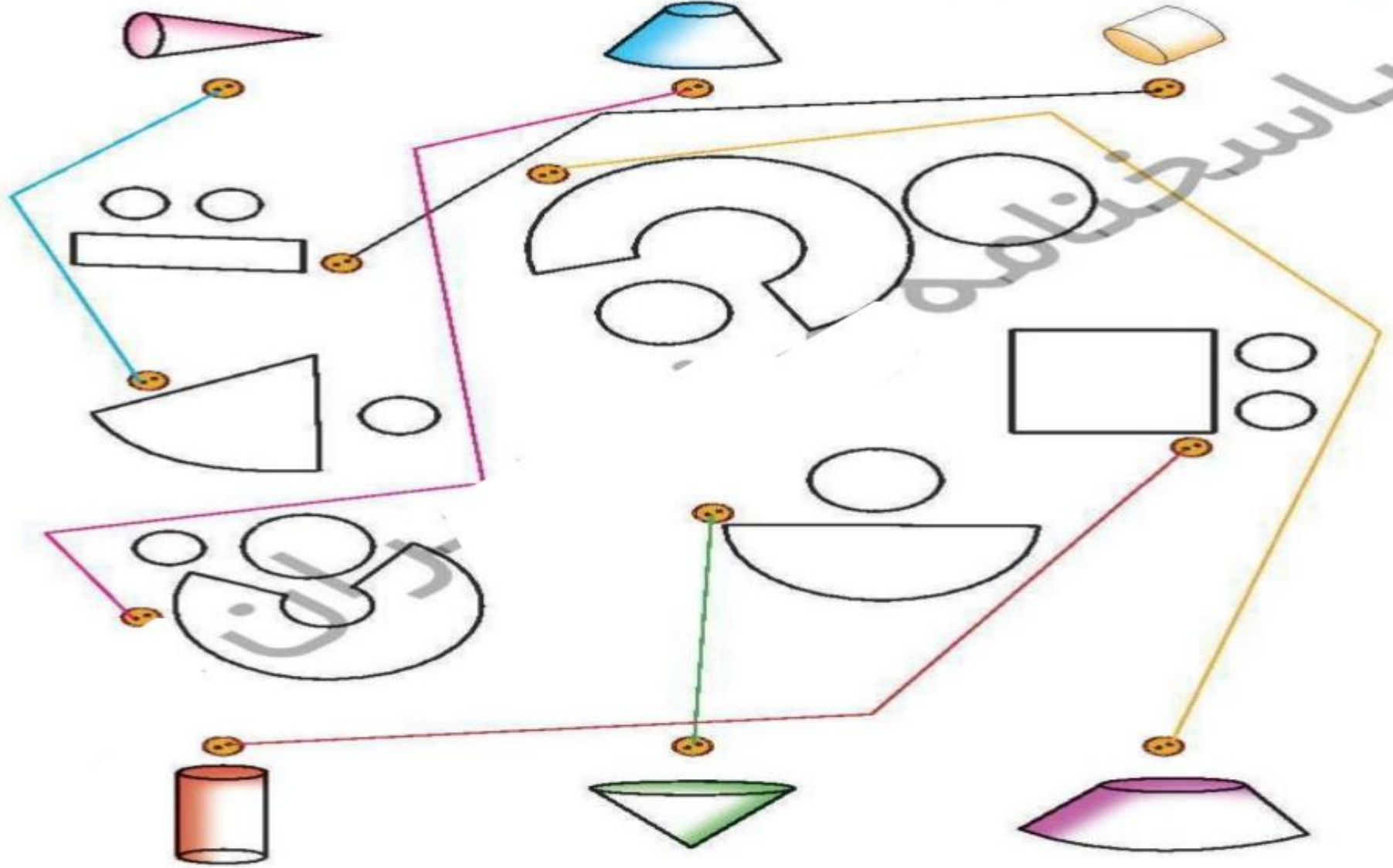
۲. در چهار جعبه ۲۴ تخم مرغ قرار دارد. در ۱۰ جعبه چند تخم مرغ قرار دارد؟ (تعداد تخم مرغهای موجود در جعبه‌ها برابر است).

۴ جعبه ← ۲۴ تخم مرغ

$$۲۴ \div ۴ = ۶ \text{ تخم مرغ}$$

$$۱۰ \times ۶ = ۶۰ \text{ در ۱۰ جعبه}$$

۴. گسترده‌ی حجم‌های بالا و پایین صفحه را به آنها برسان.



۱. برای یک جشن سه بسته‌ی ۷ تایی و چهار بسته‌ی ۲ تایی شکلات خریده‌ایم. اگر بخواهیم به هشت نفر به

تعداد برابر شکلات بدهیم، به هر کس چقدر می‌رسد؟ چقدر باقی می‌ماند؟

-----

-----

-----



۷۰

۱. برای یک جشن سه بسته‌ی ۷ تایی و چهار بسته‌ی ۲ تایی شکلات خریده‌ایم. اگر بخواهیم به هشت نفر به تعداد برابر شکلات بدهیم، به هر کس چقدر می‌رسد؟ چقدر باقی می‌ماند؟

$$[3 \times 7] + [4 \times 2] = 21 + 8 = 29$$

$$8 \times 8 = 64$$

به هر نفر ۸ تا می‌رسد

$$29 - 64 = 5$$

باقی مانده ۵