

علوی

مدارس هزاره سوم

بِه نام خدا

چهار هوش

آموزگار: منیره صدیقی

به نام خداوند بود و نبود

۲

# چهار هوش

نسخه




## هفته آموزشی

### بیستم

موضوع	شماره سؤال
هوش ریاضی- اندازه گیری	۱
هوش کلامی	۲
هوش فضایی	۳
سرعت، دقت، تمرکز	۴


۱. طول خطهای زیر را نخست به صورت تقریبی بر حسب سانتی متر حدس بزن و سپس آنها را اندازه گیری کرده و جاهای خالی را پر کن.

(راهنمایی: می توانی از یک نخ برای اندازه گیری دقیق خطها استفاده کنی.)



..... حدس

بین ..... و ..... سانتی متر



..... حدس

بین ..... و ..... سانتی متر



..... حدس

بین ..... و ..... سانتی متر



۲. یکی از معروف‌ترین شاعران و نویسندگان ایرانی است. او حدود ۷۰۰ سال پیش در شیراز متولد شد. نام کوچک وی «مُصلِح» بود. او در ۱۲ سالگی پدر خود را از دست داد. سعدی برای تحصیلات به مدرسه‌ی نظامیه در بغداد رفت، سپس به شیراز بازگشت. آرامگاه سعدی معروف به «سعدیه» در شیراز قرار دارد. از مهم‌ترین آثار او بوستان و گلستان است.

الف) سعدی در کجا تحصیل کرده است؟

ب) دو آثار مهم او را نام ببر.

پ) نام کوچک او چیست؟

ت) محل تولد و آرامگاه او در کدام شهر قرار دارد؟





۲. یکی از معروف‌ترین شاعران و نویسندگان ایرانی است. او حدود ۷۰۰ سال پیش در شیراز متولد شد. نام کوچک وی «مُصلح» بود. او در ۱۲ سالگی پدر خود را از دست داد. سعدی برای تحصیلات به مدرسه‌ی نظامیه در بغداد رفت، سپس به شیراز بازگشت. آرامگاه سعدی معروف به «سعدیه» در شیراز قرار دارد. از مهم‌ترین آثار او بوستان و گلستان است.

الف) سعدی در کجا تحصیل کرده است؟ **مدرسه‌ی نظامیه در بغداد**


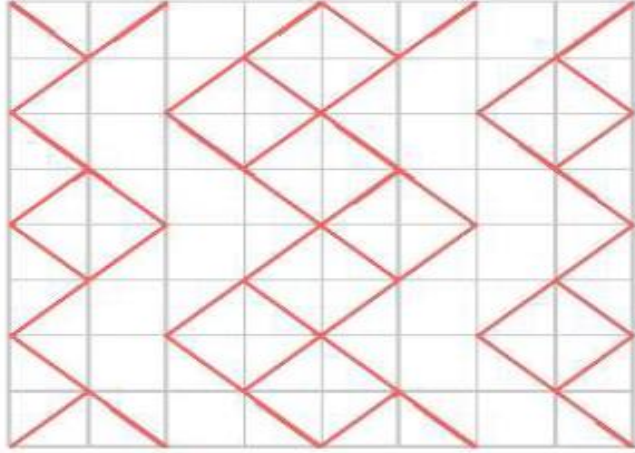
ب) دو آثار مهم او را نام ببر. **بوستان و گلستان**

پ) نام کوچک او چیست؟ **مصلح**

ت) محل تولد و آرامگاه او در کدام شهر قرار دارد؟ **شیراز**



۳. شکل سمت چپ را در جدول سمت راست با خط کش رسم کن.



صفحه ی ۴۵ کتاب چهار هوش

نسخه

دبیر

کار


۴. در یک مزرعه ۷ گاو و مرغ وجود دارد. اگر مجموع پاهای آن‌ها ۲۲ تا باشد، چند مرغ و چند گاو در این باغ است؟

(۱) ۲ مرغ و ۵ گاو

(۲) ۳ مرغ و ۴ گاو

(۳) ۵ مرغ و ۲ گاو

(۴) ۴ مرغ و ۳ گاو



۴. در یک مزرعه ۷ گاو و مرغ وجود دارد. اگر مجموع پاهای آن‌ها ۲۲ تا باشد، چند مرغ و چند گاو در این


باغ است؟

(۱) ۲ مرغ و ۵ گاو


(۲) ۳ مرغ و ۴ گاو

(۳) ۵ مرغ و ۲ گاو

(۴) ۴ مرغ و ۳ گاو



$$۴ + ۴ + ۴ + ۴ + ۲ + ۲ + ۲ = ۲۲$$



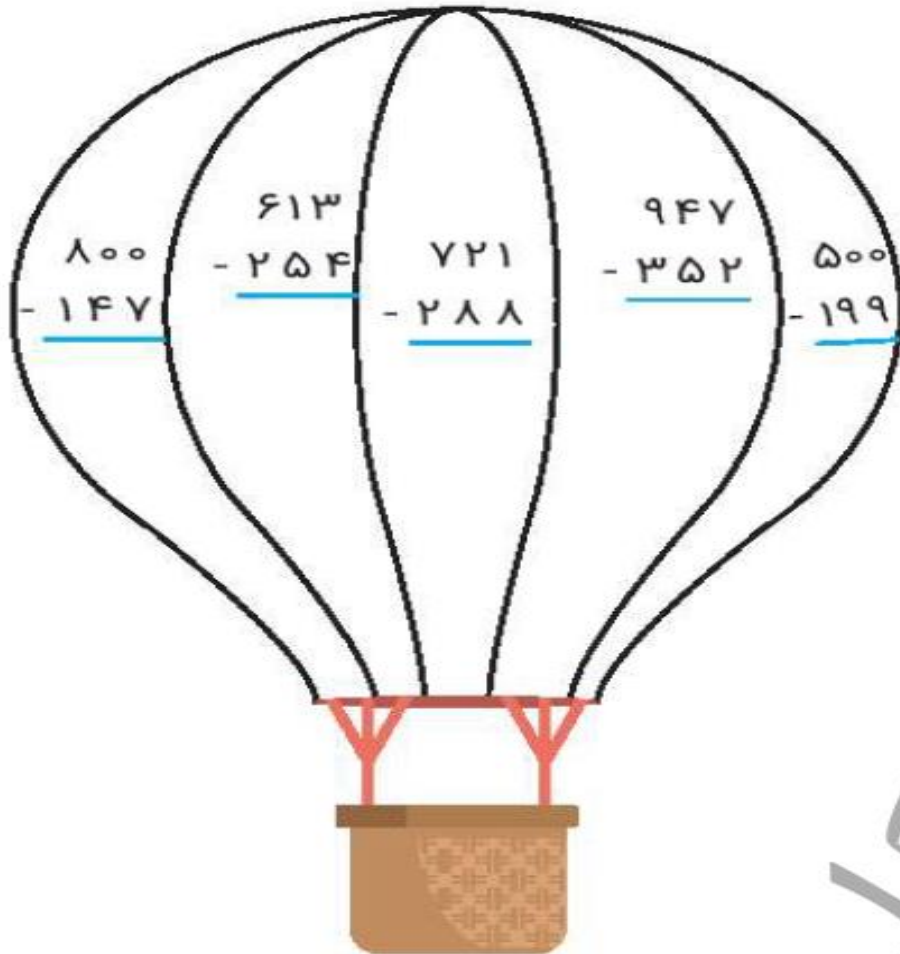
صفحه ی ۴۵ کتاب چهار هوش

## هفته آموزشی

## بیست و چهارم

شماره سؤال	موضوع
۱	هوش ریاضی- جمع و تفریق اعداد سه رقمی
۲	هوش کلامی
۳	هوش فضایی
۴	سرعت، دقت، تمرکز

صفحه ی ۵۲ کتاب چهار هوش



۱. با توجه به راهنما، بالن را رنگ آمیزی کن.

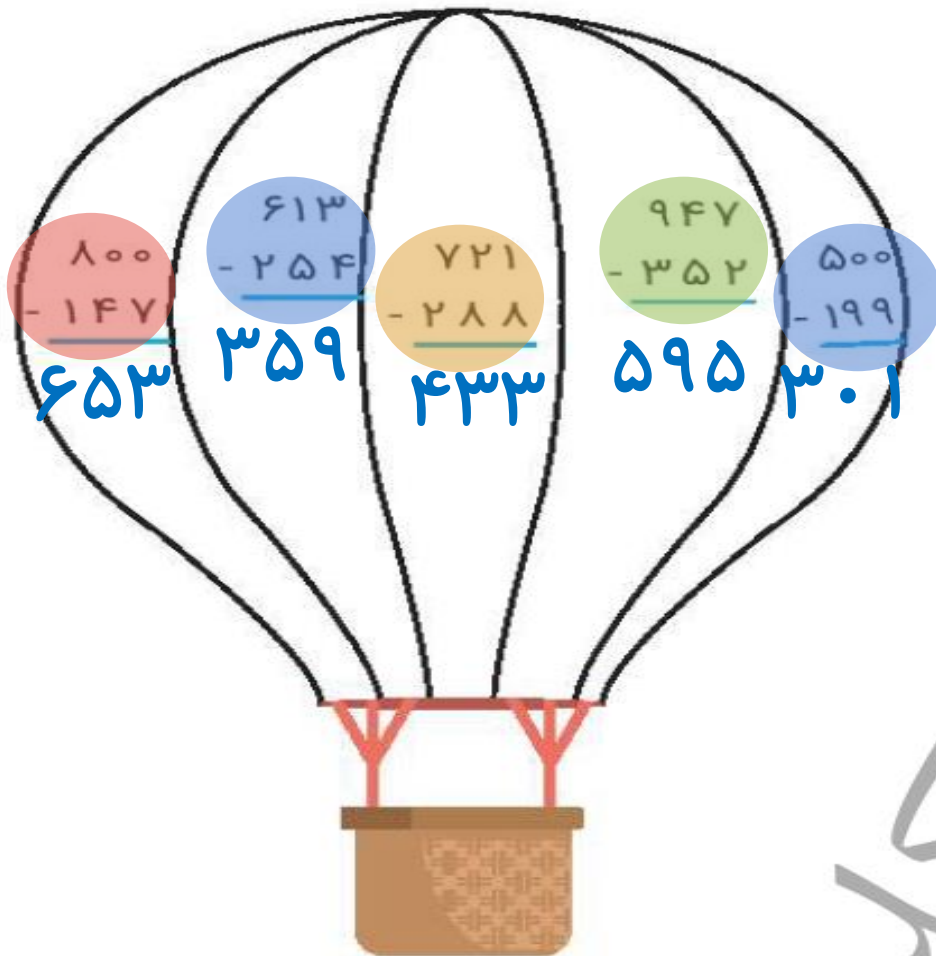
عدد	رنگ
۳۰۰ - ۴۰۰	آبی
۴۰۰ - ۵۰۰	زرد
۵۰۰ - ۶۰۰	سبز
۶۰۰ - ۷۰۰	قرمز

## هفته آموزشی

## بیست و چهارم

موضوع	شماره سؤال
هوش ریاضی- جمع و تفریق اعداد سه رقمی	۱
هوش کلامی	۲
هوش فضایی	۳
سرعت، دقت، تمرکز	۴

صفحه ی ۵۲ کتاب چهار هوش



۱. با توجه به راهنما، بالن را رنگ آمیزی کن.

عدد	رنگ
۳۰۰ - ۴۰۰	آبی
۴۰۰ - ۵۰۰	زرد
۵۰۰ - ۶۰۰	سبز
۶۰۰ - ۷۰۰	قرمز

۲. به پرسش‌ها پاسخ بده و رمز قفل را پیدا کن.

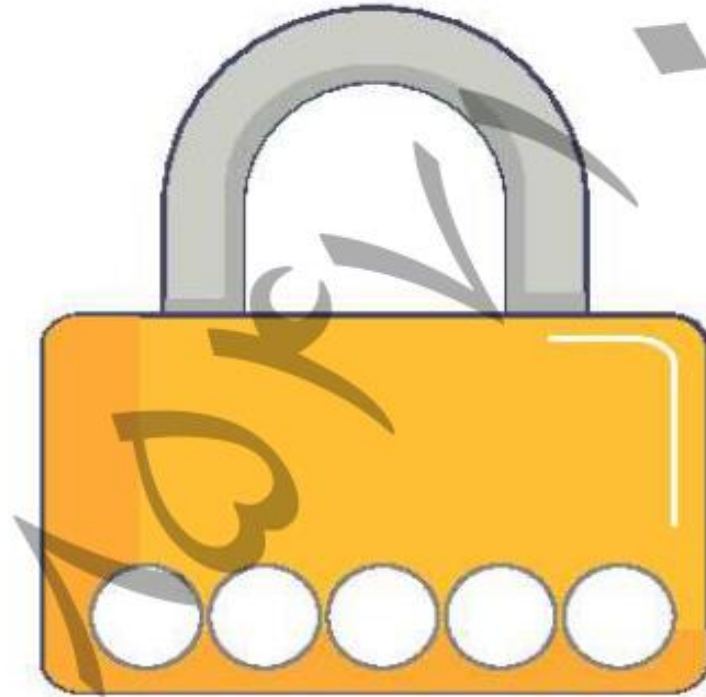
◆ نشانه‌ی اول و آخر کلمه‌ی «نان»:

◆ دومین نشانه در کلمه‌ی «خوشحال»:

◆ اولین نشانه در کلمه‌ی «راست‌گو»:

◆ چهارمین نشانه در کلمه‌ی «ابرو»:

◆ اولین نشانه در کلمه‌ی «زاگرس»:



نشانه‌های به‌دست آمده را به‌ترتیب کنار هم بگذار و رمز قفل را پیدا کن.



۲. به پرسش‌ها پاسخ بده و رمز قفل را پیدا کن.

◆ نشانه‌ی اول و آخر کلمه‌ی «نان»:

◆ دومین نشانه در کلمه‌ی «خوشحال»:

◆ اولین نشانه در کلمه‌ی «راست‌گو»:

◆ چهارمین نشانه در کلمه‌ی «ابرو»:

◆ اولین نشانه در کلمه‌ی «زاگرس»:



نشانه‌های به‌دست آمده را به‌ترتیب کنار هم بگذار و رمز قفل را پیدا کن.

نوروز

صفحه ی ۵۲ کتاب چهار هوش

چهار هوش دوم دبستان

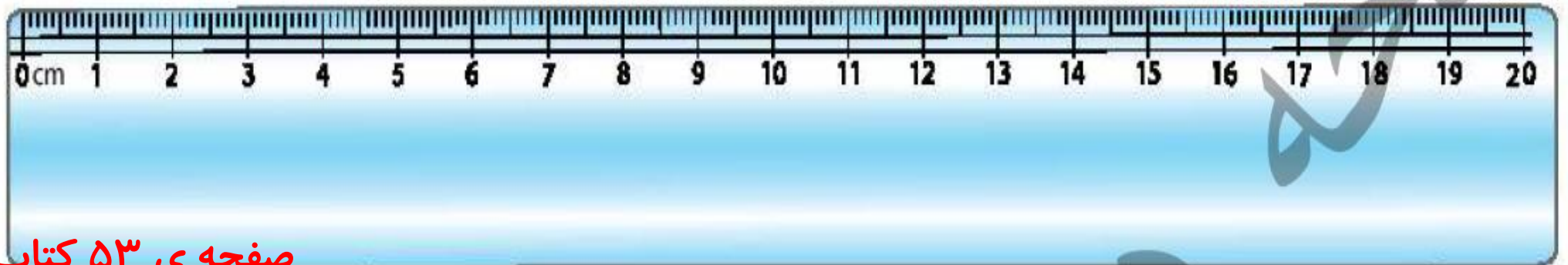


۳. اندازه‌ی مداد مشکی و قرمز را روی خطکش زیر مشخص کن. سپس اختلاف طول آن‌ها را با مداد سبز

روی خطکش نشان بده.

♦ مداد مشکی: ۱۲۰ میلی‌متر

♦ مداد قرمز: ۱۸۳ میلی‌متر

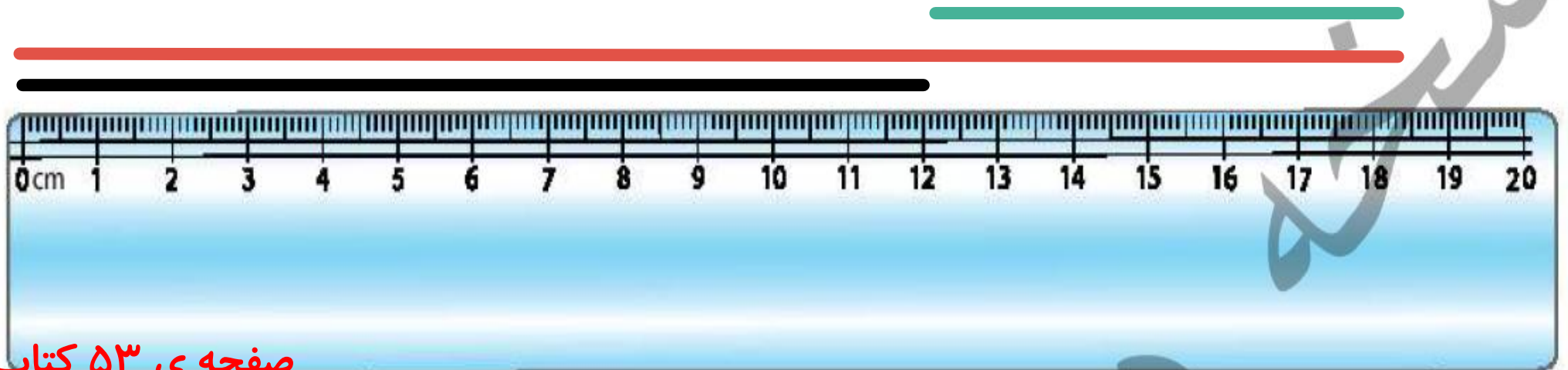


۳. اندازه‌ی مداد مشکی و قرمز را روی خطکش زیر مشخص کن. سپس اختلاف طول آن‌ها را با مداد سبز

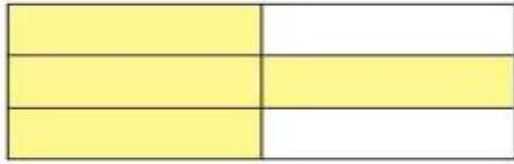
روی خطکش نشان بده.

♦ مداد مشکی: ۱۲<sup>۰</sup> میلی‌متر

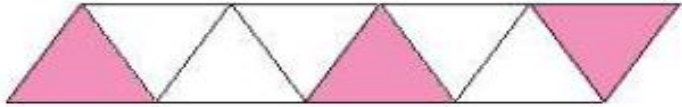
♦ مداد قرمز: ۱۸<sup>۳</sup> میلی‌متر



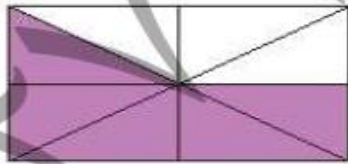
۴. با توجه به قسمت‌های رنگ شده، هر عبارت را به شکل مناسبش وصل کن.




۳ قسمت از ۴ قسمت مساوی



۴ قسمت از ۶ قسمت مساوی

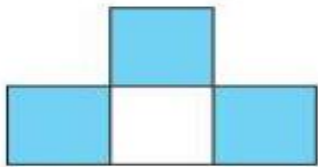
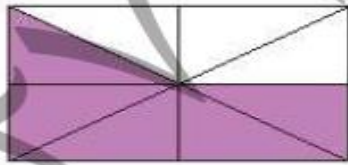
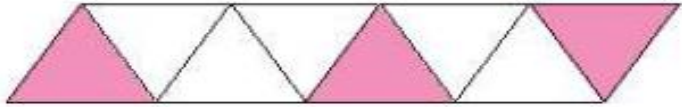
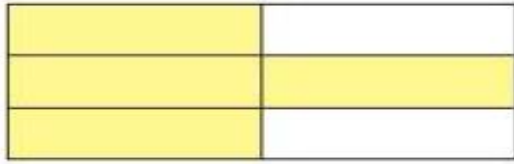


۵ قسمت از ۸ قسمت مساوی



۳ قسمت از ۸ قسمت مساوی

۴. با توجه به قسمت‌های رنگ شده، هر عبارت را به شکل مناسبش وصل کن.



۳ قسمت از ۴ قسمت مساوی



۴ قسمت از ۶ قسمت مساوی



۵ قسمت از ۸ قسمت مساوی



۳ قسمت از ۸ قسمت مساوی

پسرهای باهوشم موفق باشید.

صدیقی