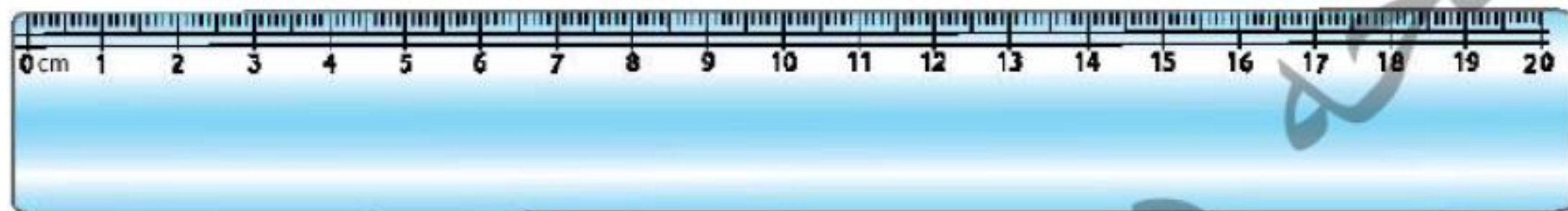


۳. اندازه‌ی مداد مشکی و قرمز را روی خط‌کش زیر مشخص کن. سپس اختلاف طول آن‌ها را با مداد سبز روی خط‌کش نشان بده.

♦ مداد مشکی: ۱۲۰ میلی‌متر

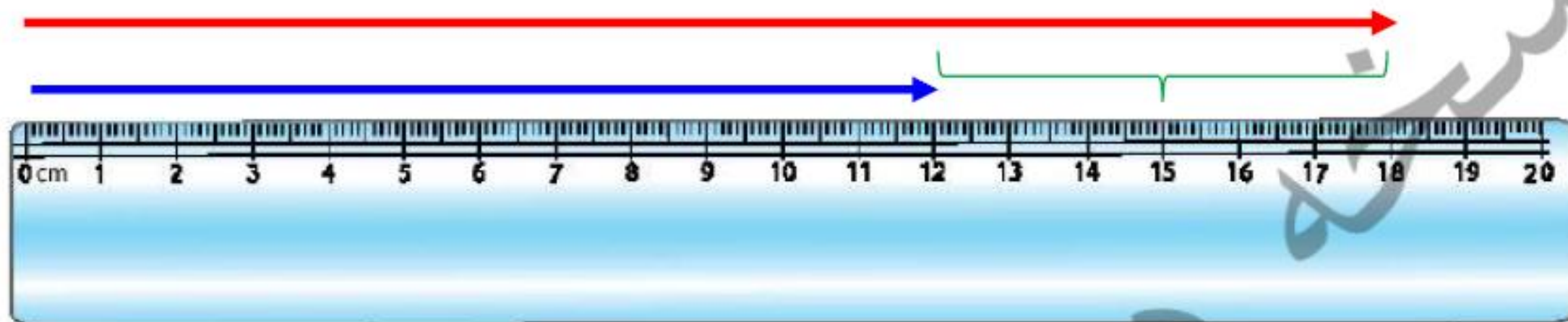
♦ مداد قرمز: ۱۸۳ میلی‌متر



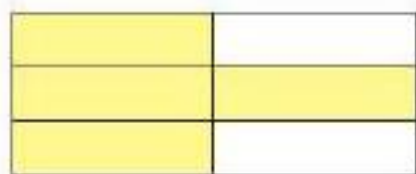
۳. اندازه‌ی مداد مشکی و قرمز را روی خط‌کش زیر مشخص کن. سپس اختلاف طول آن‌ها را با مداد سبز روی خط‌کش نشان بده.

♦ مداد مشکی: ۱۲۰ میلی‌متر ۱۲ سانتیمتر

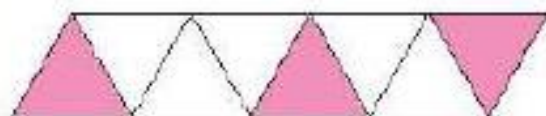
♦ مداد قرمز: ۱۸۳ میلی‌متر ۱۸ س ۳ م



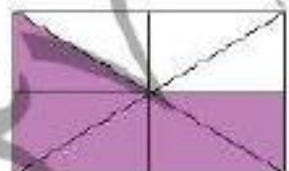
۴. با توجه به قسمت‌های رنگ شده، هر عبارت را به شکل مناسبش وصل کن.



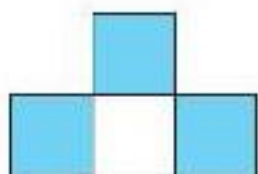
۳ قسمت از ۴ قسمت مساوی



۴ قسمت از ۶ قسمت مساوی

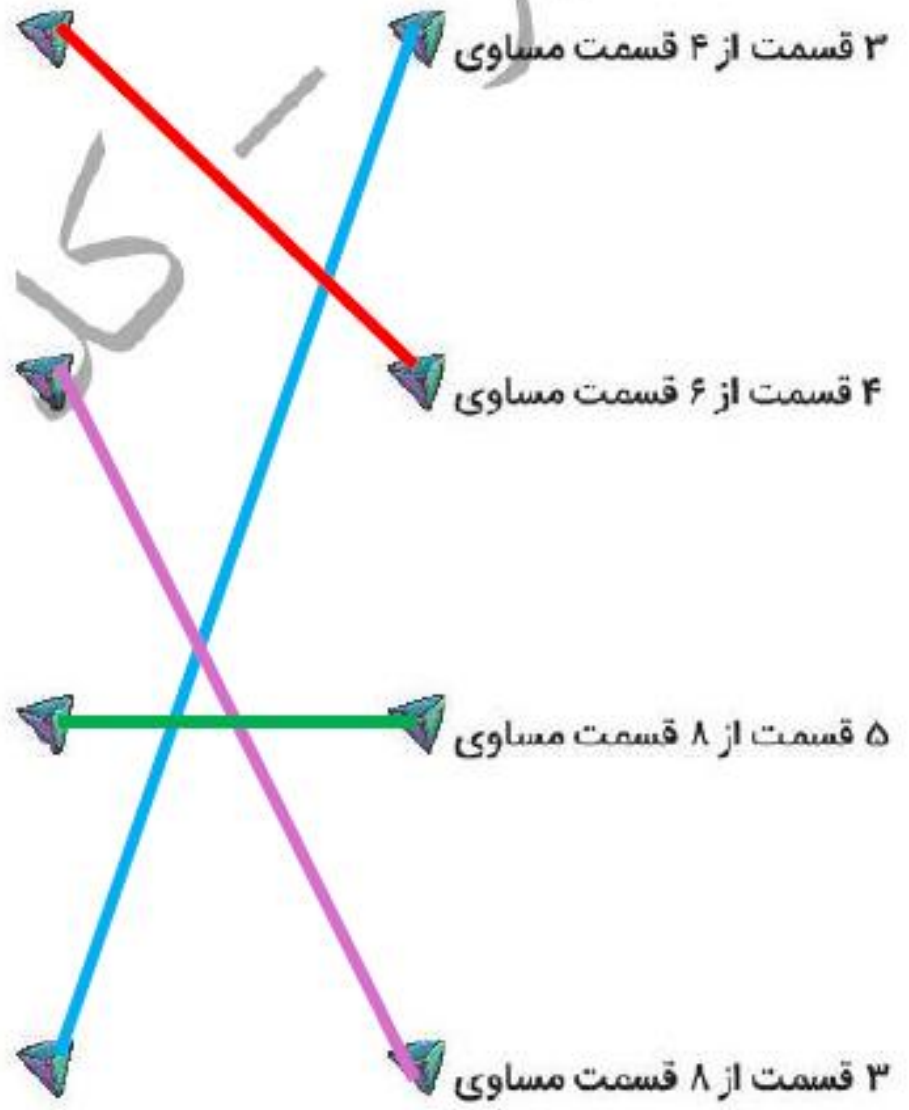
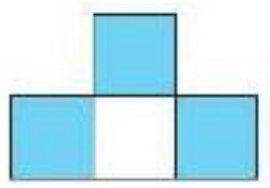
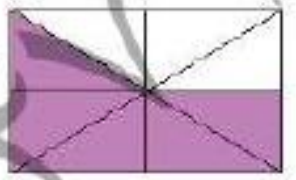
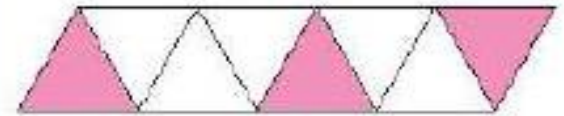
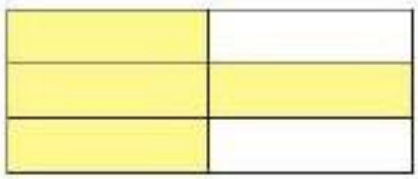


۵ قسمت از ۸ قسمت مساوی




۳ قسمت از ۸ قسمت مساوی

۴. با توجه به قسمت‌های رنگ شده، هر عبارت را به شکل مناسبش وصل کن.

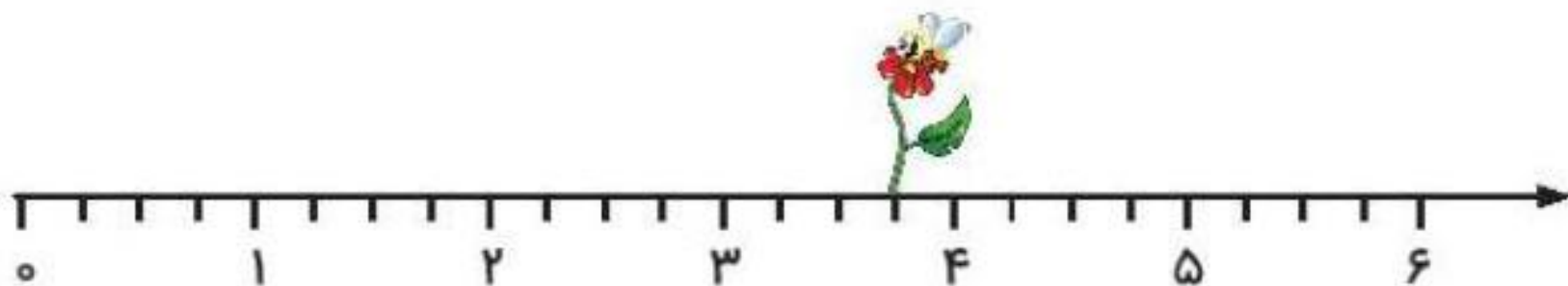


۱. در این محورها هر واحد به قسمت‌های مساوی تقسیم شده و زنبوری روی گل این قسمت نشسته است.



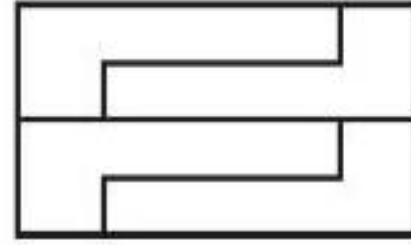
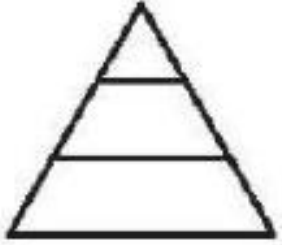
تکلیف دانش آموز

این زنبور روی واحد و قسمت از قسمت مساوی نشسته است.



این زنبور روی واحد و قسمت از قسمت مساوی نشسته است.

۲. شکل‌هایی که به قسمت‌های مساوی تقسیم نشده است را رنگ کن.



تکلیف دانش آموز

