

علوی

مدارس هزاره سوم

بِه نام خدا

چهار هوش

آموزگار: منیره صدیقی

به نام خداوند بود و نبود

۲


چهار هوش

نسخه

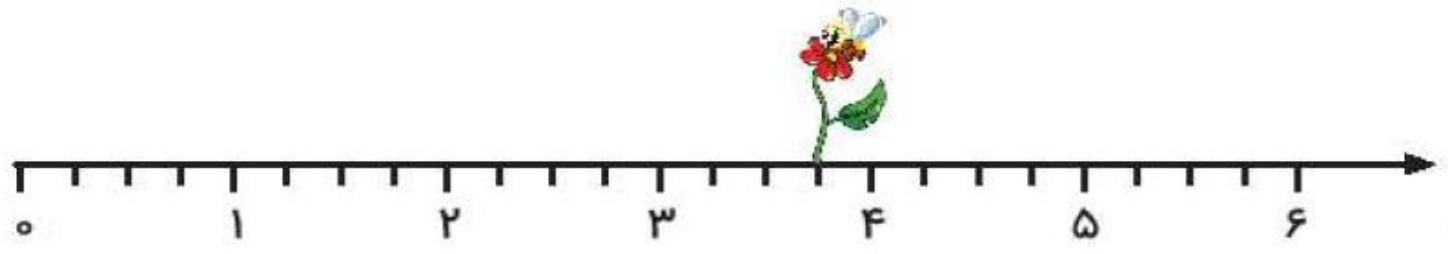


موضوع	شماره سؤال
هوش ریاضی	۱
هوش فضایی	۲
هوش کلامی	۳
سرعت، دقت، تمرکز	۴

۱. در این محورها هر واحد به قسمت‌های مساوی تقسیم شده و زنبوری روی گل این قسمت نشسته است.



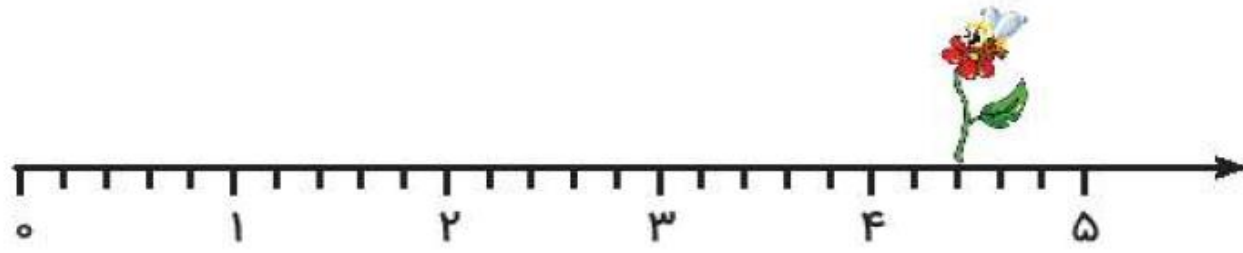
این زنبور روی واحد و قسمت از قسمت مساوی نشسته است.



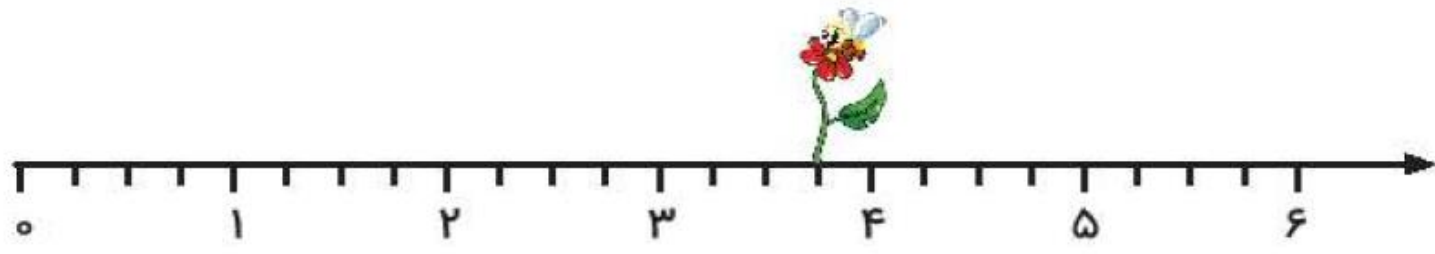
این زنبور روی واحد و قسمت از قسمت مساوی نشسته است.

موضوع	شماره سؤال
هوش ریاضی	۱
هوش فضایی	۲
هوش کلامی	۳
سرعت، دقت، تمرکز	۴

۱. در این محورها هر واحد به قسمت‌های مساوی تقسیم شده و زنبوری روی گل این قسمت نشسته است.

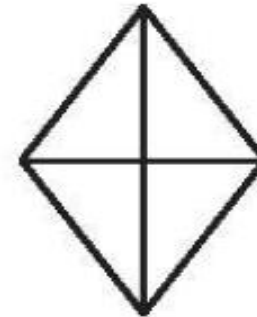
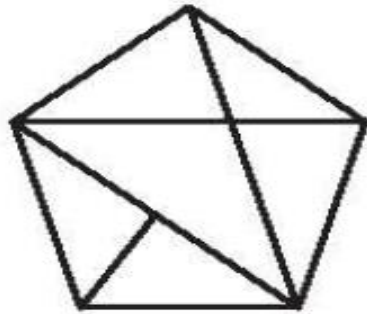
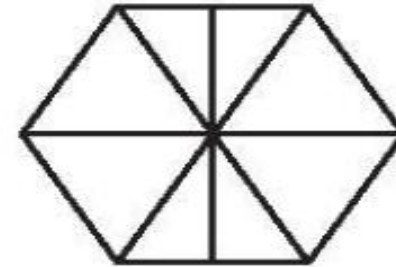
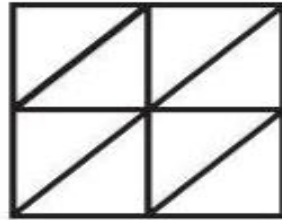

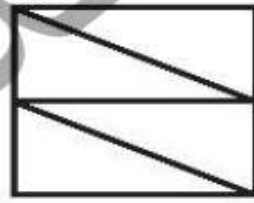
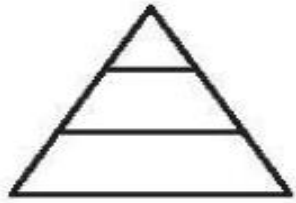


این زنبور روی^۴..... واحد و^۲..... قسمت از^۵..... قسمت مساوی نشسته است.

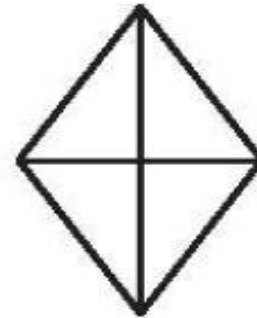
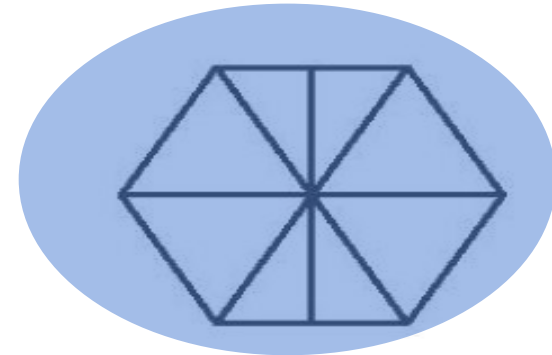
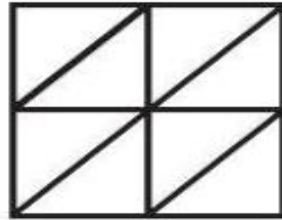
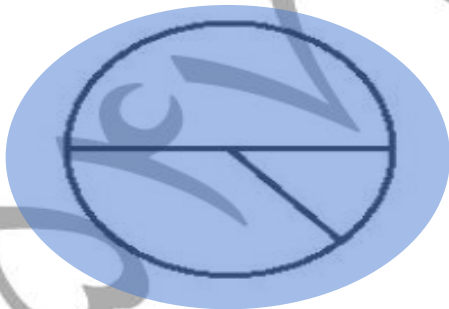


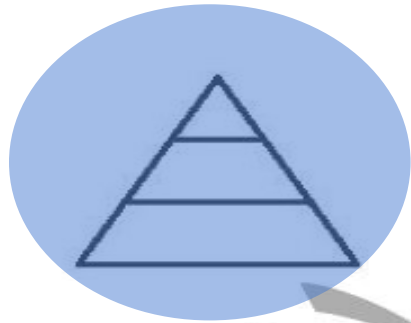


این زنبور روی^۳..... واحد و^۳..... قسمت از^۴..... قسمت مساوی نشسته است.

۲. شکل‌هایی که به قسمت‌های مساوی تقسیم نشده است را رنگ کن.



۲. شکل‌هایی که به قسمت‌های مساوی تقسیم نشده است را رنگ کن.



علوی

۳. دلک‌های یک سیرک به صف ایستاده‌اند. فیروز به نوروز که پشتش ایستاده است گفت: «چهار همکار

پشت من هستند و نوروز گفت: فقط سه همکار از من جلوترند، چند دلک در صف ایستاده‌اند؟



علوی

۳. دلک‌های یک سیرک به صف ایستاده‌اند. فیروز به نوروز که پشتش ایستاده است گفت: «چهار همکار پشت من هستند و نوروز گفت: فقط سه همکار از من جلوترند، چند دلک در صف ایستاده‌اند؟ ۷ دلک



فیروز
۳



نوروز
۴

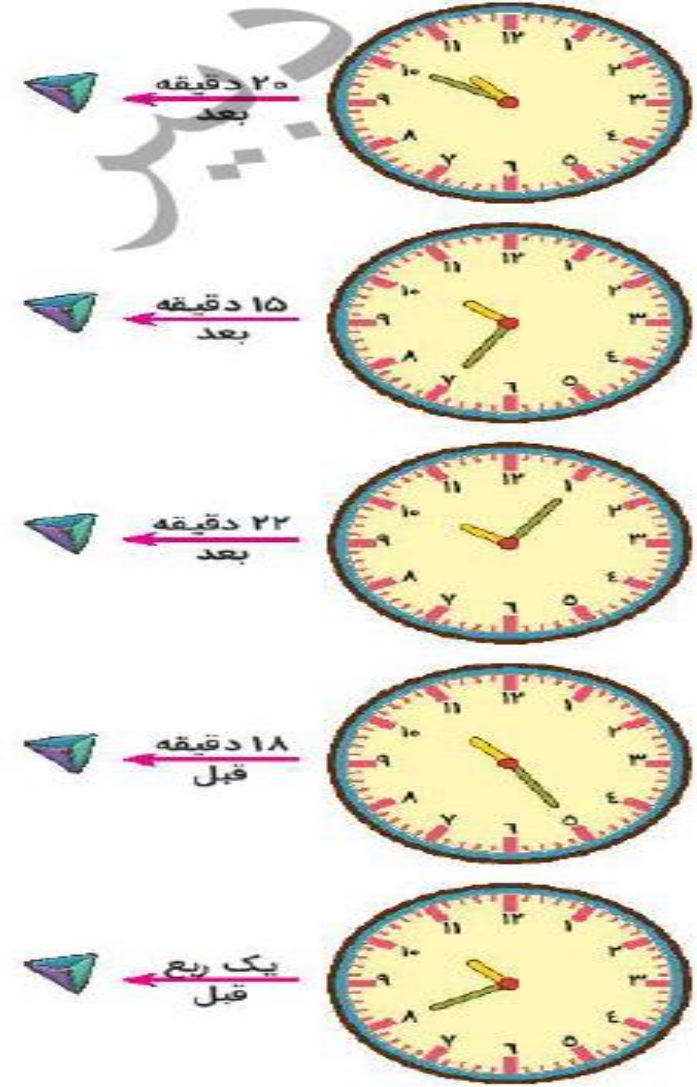
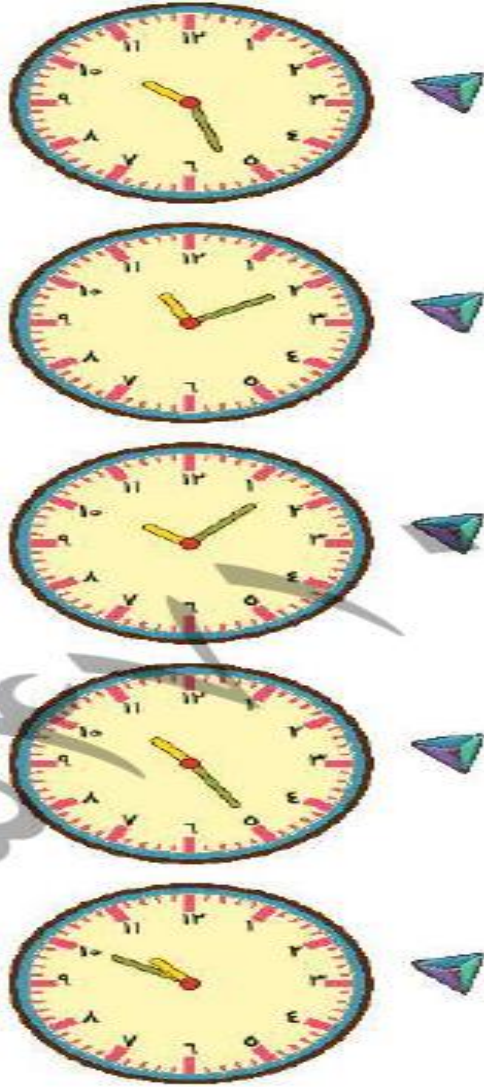


۵

۶

۷

۴. هر ساعت را به زمان خواسته شده وصل کن.

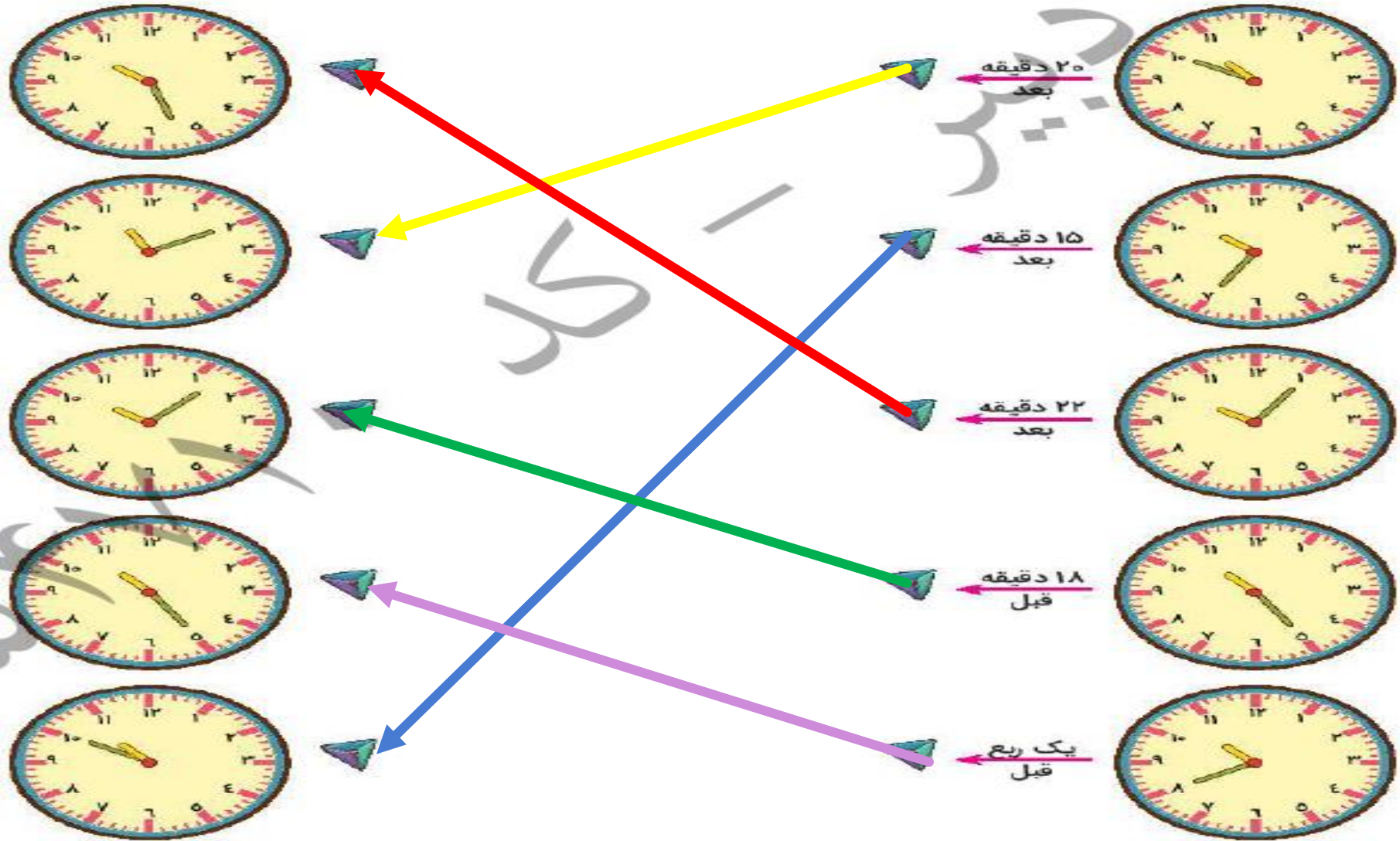


کتاب

صفحه ی ۵۵ کتاب چهار هوش



۴. هر ساعت را به زمان خواسته شده وصل کن.



صفحه ی ۵۵ کتاب چهار هوش



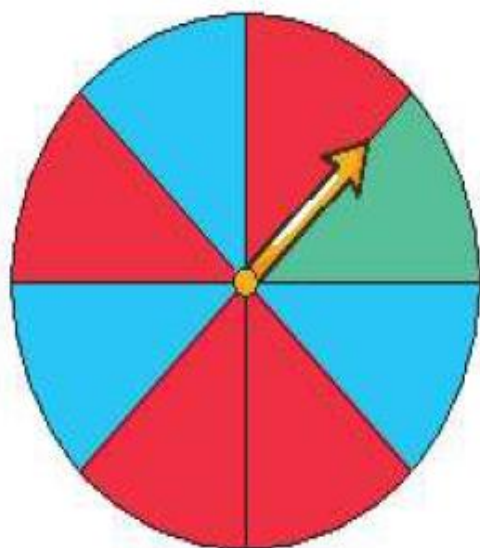
موضوع	شماره سؤال
هوش ریاضی- احتمال	۱
سرعت، دقت، تمرکز	۲
هوش فضایی	۳
هوش کلامی	۴

هفته آموزشی

بیست و ششم

۱. اگر دیبا صفحه ی چرخنده را بچرخاند و ۷۰ امتیاز به دست بیاورد می تواند در یک مسابقه شرکت کند.

برای به دست آوردن این امتیاز، فلش باید روی چه رنگ هایی و چند بار بایستد؟



قرمز: ۳۰ امتیاز

آبی: ۲۰ امتیاز

سبز: ۱۰ امتیاز

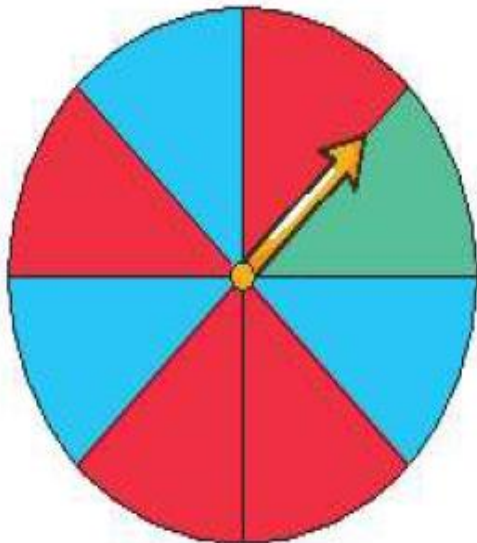
موضوع	شماره سؤال
هوش ریاضی- احتمال	۱
سرعت، دقت، تمرکز	۲
هوش فضایی	۳
هوش کلامی	۴

هفته آموزشی

بیست و ششم

۱. اگر دیبا صفحه ی چرخنده را بچرخاند و ۷۰ امتیاز به دست بیاورد می تواند در یک مسابقه شرکت کند.

برای به دست آوردن این امتیاز، فلش باید روی چه رنگ هایی و چند بار بایستد؟



$$۳۰ + ۳۰ + ۱۰ = ۷۰ \text{ حالت اول}$$

$$۳۰ + ۲۰ + ۲۰ = ۷۰ \text{ حالت دوم}$$

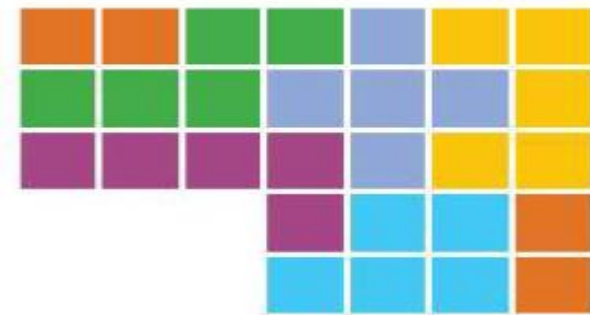
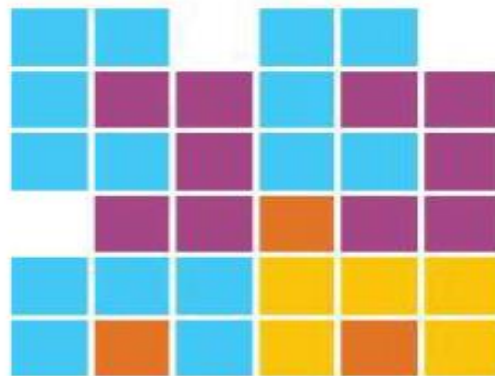
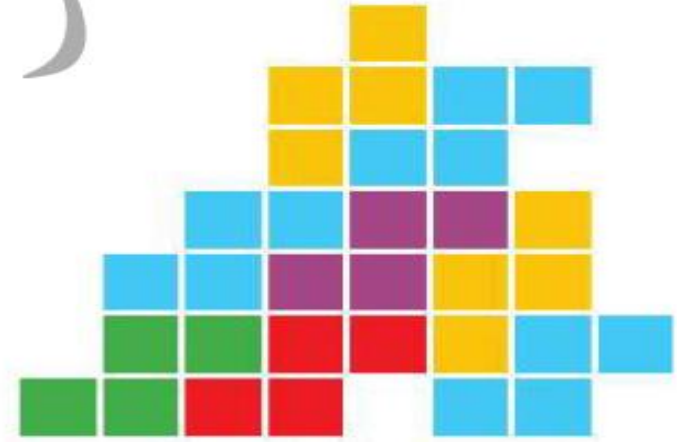
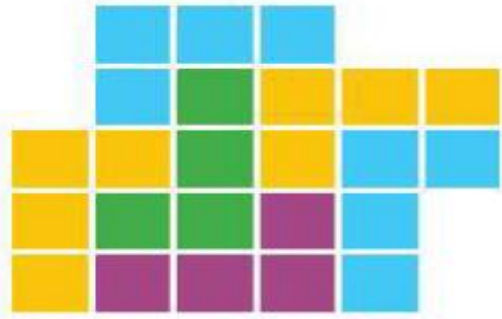
$$۳۰ + ۲۰ + ۱۰ + ۱۰ = ۷۰ \text{ حالت سوم}$$

قرمز: ۳۰ امتیاز

آبی: ۲۰ امتیاز

سبز: ۱۰ امتیاز

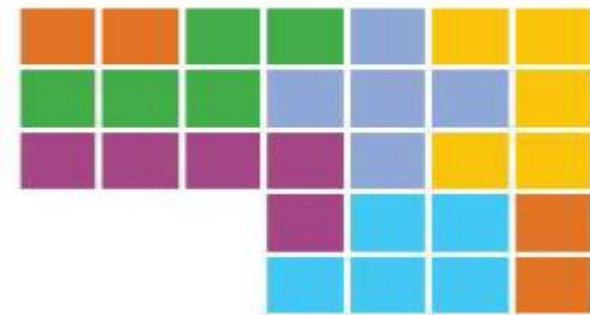
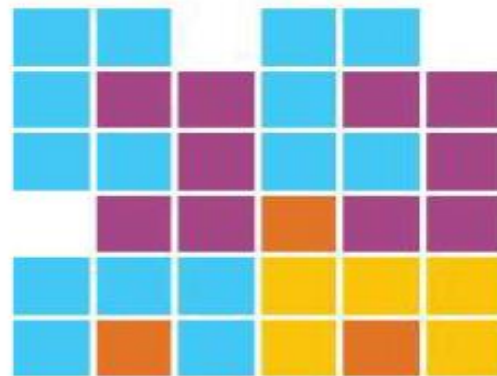
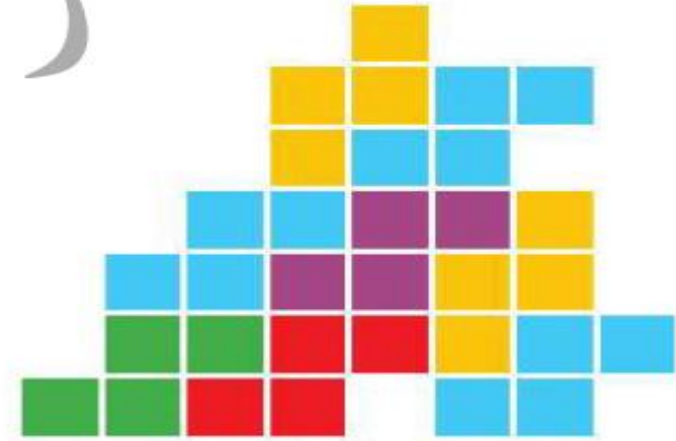
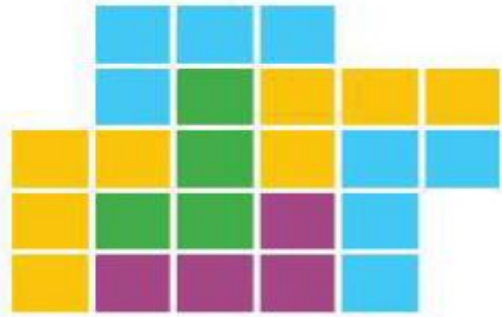
۲. به تصاویر با دقت نگاه کن و بدون شمردن مربع‌ها، حدس بزن تعداد کدام رنگ از همه بیشتر است؟ سپس حدس خود را با شمارش مربع‌ها بررسی کن.



۲. به تصاویر با دقت نگاه کن و بدون شمردن مربع‌ها، حدس بزن تعداد کدام رنگ از همه بیشتر است؟

آبی

سپس حدس خود را با شمارش مربع‌ها بررسی کن.

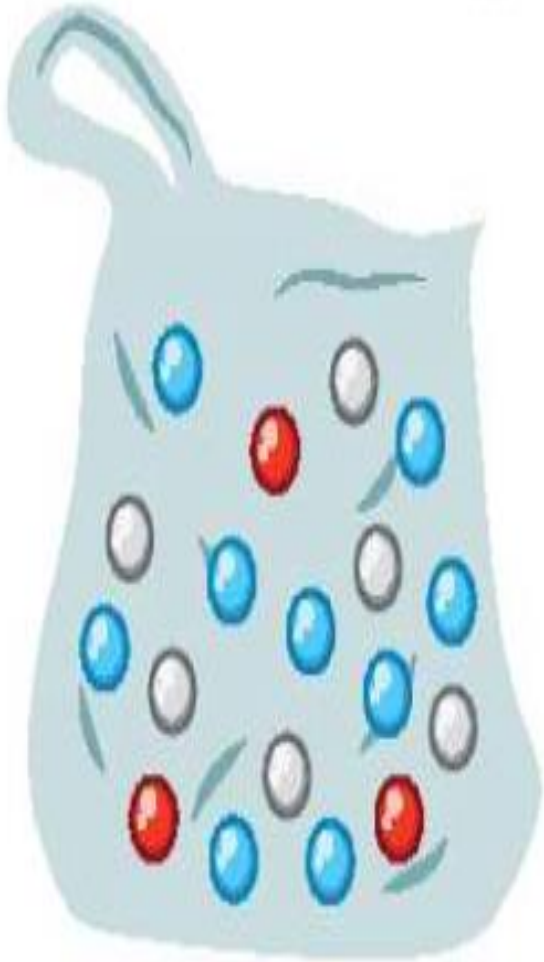


۳. در یک کیسه ۱۸ مهره داریم. ۶ مهره سفید، ۳ مهره قرمز و ۹ مهره آبی.

جملات را با توجه به تعداد مهره‌ها کامل کن.

..... مهره از مهره، سفید است.

..... مهره از مهره، قرمز و آبی است.

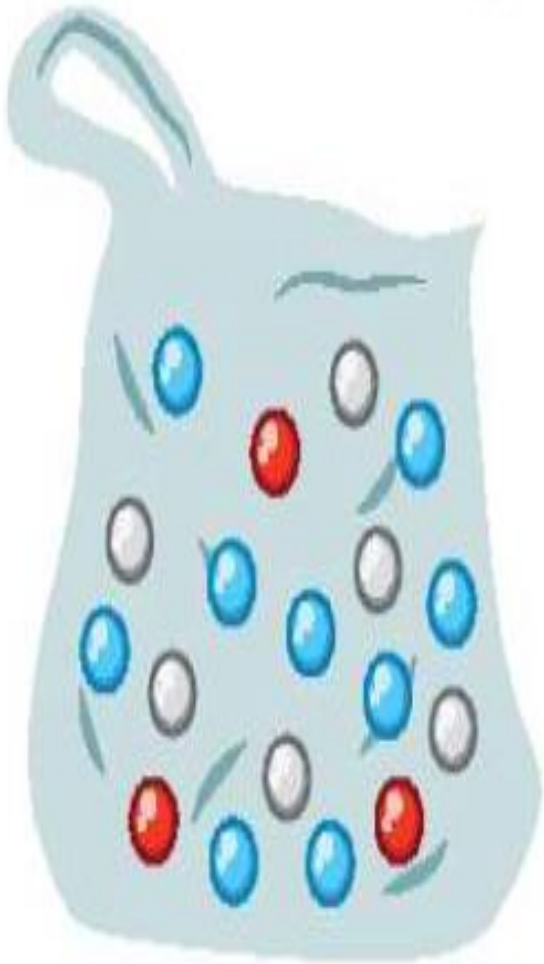


۳. در یک کیسه ۱۸ مهره داریم. ۶ مهره سفید، ۳ مهره قرمز و ۹ مهره آبی.

جملات را با توجه به تعداد مهره‌ها کامل کن.

۶..... مهره از ۱۸..... مهره، سفید است.

۱۲..... مهره از ۱۸..... مهره، قرمز و آبی است.



۴. مجید برای خودش و مادر بزرگش میوه خریده است. به کیسه‌های او نگاه کرده و جاهای خالی را کامل کن.

..... دسته‌ی تایپی موز می‌شود

..... دسته‌ی تایپی سیب می‌شود



۴. مجید برای خودش و مادر بزرگش میوه خریده است. به کیسه‌های او نگاه کرده و جاهای خالی را کامل کن.

..... ۳ ۲
دسته‌ی تایی موز می‌شود ۶
..... ۲ ۳
دسته‌ی تایی سیب می‌شود ۶



پسرهای باهوشم موفق باشید.

صدیقی