

علوی

مدارس هزاره سوم

بِه نام خدا

چهار هوش

آموزگار: منیره صدیقی

به نام خداوند بود و نبود

۲

چهار هوش

نسخه




موضوع	شماره سؤال
هوش ریاضی- نمودار	۱
هوش کلامی	۲
هوش فضایی	۳
سرعت، دقت، تمرکز	۴

هفته آموزشی

بیست و هفتم

۱. سارا در ماه مهر، ۹ روز ریاضی، ۵ روز زبان، ۷ روز فارسی و در بقیه ی روزها علوم خوانده است. جدول و نمودار زیر را طبق روزهای مطالعه ی او کامل کن.



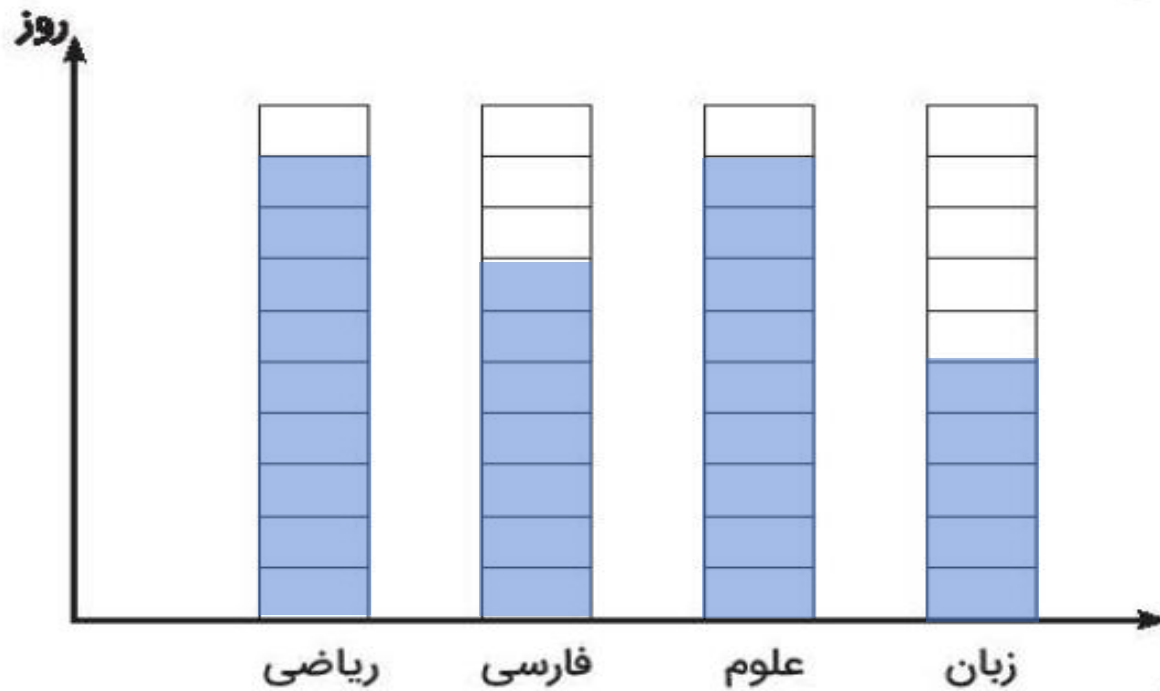
تعداد روزهای مطالعه	درس
	ریاضی
	فارسی
	علوم
	زبان

موضوع	شماره سؤال
هوش ریاضی- نمودار	۱
هوش کلامی	۲
هوش فضایی	۳
سرعت، دقت، تمرکز	۴

هفته آموزشی

بیست و هفتم

۱. سارا در ماه مهر، ۹ روز ریاضی، ۵ روز زبان، ۷ روز فارسی و در بقیه ی روزها علوم خوانده است. جدول و نمودار زیر را طبق روزهای مطالعه ی او کامل کن.



درس	تعداد روزهای مطالعه
ریاضی	۹
فارسی	۷
علوم	۹
زبان	۵

۲. سحر، شعر و کتاب خواندن را بسیار دوست دارد. یک روز دوستش از او خواست شعر زیر را برایش بخواند و با هم یک بازی انجام دهند. قرار شد هر کسی توانست تعداد کل نقطه‌های این دو بیت را بشمارد و علاوه بر آن کلمه‌هایی پیدا کند که فقط دو نقطه دارند، یک کتاب هدیه بگیرد. تو هم می‌توانی در مسابقه‌ی آنها شرکت کنی.

عالم پیر دگر باره جوان خواهد شد
چشم زرگس به شقایق نگران خواهد شد

نفس باد صبا مشک فشان خواهد شد
ارغوان جام عقیقی به سمن خواهد داد

♦ تعداد کل نقطه‌های این دو بیت:

♦ تعداد کلمات دو نقطه در دو بیت:



۲. سحر، شعر و کتاب خواندن را بسیار دوست دارد. یک روز دوستش از او خواست شعر زیر را برایش بخواند و با هم یک بازی انجام دهند. قرار شد هر کسی توانست تعداد کل نقطه‌های این دو بیت را بشمارد و علاوه بر آن کلمه‌هایی پیدا کند که فقط دو نقطه دارند، یک کتاب هدیه بگیرد. تو هم می‌توانی در مسابقه‌ی آنها شرکت کنی.

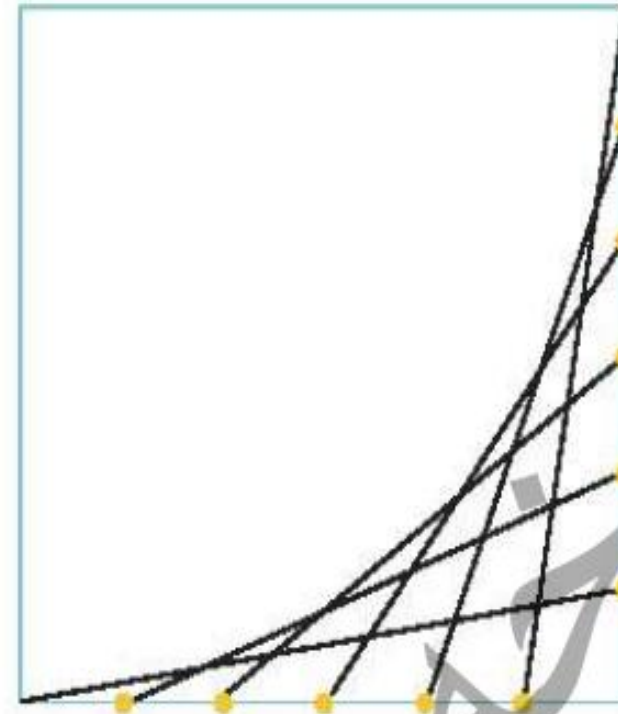

عالم پیر دگر باره جوان خواهد شد
چشم زرگس به شقایق نگران خواهد شد

نفس باد صبا مشک فشان خواهد شد
ارغوان جام عقیقی به سمن خواهد داد

- ♦ تعداد کل نقطه‌های این دو بیت: ۶۳ نقطه
- ♦ تعداد کلمات دو نقطه در دو بیت: ۴ کلمه




۳. شکل سمت راست را در صفحه ی سمت چپ رسم کن.



۴. الف) دور عددهای زوج را با دایره‌ی قرمز رنگ و دور عددهای فرد را با مربع سبز رنگ خط بکش.

۱۷ - ۶۰۱ - ۳۴۸ - ۹ - ۵۰ - ۱۱۴ - ۷۲

ب) در کدام گزینه، تعداد اعداد بزرگ‌تر از ۶۰ در دو طرف  با هم برابر است؟

۱) ۱۲۳ - ۵۹ - ۱۶ - ۶۱  ۷۱ - ۱۵۰ - ۱۰۰ - ۵۹


۲) ۴۵ - ۵۵ - ۶۵ - ۷۵  ۶۹ - ۵۹ - ۱۹ - ۱۲

۳) ۱۳۹ - ۳۰۰ - ۸۹ - ۹۰  ۱۲۴ - ۲۰۰ - ۹۹ - ۸۰

۴) ۱۰ - ۲۲ - ۱۰۴ - ۴۶  ۱ - ۹۵ - ۱۳ - ۹۶

۴. الف) دور عددهای زوج را با دایره قرمز رنگ و دور عددهای فرد را با مربع سبز رنگ خط بکش.

۷۲ ۱۱۴ ۵۰ ۹ ۳۴۸ ۶۰۱ ۱۷

ب) در کدام گزینه، تعداد اعداد بزرگ‌تر از ۶۰ در دو طرف  با هم برابر است؟

(۱) ۱۲۳ - ۵۹ - ۱۶ - ۶۱  ۷۱ - ۱۵۰ - ۱۰۰ - ۵۹

(۲) ۱۲ - ۱۹ - ۵۹ - ۶۹  ۷۵ - ۶۵ - ۵۵ - ۴۵

(۳) ۱۳۹ - ۳۰۰ - ۸۹ - ۹۰  ۱۲۴ - ۲۰۰ - ۹۹ - ۸۰

(۴) ۱۰ - ۲۲ - ۱۰۴ - ۴۶  ۱ - ۹۵ - ۱۳ - ۹۶

صفحه ی ۶۰ کتاب چهار هوش

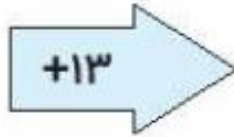
موضوع	شماره سؤال
هوش ریاضی- ماشین ورودی خروجی	۱
هوش کلامی	۲
هوش فضایی	۳
سرعت، دقت، تمرکز	۴

هفته آموزشی

بیست و هشتم

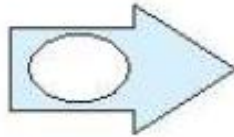
۱. جاهای خالی را کامل کن.

۱۹
<input type="text"/>
۲۵



<input type="text"/>
۵۱
<input type="text"/>

۴۲
۵۰
<input type="text"/>



۲۷
<input type="text"/>
۵۴

دبیر

دبیرخانه

صفحه ی ۶۰ کتاب چهار هوش

موضوع	شماره سؤال
هوش ریاضی- ماشین ورودی خروجی	۱
هوش کلامی	۲
هوش فضایی	۳
سرعت، دقت، تمرکز	۴

هفته آموزشی
بیست و هشتم

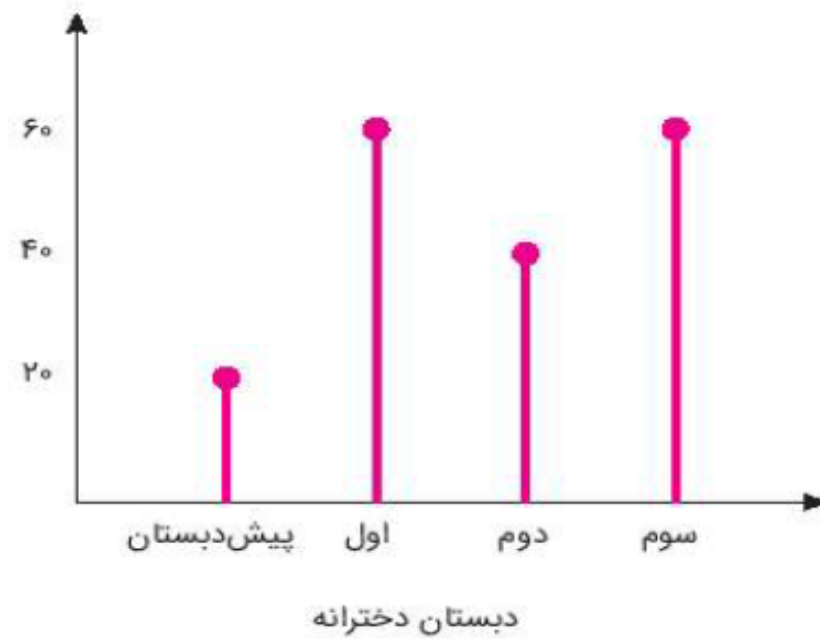

۱. جاهای خالی را کامل کن.

۱۹		۳۲
۳۸	+۱۳	۵۱
۲۵		۳۸

۴۲		۲۷
۵۰	-۱۵	۳۵
۶۹		۵۴

دسته پنجم

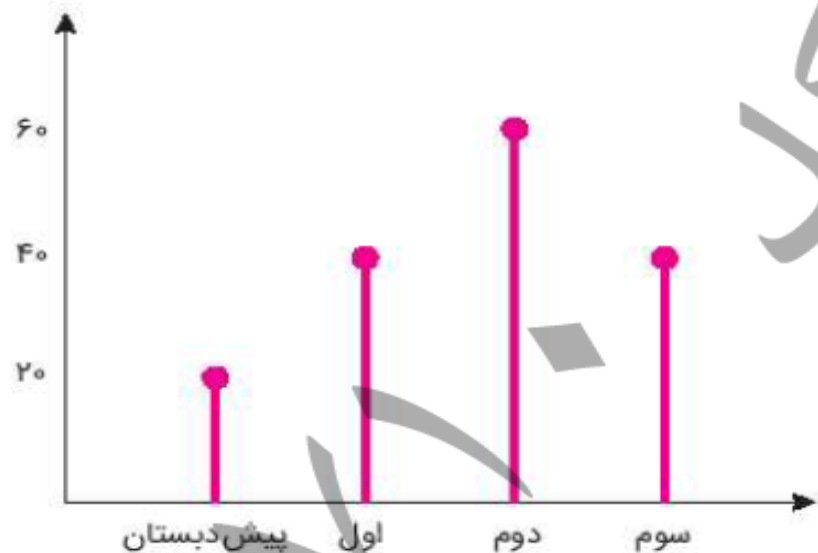
۲. در خیابانی یک مدرسه‌ی پسرانه و یک مدرسه‌ی دخترانه وجود دارد. تعداد دانش‌آموزهای هر پایه در این مدرسه‌ها روی نمودارهای زیر نشان داده شده است.



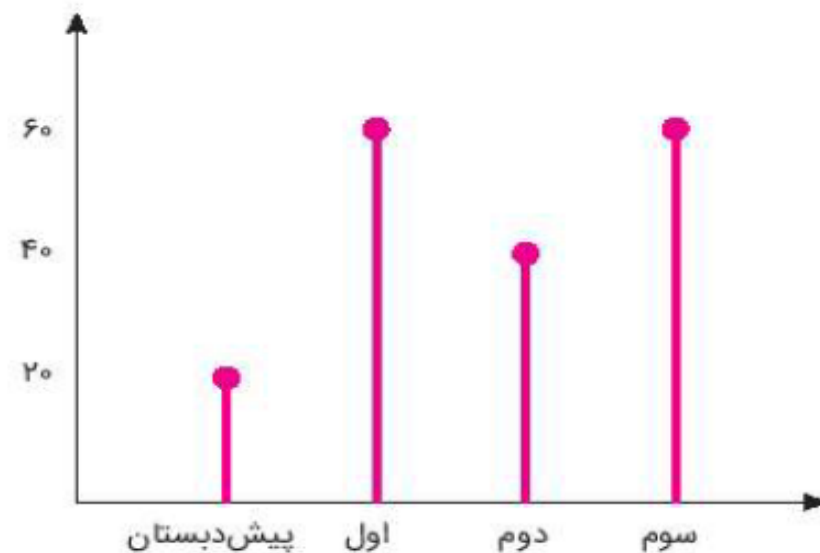
الف) در کدام مدرسه تعداد دانش‌آموزهای کلاس دوم بیشتر است؟

ب) در کدام مدرسه تعداد کل دانش‌آموزها بیشتر است؟

۲. در خیابانی یک مدرسه‌ی پسرانه و یک مدرسه‌ی دخترانه وجود دارد. تعداد دانش‌آموزهای هر پایه در این مدرسه‌ها روی نمودارهای زیر نشان داده شده است.



دبستان پسرانه ۱۶۰ نفر

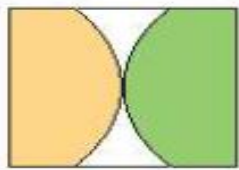



دبستان دخترانه ۱۸۰ نفر

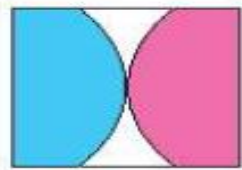
الف) در کدام مدرسه تعداد دانش‌آموزهای کلاس دوم بیشتر است؟ دبستان پسرانه

ب) در کدام مدرسه تعداد کل دانش‌آموزها بیشتر است؟ دبستان دخترانه

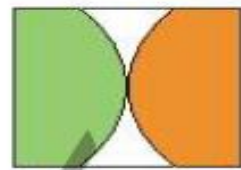
۳. با توجه به تصویر، جاهای خالی با کدام شکل‌ها کامل می‌شود؟



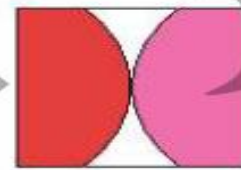
(۱)



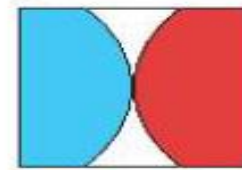
(۲)



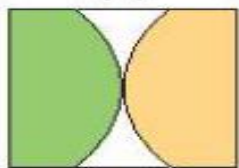
(۳)



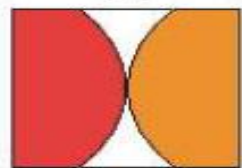
(۴)



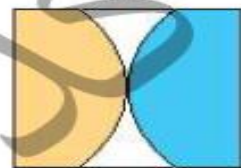
(۵)



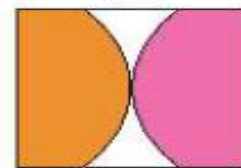
(۶)



(۷)



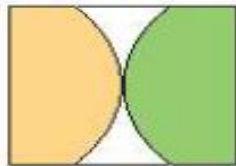

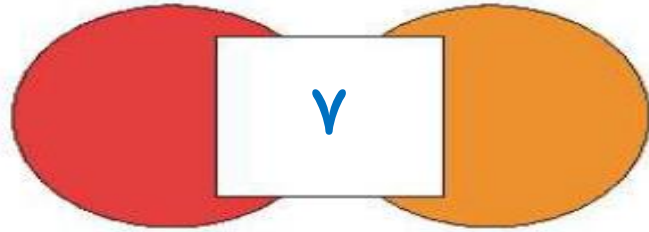
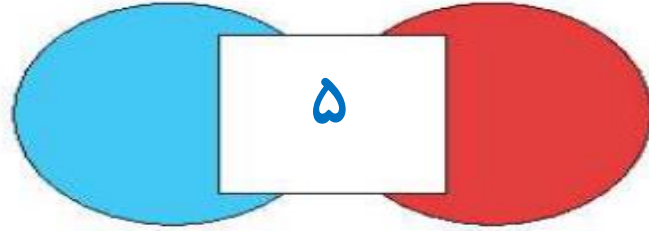
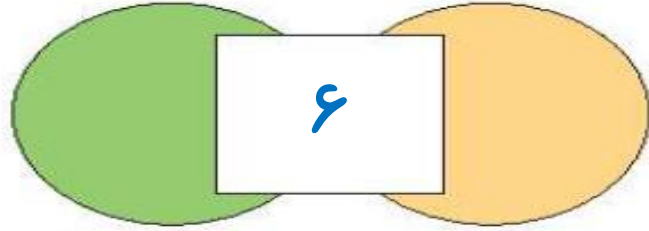
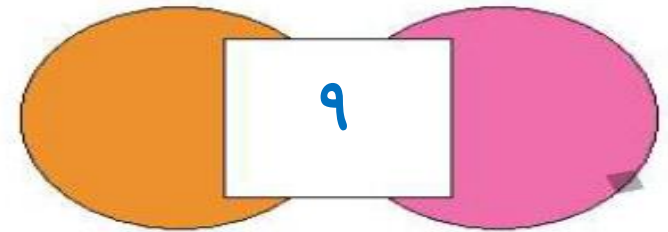
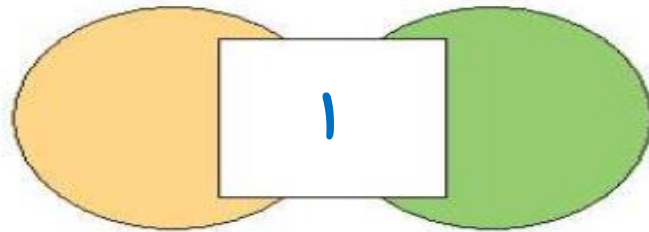
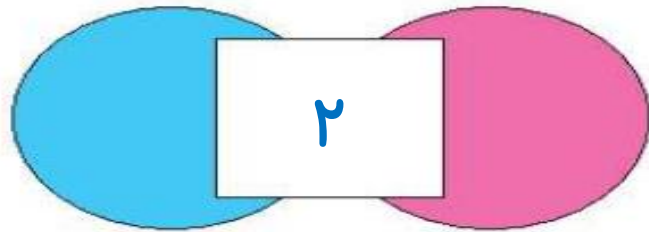
(۸)



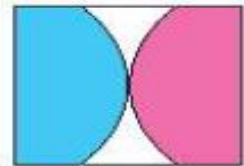
(۹)

صفحه ی ۶۱ کتاب چهار هوش

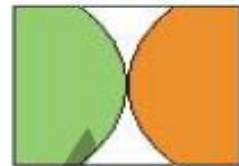
۳. با توجه به تصویر، جاهای خالی با کدام شکل‌ها کامل می‌شود؟



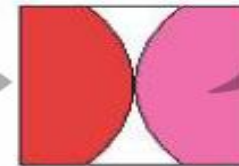
(۱)



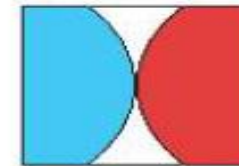
(۲)



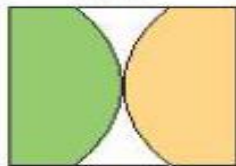
(۳)



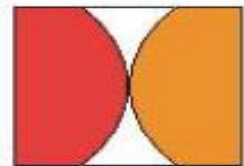
(۴)



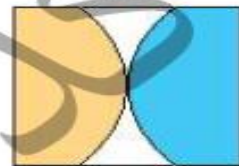
(۵)



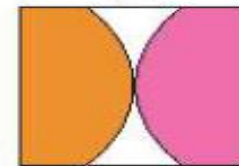
(۶)



(۷)



(۸)



(۹)

صفحه ی ۶۱ کتاب چهار هوش

۴. به جای ؟ کدام گزینه را قرار می دهی؟



(۴)



(۳)



(۲)



(۱)



صفحه ی ۶۱ کتاب چهار هوش

۴. به جای ؟ کدام گزینه را قرار می دهی؟



(۴)



(۳)



(۲)



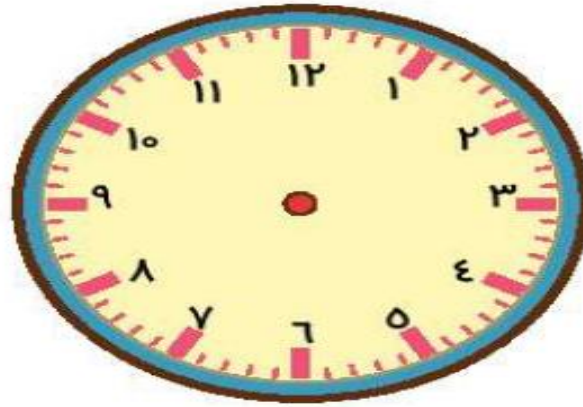
(۱)



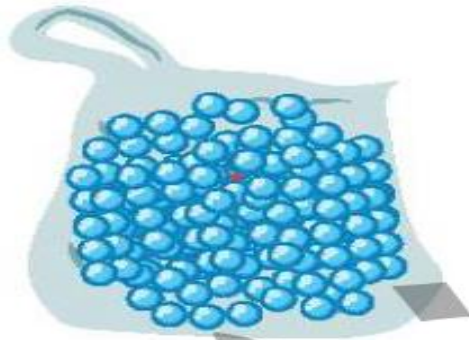
صفحه ی ۶۱ کتاب چهار هوش

۱. الف) الگوی ساعت را ادامه بده و آخرین ساعت را بکش.

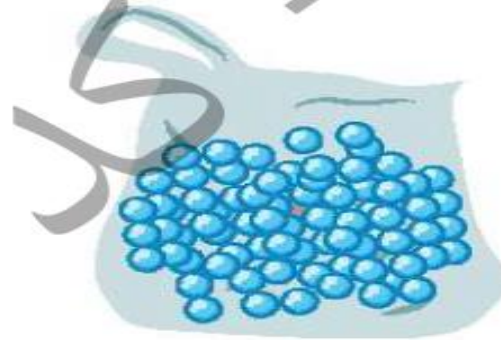
ساعت ۳، ساعت ۳:۲۵، ساعت ۳:۵۰،



ب) سعید، بهزاد و سینا کیسه‌هایی پر از مهره دارند. آن‌ها مهره‌های درون کیسه‌ی خود را شمردند و متوجه شدند رنگ یکی از مهره‌ها متفاوت است. چه کسی زودتر متوجه این تفاوت شد؟



کیسه بهزاد



کیسه سینا



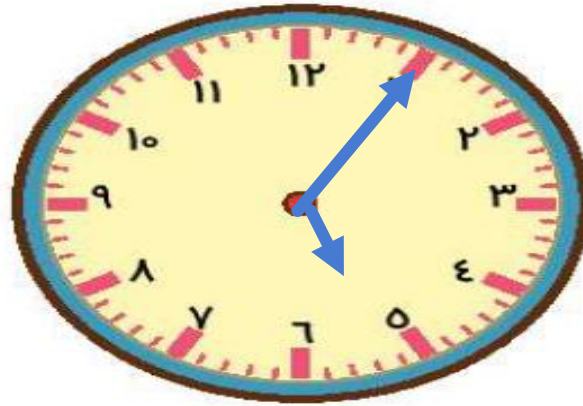
کیسه سعید

هوش ریاضی	۱
هوش کلامی	۲
سرعت، دقت، تمرکز	۳
هوش فضایی	۴
سرعت، دقت، تمرکز	۵

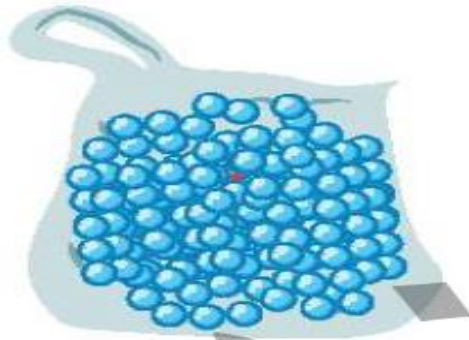
بیست و نهم

۱. الف) الگوی ساعت را ادامه بده و آخرین ساعت را بکش.

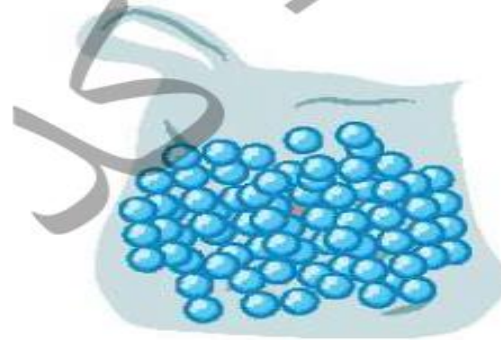
ساعت ۳، ساعت ۳:۲۵، ساعت ۳:۵۰، ۴:۱۵، ۴:۴۰، ۵:۰۵



ب) سعید، بهزاد و سینا کیسه‌هایی پر از مهره دارند. آن‌ها مهره‌های درون کیسه‌ی خود را شمردند و متوجه شدند رنگ یکی از مهره‌ها متفاوت است. چه کسی زودتر متوجه این تفاوت شد؟



کیسه بهزاد



کیسه سینا



کیسه سعید

۲. الف) یکشنبه به دوشنبه مانند است.

۲) مرداد به شهریور

۱) روز به ماه

۴) ساعت به دقیقه

۳) ماه به سال

ب) خلبان به هواپیما مانند است.

۲) قایق به کشتی

۱) مشتری به مغازه

۴) ملوان به کشتی

۳) نویسنده به کتاب

چهار هوش دوم دبستان



صفحه ی ۶۲ کتاب چهار هوش

۲. الف) یکشنبه به دوشنبه مانند است.

- | | |
|---------------|--------------------|
| ۱) روز به ماه | ۲) برداد به شهرپور |
| ۳) ماه به سال | ۴) ساعت به دقیقه |

ب) خلبان به هواپیما مانند است.

- | | |
|--------------------|------------------|
| ۱) مشتری به مغازه | ۲) قایق به کشتی |
| ۳) نویسنده به کتاب | ۴) بلوان به کشتی |



۳. در جدول زیر طول مداد رنگی‌های مونا که از آن‌ها استفاده کرده، یادداشت شده است. صفحه ی ۶۳ کتاب چهار هوش

♦ کدام مداد از همه بلندتر است؟

♦ طول مدادهای داده شده را با هم مقایسه کن. (\leq)

رنگ مداد	طول مداد
سبز	۳۸ میلی‌متر
زرد	۳ سانتی‌متر و ۷ میلی‌متر
آبی	۷۹ میلی‌متر
قهوه‌ای	۵ سانتی‌متر و ۴۱ میلی‌متر
قرمز	۱۲۰ میلی‌متر
نارنجی	۹ سانتی‌متر

مداد قهوه‌ای  مداد نارنجی

مداد زرد  مداد سبز

مداد قهوه‌ای  مداد زرد

۳. در جدول زیر طول مداد رنگی‌های مونا که از آن‌ها استفاده کرده، یادداشت شده است.

♦ کدام مداد از همه بلندتر است؟ **قرمز**

♦ طول مدادهای داده شده را با هم مقایسه کن. (\leq)

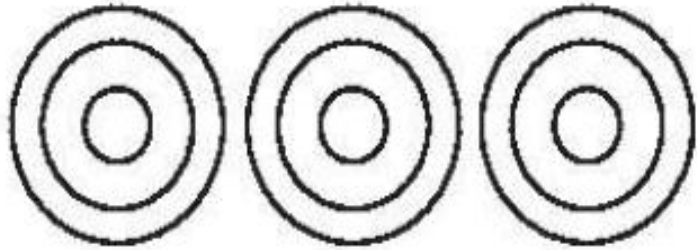
رنگ مداد	طول مداد
سبز	۳۸ میلی‌متر
زرد	۳ سانتی‌متر و ۷ میلی‌متر
آبی	۷۹ میلی‌متر
قهوه‌ای	۵ سانتی‌متر و ۴۱ میلی‌متر
قرمز	۱۲۰ میلی‌متر
نارنجی	۹ سانتی‌متر

مداد قهوه‌ای \leq مداد نارنجی

مداد زرد \leq مداد سبز

مداد قهوه‌ای \leq مداد زرد

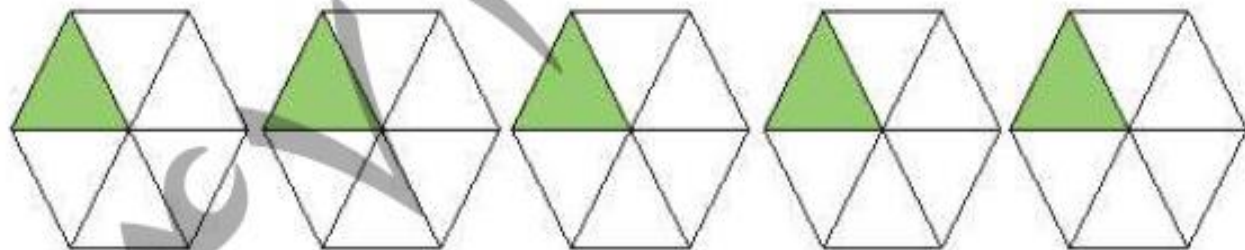
۴. به شکل‌ها با دقت نگاه کرده و جاهای خالی را کامل کن.



۳ دسته ی ۳ تایی می‌شود

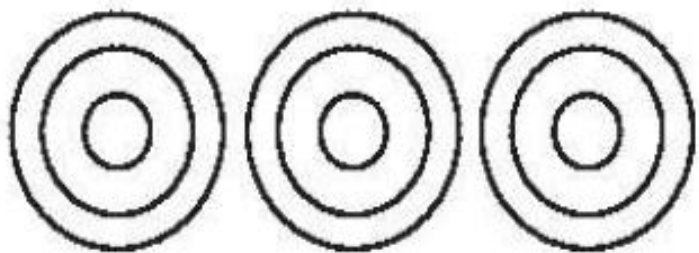


۳ دسته ی ۲ تایی می‌شود



۵ دسته ی ۵ تایی می‌شود

۴. به شکل‌ها با دقت نگاه کرده و جاهای خالی را کامل کن.



۳ دسته ی ۳ تایی می‌شود ۹



۳ دسته ی ۲ تایی می‌شود ۶



۵ دسته ی ۵ تایی می‌شود ۲۵

۵. به جای ستاره‌ی درخشان عدد مناسب قرار بده.

$$7 \text{ (۲)}$$

$$2 \text{ (۱)}$$

$$12 \text{ (۴)}$$

$$8 \text{ (۳)}$$

$$\begin{array}{r} 152 \\ - 9 \text{ ☆} \\ \hline 54 \end{array}$$



۵. به جای ستاره‌ی درخشان عدد مناسب قرار بده.

$$7 \begin{array}{|} \hline 2 \\ \hline \end{array}$$

$$2 \begin{array}{|} \hline 1 \\ \hline \end{array}$$

$$12 \begin{array}{|} \hline 14 \\ \hline \end{array}$$

$$8 \begin{array}{|} \hline 3 \\ \hline \end{array}$$

$$\begin{array}{r} 152 \\ - 9 \star \\ \hline 54 \end{array}$$



پسرهای باهوشم موفق باشید.

صدیقی