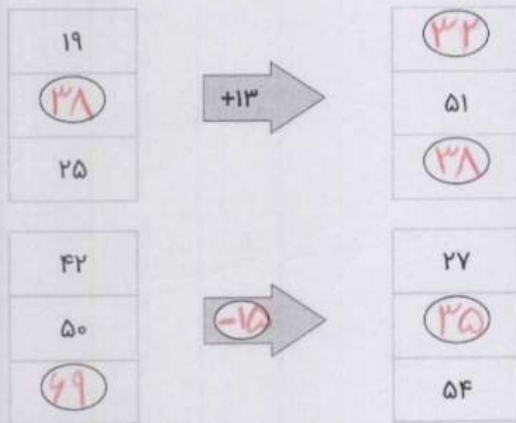



موضوع	شماره سوال	هفته آموزشی
هوش ریاضی- ماشین ورودی خروجی	۱	بیست و هشتم
هوش کلامی	۲	
هوش فضایی	۳	
سرعت، دقت، تمرکز	۴	

۱. جاهای خالی را کامل کن.




۲. در خیابانی یک مدرسه‌ی پسرانه و یک مدرسه‌ی دخترانه وجود دارد. تعداد دانش‌آموزهای هر پایه در این مدرسه‌ها روی نمودارهای زیر نشان داده شده است.



۲۰ نفر

دبستان پسرانه



۱۸۰ نفر

دبستان دخترانه

الف) در کدام مدرسه تعداد دانش‌آموزهای کلاس دوم بیشتر است؟ **دبستان پسرانه**

ب) در کدام مدرسه تعداد کل دانش‌آموزها بیشتر است؟ **دبستان دخترانه**

چهار هوش دوم دبستان

