

موضوع	شماره سؤال	هفته آموزشی
هوش ریاضی - جمع‌های چندتایی با استفاده از رسم شکل	۱	هفدهم
هوش کلامی	۲	
سرعت، دقت، تمرکز	۳	
هوش فضایی	۴	

۱. با کشیدن شکل، جواب جمع‌های داخل قوری را به فنجان مربوطه وصل کن.

Teapot 1: $3 + 4 + 5$

Teapot 2: $6 + 3 + 4$

Teapot 3: $5 + 4 + 7$

Teapot 4: $6 + 0 + 8$

Teacup 1: ۱۴

Teacup 2: ۱۲

Teacup 3: ۱۳

Teacup 4: ۱۶

۲. رابطه‌ی «مامان» با «بابا» مثل رابطه‌ی «مادر بزرگ» با است.

۴) پدربزرگ

۳) خاله

۲) دایی




۱) برادر

چهل هوش اول دبستان



علوی

۳. تکه‌ی جدا شده از هر شکل را پیدا کن و دور آن خط بکش.



(۲)



(۴)



(۲)



(۴)



(۲)



(۴)



(۱)



(۳)



(۱)



(۳)

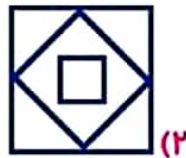
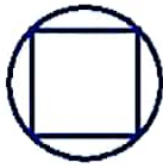

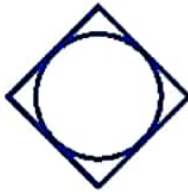
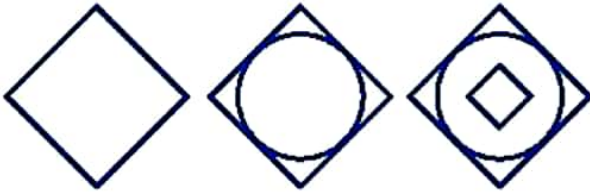


(۱)



(۳)

۴. به جای ؟ کدام شکل را می‌توان قرار داد؟



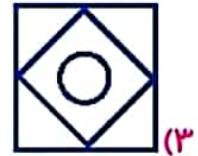
(۲)



(۱)



(۴)

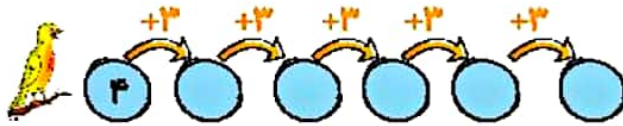
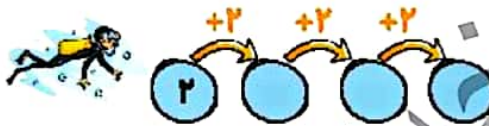
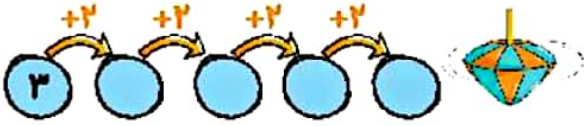


(۳)


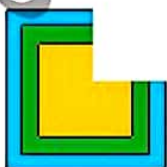
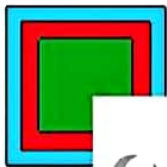


موضوع	شماره سؤال	هفته آموزشی
هوش ریاضی - الگوهای عددی	۱	هفدهم
هوش فضایی	۲	
هوش کلامی	۳	
سرعت، دقت، تمرکز	۴	

۱. جاهای خالی را با عدد مناسب پر کن.



۲. گوشه‌های جدا شده از هر شکل را پیدا و به آن وصل کن.


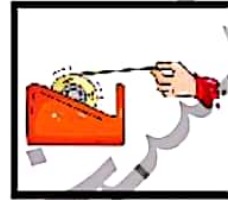

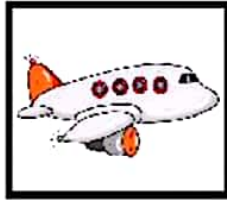
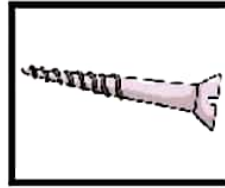


چهار هوش اول دبستان



علوی

۳. اسم تصویرهای زیر را بنویس، کدام یک از آن‌ها بیش‌ترین نقطه را دارد؟ دور آن خط بکش.



۴. دو مسیر قرمز و آبی را از بین راه‌ها پیدا کن و رنگ بزن.

