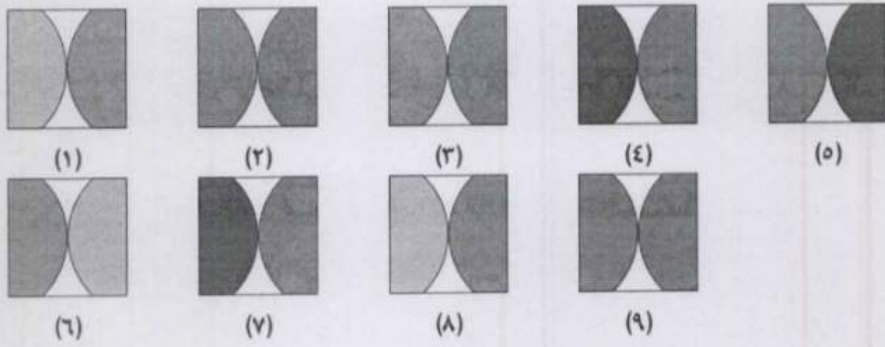

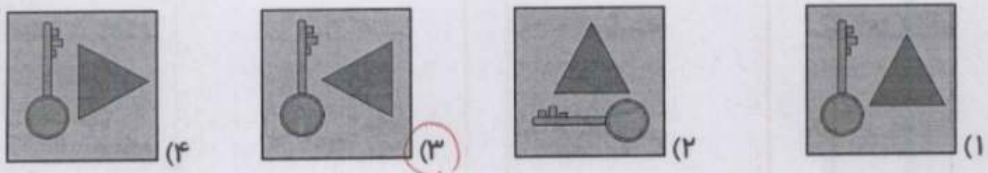
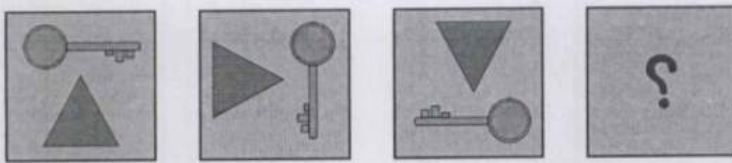


علوی

۳. با توجه به تصویر، جاهای خالی با کدام شکل‌ها کامل می‌شود؟



۴. به جای ؟ کدام گزینه را قرار می‌دهی؟



موضوع	شماره سوال	هفته آموزشی
هوش ریاضی- الگو- احتمال	۱	بیست و نهم
هوش کلامی	۲	
سرعت، دقت، تمرکز	۳	
هوش فضایی	۴	
سرعت، دقت، تمرکز	۵	

۱. الف) الگوی ساعت را ادامه بده و آخرین ساعت را بکش.

ساعت ۳، ساعت ۳:۲۵، ساعت ۳:۵۰، ساعت ۴:۱۵، ساعت ۴:۴۰، ساعت ۵:۰۵



ب) سعید، بهزاد و سینا کیسه‌هایی پر از مهره دارند. آن‌ها مهره‌های درون کیسه‌ی خود را شمردند و متوجه شدند رنگ یکی از مهره‌ها متفاوت است. چه کسی زودتر متوجه این تفاوت شد؟



کیسه بهزاد



کیسه سینا



کیسه سعید

۲. الف) یکشنبه به دوشنبه مانند است.

- (۱) روز به ماه
(۲) مرداد به شهریور
(۳) ماه به سال
(۴) ساعت به دقیقه

ب) خلبان به هواپیما مانند است.

- (۱) مشتری به مغازه
(۲) قایق به کشتی
(۳) نویسنده به کتاب
(۴) ملوان به کشتی

ب) سعید، بهزاد و سینا کیسه‌هایی پر از مهره دارند. آن‌ها مهره‌های درون کیسه‌ی خود را شش‌دند و متوجه شدند رنگ یکی از مهره‌ها متفاوت است. چه کسی زودتر متوجه این تفاوت شد؟



کیسه بهزاد

کیسه سینا

کیسه سعید

۲. الف) یکشنبه به دوشنبه مانند است.

- (۱) روز به ماه
- (۲) مرداد به شهریور
- (۳) ماه به سال
- (۴) ساعت به دقیقه

ب) خلبان به هواپیما مانند است.

- (۱) مشتری به مغازه
- (۲) قایق به کشتی
- (۳) نویسنده به کتاب
- (۴) ملوان به کشتی

چهارهوش دوم دبستان

علوی

۳. در جدول زیر طول مداد رنگی‌های مونا که از آن‌ها استفاده کرده، یادداشت شده است.

رنگ مداد	طول مداد
سبز	۳۸ میلی‌متر
زرد	۳ سانتی‌متر و ۷ میلی‌متر
آبی	۷۹ میلی‌متر
قهوه‌ای	۵ سانتی‌متر و ۴۱ میلی‌متر
قرمز	۱۲۰ میلی‌متر
نارنجی	۹ سانتی‌متر

- ◆ کدام مداد از همه بلندتر است؟ *قرمز*
- ◆ طول مدادهای داده شده را با هم مقایسه کن. (>=<)
- مداد قهوه‌ای مداد نارنجی
- مداد زرد مداد سبز
- مداد قهوه‌ای مداد زرد

۴. به شکل‌ها با دقت نگاه کرده و جاهای خالی را کامل کن.



۳ دسته‌ی ۳ تایی می‌شود *۹*



۳ دسته‌ی ۲ تایی می‌شود *۶*



۵ دسته‌ی ۵ تایی می‌شود *۲۵*

۵. به جای ستاره‌ی درخشان عدد مناسب قرار بده.

- ۲ (۱)
- ۷ (۲)
- ۸ (۳)
- ۱۲ (۴)

$$\begin{array}{r} 152 \\ - 96 \\ \hline 54 \end{array}$$

