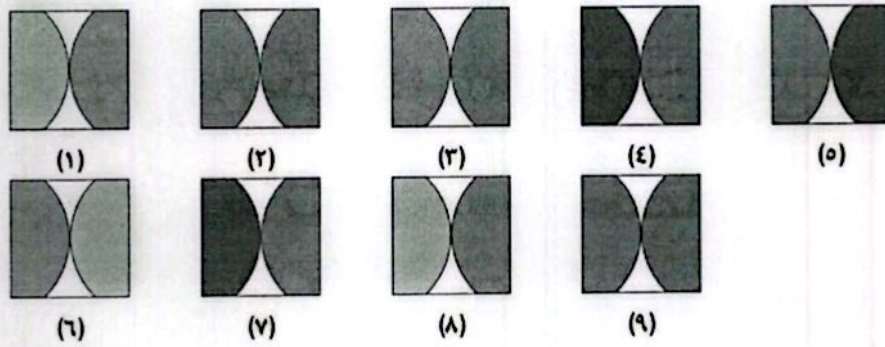
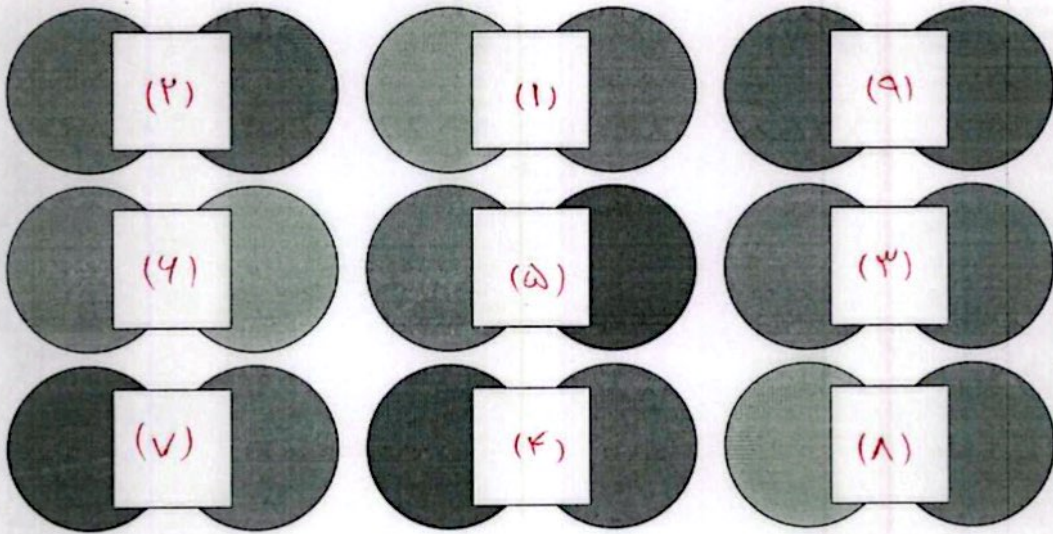
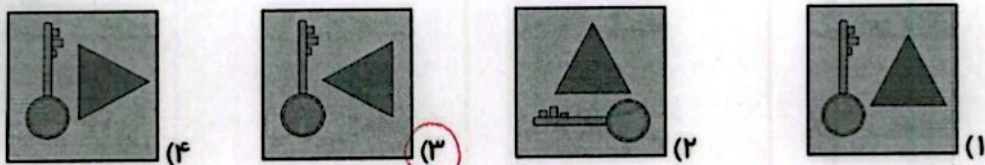
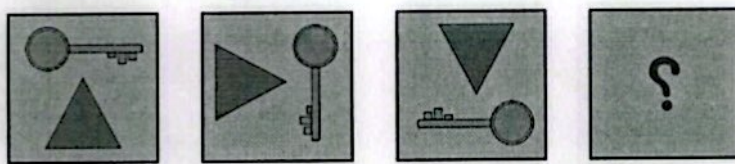


علوی

۳. با توجه به تصویر، جاهای خالی با کدام شکل‌ها کامل می‌شود؟




۴. به جای ؟ کدام گزینه را قرار می‌دهی؟




موضوع	شماره سوال	هفته آموزشی
هوش ریاضی- الگو- احتمال	۱	بیست و نهم
هوش کلامی	۲	
سرعت، دقت، تمرکز	۳	
هوش فضایی	۴	
سرعت، دقت، تمرکز	۵	

۱. الف) الگوی ساعت را ادامه بده و آخرین ساعت را بکش.

ساعت ۳، ساعت ۳:۲۵، ساعت ۳:۵۰، ۴:۱۵، ۴:۴۰، ۵:۰۵



ب) سعید، بهزاد و سینا کیسه‌هایی پر از مهره دارند. آن‌ها مهره‌های درون کیسه‌ی خود را شمردند و متوجه شدند رنگ یکی از مهره‌ها متفاوت است. چه کسی زودتر متوجه این تفاوت شد؟



کیسه بهزاد



کیسه سینا



کیسه سعید

۲. الف) یکشنبه به دوشنبه مانند است.

(۱) روز به ماه

(۲) مرداد به شهریور

(۳) ماه به سال

(۴) ساعت به دقیقه

ب) خلبان به هواپیما مانند است.

(۱) مشتری به مغازه

(۲) قایق به کشتی

(۳) نویسنده به کتاب

(۴) ملوان به کشتی



علوی

۳. در جدول زیر طول مداد رنگی‌های مونا که از آن‌ها استفاده کرده، یادداشت شده است.

- ◆ کدام مداد از همه بلندتر است؟ قرمز
- ◆ طول مدادهای داده شده را با هم مقایسه کن. (\leq)

طول مداد	رنگ مداد
۳۸ میلی‌متر	سبز
۳ سانتی‌متر و ۷ میلی‌متر	زرد
۷۹ میلی‌متر	آبی
۵ سانتی‌متر و ۴۱ میلی‌متر	قهوه‌ای
۱۲۰ میلی‌متر	قرمز
۹ سانتی‌متر	نارنجی

مداد قهوه‌ای مداد نارنجی

مداد زرد مداد سبز

مداد قهوه‌ای مداد زرد

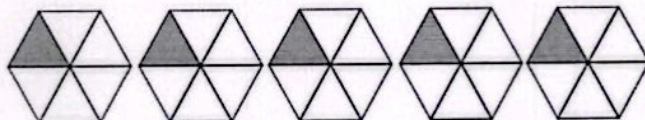
۴. به شکل‌ها با دقت نگاه کرده و جاهای خالی را کامل کن.



۳ دسته‌ی ۳ تایی می‌شود ۹



۳ دسته‌ی ۲ تایی می‌شود ۶



۵ دسته‌ی ۵ تایی می‌شود ۲۵

۵. به جای ستاره‌ی درخشان عدد مناسب قرار بده.

۷ (۲)

۲ (۱)

۱۲ (۴)

۸ (۳)

$$\begin{array}{r} 152 \\ - 96 \\ \hline 56 \end{array}$$

