

به نام خداوند بود و نبود

چهار هوش ۲

نسخه



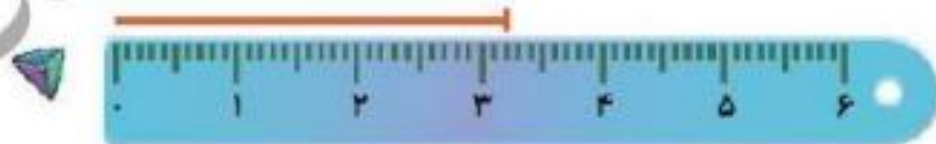
۴. اندازه‌های که هر خط‌کش نشان می‌دهد، به عدد آن وصل کن.

صفحه ۴۷

۵۴ میلی‌متر



۲۳ میلی‌متر



۴۵ میلی‌متر

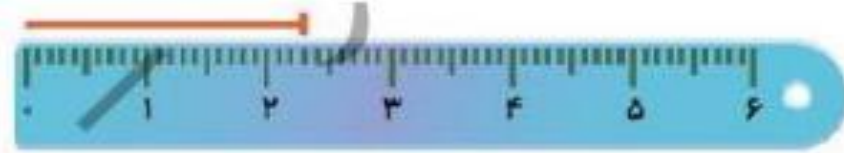


۳۲ میلی‌متر

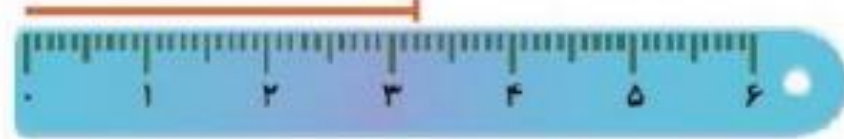


۴. اندازه‌ای که هر خطکش نشان می‌دهد، به عدد آن وصل کن.

۵۴ میلی‌متر



۲۳ میلی‌متر



۴۵ میلی‌متر



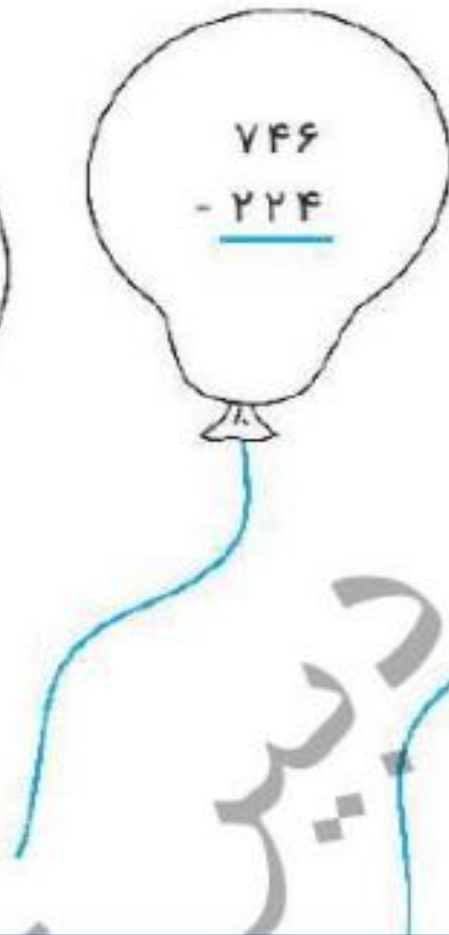
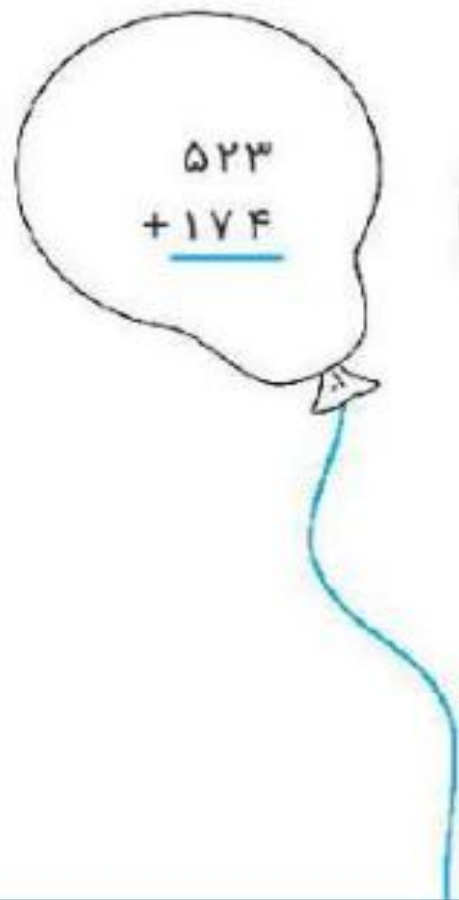
۳۲ میلی‌متر



۳. جمع و تفریقها را به روش داده شده انجام بده. سپس آن بادکنکی را که جوابش بین ۵۰۰ تا ۶۰۰ است

را قرمز کن.

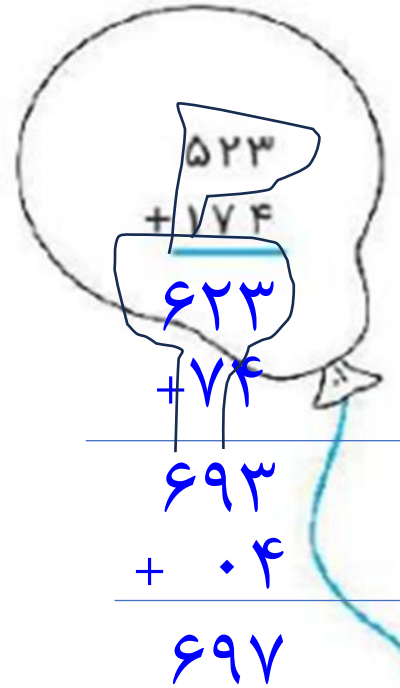
$$\begin{array}{r} 125 \\ + 243 \\ \hline 368 \\ + 43 \\ \hline 411 \\ + 3 \\ \hline 414 \end{array}$$



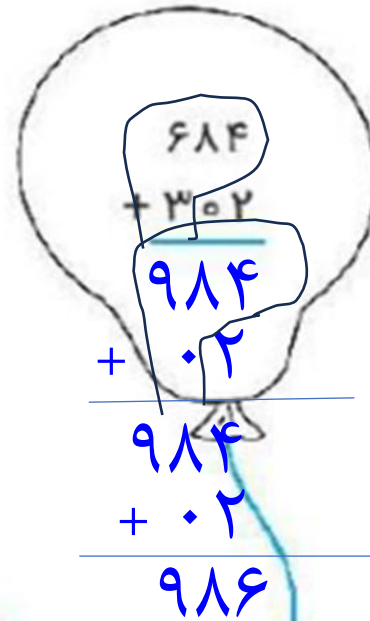
کدام

۳. جمع و تفریق‌ها را به روش داده شده انجام بده. سپس آن بادکنکی را که جوابش بین ۵۰۰ تا ۶۰۰ است را قرمز کن.

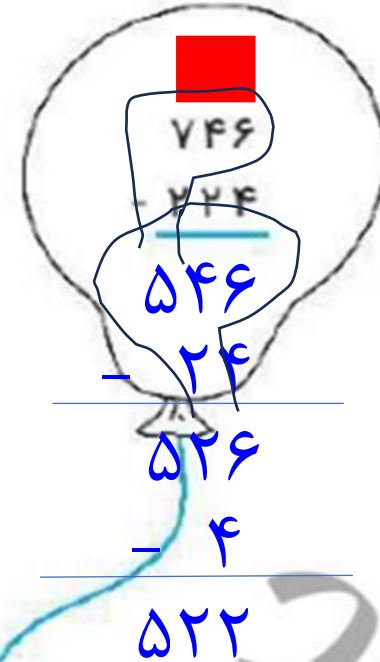
$$\begin{array}{r} 125 \\ + 243 \\ \hline 325 \\ + 43 \\ \hline 368 \\ + 3 \\ \hline 371 \end{array}$$



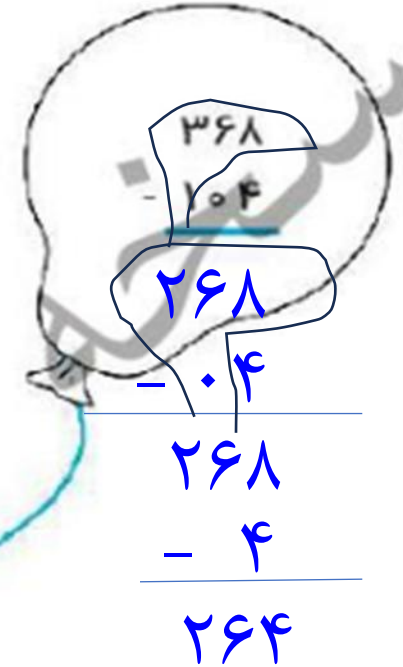
$$\begin{array}{r} 523 \\ + 174 \\ \hline 697 \\ + 74 \\ \hline 771 \end{array}$$



$$\begin{array}{r} 684 \\ + 302 \\ \hline 986 \\ + 0.2 \\ \hline 986.2 \end{array}$$



$$\begin{array}{r} 746 \\ - 224 \\ \hline 522 \\ - 24 \\ \hline 498 \\ - 4 \\ \hline 494 \end{array}$$



$$\begin{array}{r} 368 \\ - 104 \\ \hline 264 \\ + 0.4 \\ \hline 264.4 \end{array}$$

۱. صبا یک دفتر و یک کتاب از فروشگاه لوازم التحریر خرید. او چقدر پول خرج کرده است؟ (با سکه بکش.)



۲۰۴ ریال



۶۵۳ ریال


صفحه ۵۰

سرخه

۱. صبا یک دفتر و یک کتاب از فروشگاه لوازم التحریر خرید. او چقدر پول خرج کرده است؟ (با سکه بکش.)

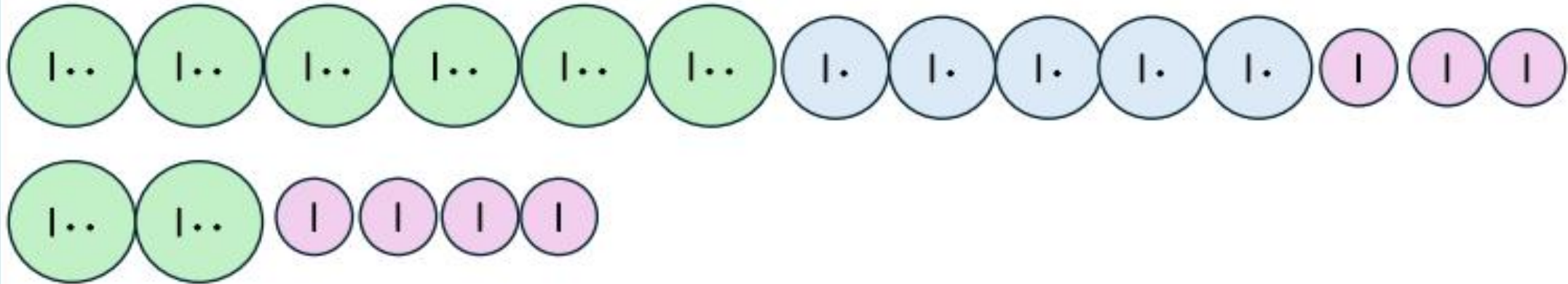


۲۰۴ ریال




۶۵۳ ریال

۸۵۷



۳. با توجه به بسته‌های صدتایی، ده‌تایی و یکی عدد شکل را پیدا کن و دور آن خط بکش.



۴۳۲ (۴)

۵۰۲ (۳)


۵۲۲ (۲)

۴۲۲ (۱)

صفحه ۵۱

کتابخانه

۳. با توجه به بسته‌های صدتایی، ده‌تایی و یکی عدد شکل را پیدا کن و دور آن خط بکش.



100



10



۴۳۲ (۱۴)

۵۰۲ (۵)

۵۲۲ (۲)

۴۲۲ (۱)

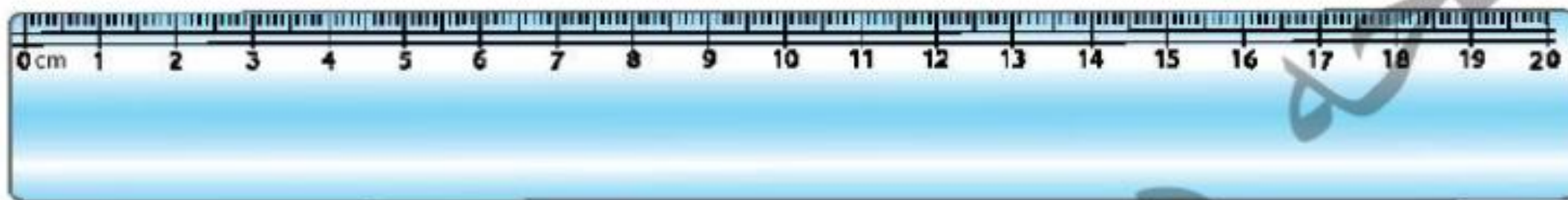
۳. اندازه‌ی مداد مشکی و قرمز را روی خط‌کش زیر مشخص کن. سپس اختلاف طول آن‌ها را با مداد سبز

روی خط‌کش نشان بده.

♦ مداد مشکی: ۱۲^۰ میلی‌متر

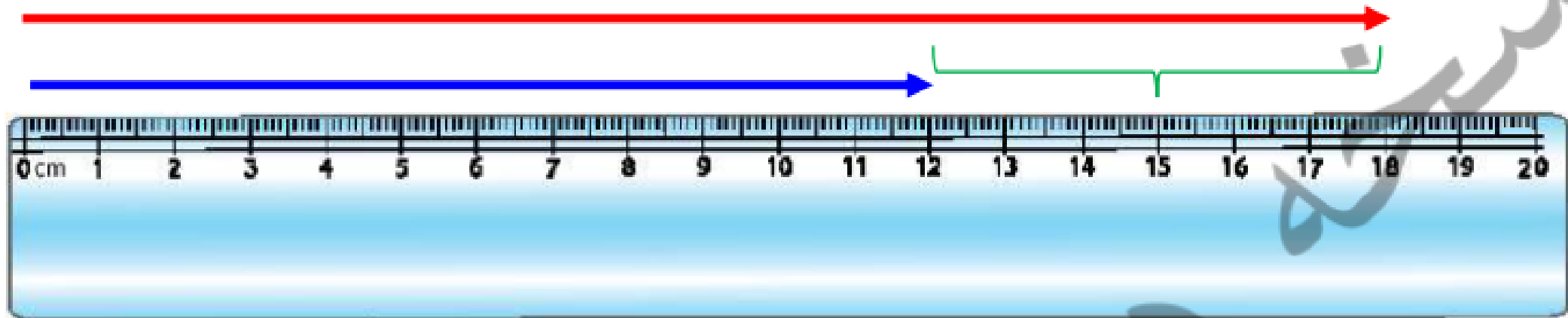
♦ مداد قرمز: ۱۸^۳ میلی‌متر

صفحه ۵۳



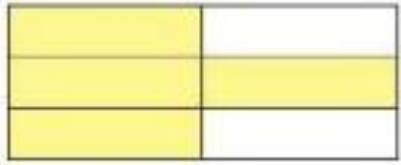
۳. اندازه‌ی مداد مشکی و قرمز را روی خط‌کش زیر مشخص کن. سپس اختلاف طول آن‌ها را با مداد سبز روی خط‌کش نشان بده.

- ◆ مداد مشکی: ۱۲۰ میلی‌متر ۱۲ سانتیمتر
- ◆ مداد قرمز: ۱۸۳ میلی‌متر ۱۸ سانتی‌متر و ۳ میلی‌متر



۴. با توجه به قسمت‌های رنگ شده، هر عبارت را به شکل مناسبش وصل کن.

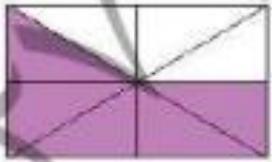
صفحه ۵۳



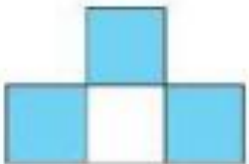
۳ قسمت از ۴ قسمت مساوی



۴ قسمت از ۶ قسمت مساوی


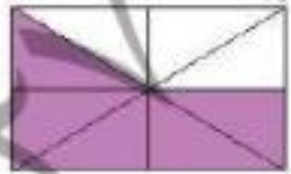
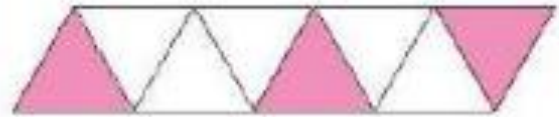
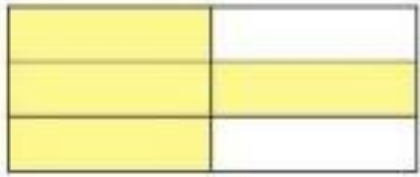


۵ قسمت از ۸ قسمت مساوی



۳ قسمت از ۸ قسمت مساوی

۴. با توجه به قسمت‌های رنگ شده، هر عبارت را به شکل مناسبش وصل کن.



۳ قسمت از ۴ قسمت مساوی



۴ قسمت از ۶ قسمت مساوی



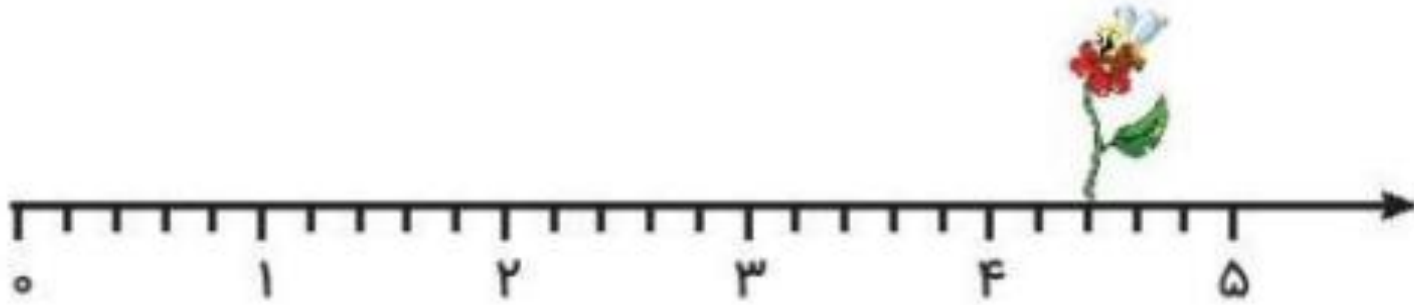
۵ قسمت از ۸ قسمت مساوی



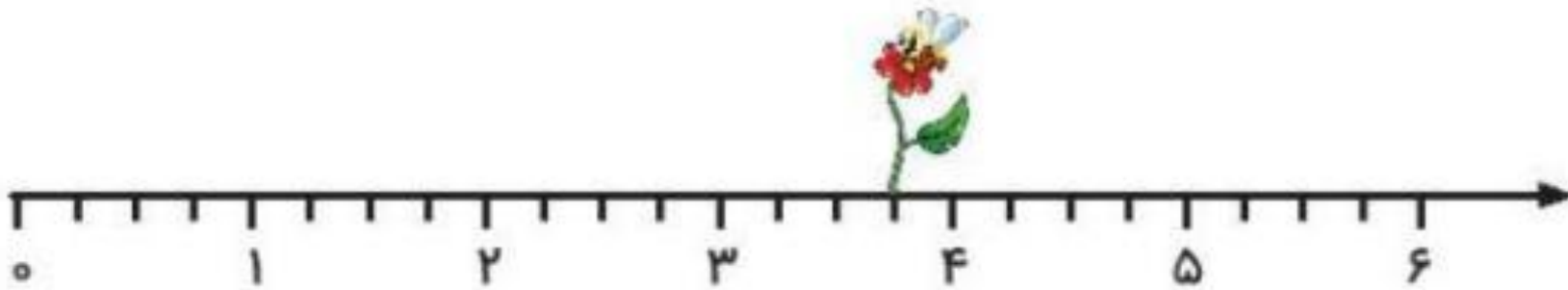
۳ قسمت از ۸ قسمت مساوی

۱. در این محورها هر واحد به قسمت‌های مساوی تقسیم شده و زنبوری روی گل این قسمت نشسته است.

صفحه ۵۴

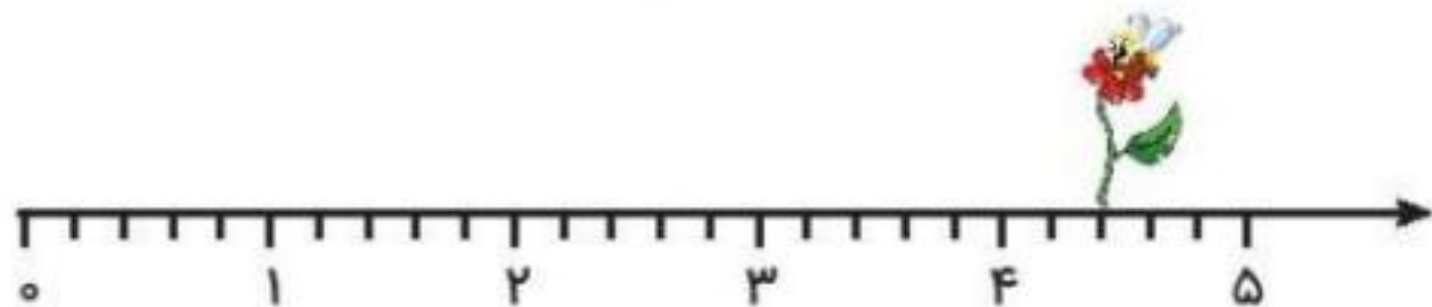


این زنبور روی واحد و قسمت از قسمت مساوی نشسته است.

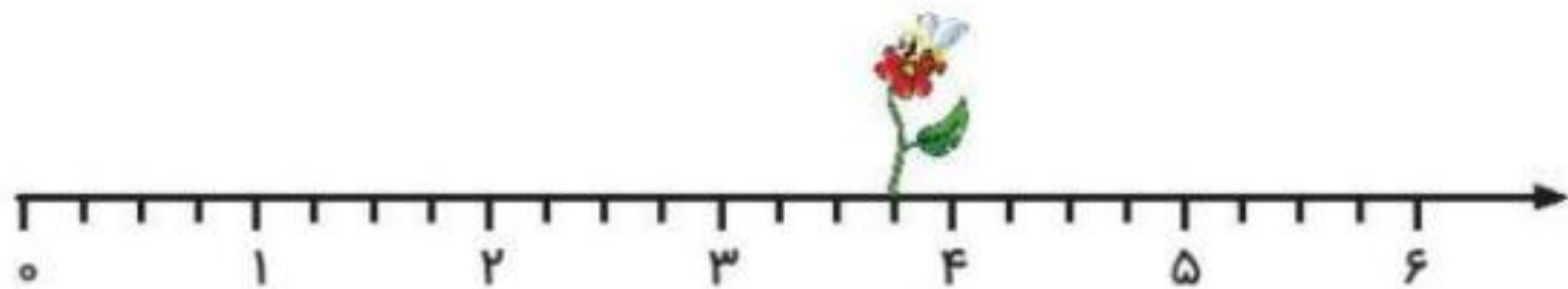


این زنبور روی واحد و قسمت از قسمت مساوی نشسته است.

۱. در این محورها هر واحد به قسمت‌های مساوی تقسیم شده و زنبوری روی گل این قسمت نشسته است.



این زنبور روی^۴ واحد و^۲ قسمت از^۵ قسمت مساوی نشسته است.



این زنبور روی^۳ واحد و^۳ قسمت از^۴ قسمت مساوی نشسته است.