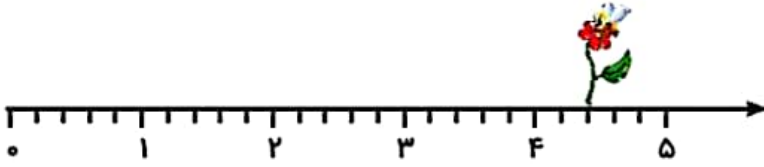



موضوع	شماره سؤال
هوش ریاضی	۱
هوش فضایی	۲
هوش کلامی	۳
سرعت، دقت، تمرکز	۴

۱. در این محورها هر واحد به قسمت‌های مساوی تقسیم شده و زنبوری روی گل این قسمت نشسته است.

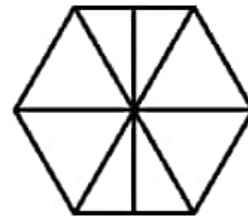
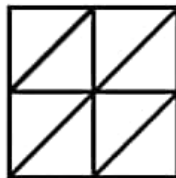


این زنبور روی واحد و قسمت از قسمت مساوی نشسته است.



این زنبور روی واحد و قسمت از قسمت مساوی نشسته است.

۲. شکل‌هایی که به قسمت‌های مساوی تقسیم نشده است را رنگ کن.

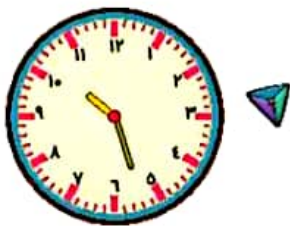


علوی

۳. دلک‌های یک سیرک به صف ایستاده‌اند. فیروز به نوروز که پشتش ایستاده است گفت: چهار همکار پشت من هستند و نوروز گفت: فقط سه همکار از من جلوترند، چند دلک در صف ایستاده‌اند؟

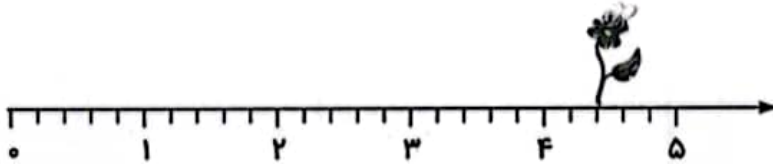


۴. هر ساعت را به زمان خواسته شده وصل کن.




موضوع	شماره سوال
هوش ریاضی	۱
هوش فضایی	۲
هوش کلامی	۳
سرعت، دقت، تمرکز	۴

۱. در این محورها هر واحد به قسمت‌های مساوی تقسیم شده و زنبوری روی گل این قسمت نشسته است.

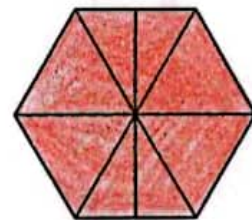
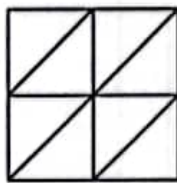
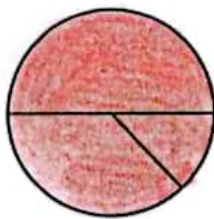
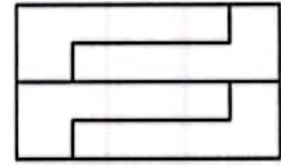
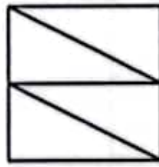


این زنبور روی^۴..... واحد و^۲..... قسمت از^۵..... قسمت مساوی نشسته است.



این زنبور روی^۳..... واحد و^۳..... قسمت از^۴..... قسمت مساوی نشسته است.

۲. شکل‌هایی که به قسمت‌های مساوی تقسیم نشده است را رنگ کن.



۳. دلک‌های یک سیرک به صف ایستاده‌اند. فیروز به نوروز که پشتش ایستاده است گفت: چهار همکار پشت من هستند و نوروز گفت: فقط سه همکار از من جلوترند، چند دلک در صف ایستاده‌اند؟ **۷ دلک**



۴. هر ساعت را به زمان خواسته شده وصل کن.

