

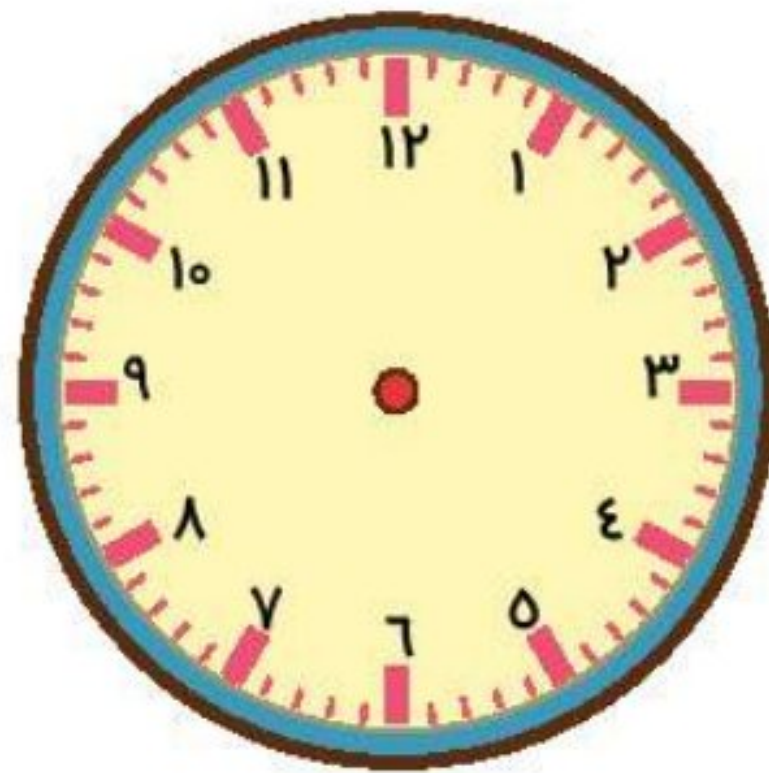
موضوع	شماره سؤال
هوش ریاضی- الگو- احتمال	۱
هوش کلامی	۲
سرعت، دقت، تمرکز	۳
هوش فضایی	۴
سرعت، دقت، تمرکز	۵

هفته آموزشی

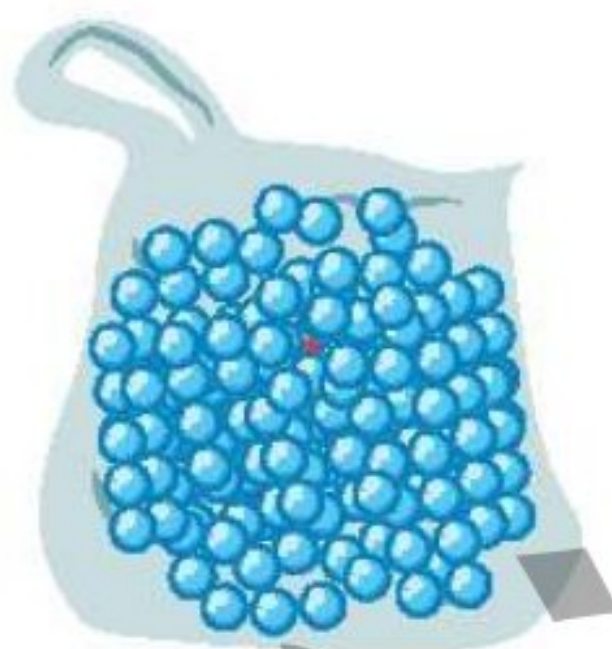
بیست و نهم

۱. الف) الگوی ساعت را ادامه بده و آخرین ساعت را بکش.

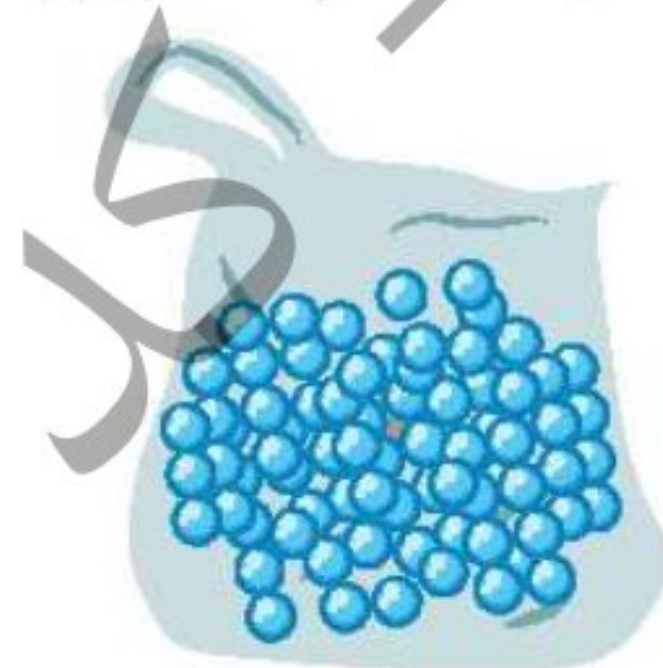
ساعت ۳، ساعت ۳:۲۵، ساعت ۳:۵۰،



ب) سعید، بهزاد و سینا کیسه‌هایی پر از مهره دارند. آن‌ها مهره‌های درون کیسه‌ی خود را شمردند و متوجه شدند رنگ یکی از مهره‌ها متفاوت است. چه کسی زودتر متوجه این تفاوت شد؟



کیسه بهزاد



کیسه سینا



کیسه سعید

۲. الف) یکشنبه به دوشنبه مانند است.

- ۱) روز به ماه
- ۲) مرداد به شهریور
- ۳) ماه به سال
- ۴) ساعت به دقیقه

ب) خلبان به هواپیما مانند است.

- ۱) مشتری به مغازه
- ۲) قایق به کشتی
- ۳) نویسنده به کتاب
- ۴) ملوان به کشتی

