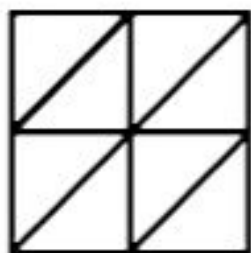
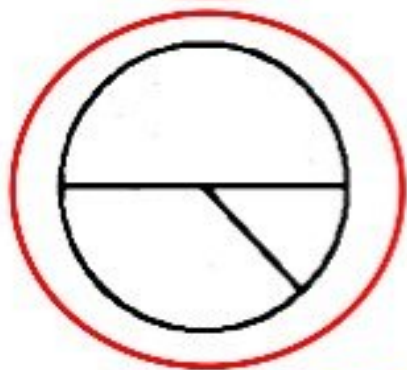
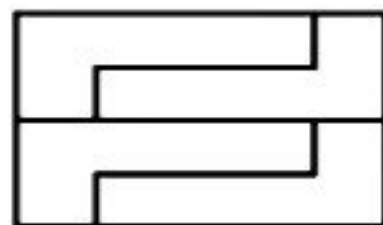



۲. شکل‌هایی که به قسمت‌های مساوی تقسیم نشده است را رنگ کن.



علوی

۳. دلک‌های یک سیرک به صف ایستاده‌اند. فیروز به نوروز که پشتش ایستاده است گفت: «چهار همکار

پشت من هستند و نوروز گفت: فقط سه همکار از من جلوترند. چند دلک در صف ایستاده‌اند؟

نوروز



4

فیروز



1

$$4+3=7$$



7 دلک در 1 صف ایستاده‌اند

۴. هر ساعت را به زمان خواسته شده وصل کن.

