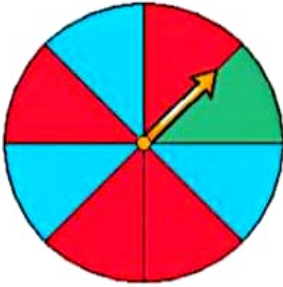


موضوع	شماره سؤال	هفته آموزشی
هوش ریاضی- احتمال	۱	بیست و نهم
سرعت، دقت، تمرکز	۲	
هوش فضایی	۳	
هوش کلامی	۴	

۱. اگر دیبا صفحه‌ی چرخنده را بچرخاند و ۷۰ امتیاز به دست بیاورد می‌تواند در یک مسابقه شرکت کند. برای به دست آوردن این امتیاز، فلش باید روی چه رنگ‌هایی و چند بار بایستد؟


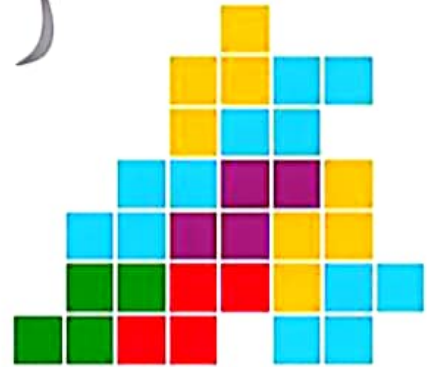
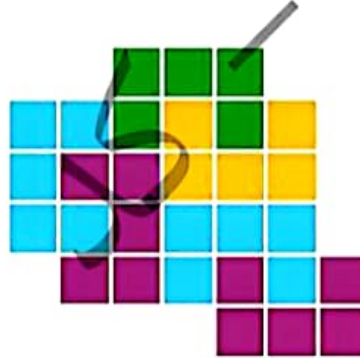



قرمز: ۳۰ امتیاز

آبی: ۲۰ امتیاز

سبز: ۱۰ امتیاز

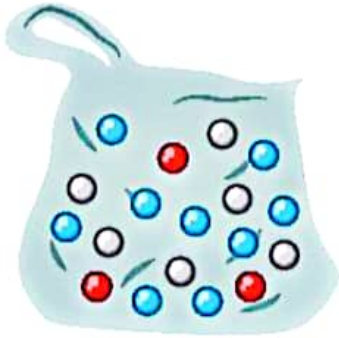
۲. به تصاویر با دقت نگاه کن و بدون شمردن مربع‌ها، حدس بزن تعداد کدام رنگ از همه بیشتر است؟ سپس حدس خود را با شمارش مربع‌ها بررسی کن.



چهار هوش دوم دبستان



۳. در یک کیسه ۱۸ مهره داریم. ۶ مهره سفید، ۳ مهره قرمز و ۹ مهره آبی.



جملات را با توجه به تعداد مهره‌ها کامل کن.

..... مهره از ..... مهره، سفید است.

..... مهره از ..... مهره، قرمز و آبی است.

۴. مجید برای خودش و مادر بزرگش میوه خریده است. به کیسه‌های او نگاه کرده و جاهای خالی را کامل کن.


..... دسته‌ی ..... تایی موز می‌شود .....

..... دسته‌ی ..... تایی سیب می‌شود .....



موضوع	شماره سؤال
هوش ریاضی- نمودار	۱
هوش کلامی	۲
هوش فضایی	۳
سرعت، دقت، تمرکز	۴

۱. سارا در ماه مهر، ۹ روز ریاضی، ۵ روز زبان، ۷ روز فارسی و در بقیه‌ی روزها علوم خوانده است. جدول و نمودار زیر را طبق روزهای مطالعه‌ی او کامل کن.



درس	تعداد روزهای مطالعه
ریاضی	
فارسی	
علوم	
زبان	

۲. سحر، شعر و کتاب خواندن را بسیار دوست دارد. یک روز دوستش از او خواست شعر زیر را برایش بخواند و با هم یک بازی انجام دهند. قرار شد هر کسی توانست تعداد کل نقطه‌های این دو بیت را بشمارد و علاوه بر آن کلمه‌هایی پیدا کند که فقط دو نقطه دارند، یک کتاب هدیه بگیرد. تو هم می‌توانی در مسابقه‌ی آن‌ها شرکت کنی.

نفس باد صبا مشک فشان خواهد شد

ارغوان جام عقیقی به سن خواهد داد

♦ تعداد کل نقطه‌های این دو بیت:

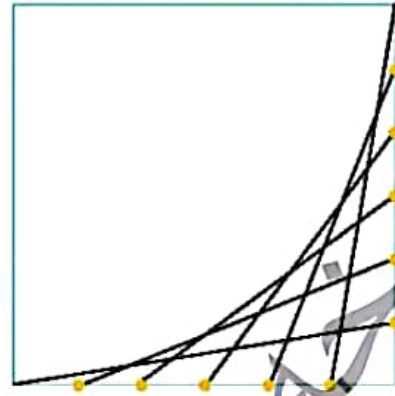

♦ تعداد کلمات دو نقطه در دو بیت:

عالم پیر دگر باره جوان خواهد شد

چشم زرگس به شقایق نگران خواهد شد



۳. شکل سمت راست را در صفحه‌ی سمت چپ رسم کن.



۴. الف) دور عددهای زوج را با دایره‌ی قرمز رنگ و دور عددهای فرد را با مربع سبز رنگ خط بکش.

۷۲ - ۱۱۴ - ۵۰ - ۹ - ۳۴۸ - ۶۰۱ - ۱۷

ب) در کدام گزینه، تعداد اعداد بزرگ‌تر از ۶۰ در دو طرف  با هم برابر است؟

(۱) ۵۹ - ۱۰۰ - ۱۵۰ - ۷۱  ۶۱ - ۱۶ - ۵۹ - ۱۲۳

(۲) ۱۲ - ۱۹ - ۵۹ - ۶۹  ۷۵ - ۶۵ - ۵۵ - ۴۵


(۳) ۱۳۹ - ۳۰۰ - ۸۹ - ۹۰  ۱۲۴ - ۲۰۰ - ۹۹ - ۸۰

(۴) ۱۰ - ۲۲ - ۱۰۴ - ۴۶  ۱ - ۹۵ - ۱۳ - ۹۶








موضوع	شماره سوال	هفته آموزشی
هوش ریاضی- احتمال	۱	بیست و ششم
سرعت، دقت، تمرکز	۲	
هوش فضایی	۳	
هوش کلامی	۴	

۱. اگر دیبا صفحه‌ی چرخنده را بچرخاند و ۷۰ امتیاز به دست بیاورد می‌تواند در یک مسابقه شرکت کند. برای به دست آوردن این امتیاز، فلش باید روی چه رنگ‌هایی و چند بار بایستد؟



- قرمز: ۳۰ امتیاز  $\rightarrow 10 + 10 + 10 = 30$  (۱ قرمز و ۲ سبز)
- آبی: ۲۰ امتیاز  $\rightarrow 10 + 10 = 20$  (۲ آبی)
- سبز: ۱۰ امتیاز  $\rightarrow 10 = 10$  (۱ سبز)

۲. به تصاویر با دقت نگاه کن و بدون شمردن مربع‌ها، حدس بزن تعداد کدام رنگ از همه بیشتر است؟ سپس حدس خود را با شمارش مربع‌ها بررسی کن. (آبی)



۳. در یک کیسه ۱۸ مهره داریم. ۶ مهره سفید، ۳ مهره قرمز و ۹ مهره آبی.



جملات را با توجه به تعداد مهره‌ها کامل کن.

..... مهره از ..... مهره سفید است.

..... مهره از ..... مهره قرمز و آبی است.

۴. مجید برای خودش و مادر بزرگش میوه خریده است. به کیسه‌های او نگاه کرده و جاهای خالی را کامل کن.


..... دسته‌ی ..... تایی موز می‌شود .....  
 ..... دسته‌ی ..... تایی سیب می‌شود .....

..... دسته‌ی ..... تایی سیب می‌شود .....



سوال		هفته آموزشی
۱	هوش ریاضی- نمودار	بیست و هفتم
۲	هوش کلامی	
۳	هوش فضایی	
۴	سرعت، دقت، تمرکز	

۱. سارا در ماه مهر، ۹ روز ریاضی، ۵ روز زبان، ۷ روز فارسی و در بقیه‌ی روزها علوم خوانده است. جدول و نمودار زیر را طبق روزهای مطالعه‌ی او کامل کن.



درس	تعداد روزهای مطالعه
ریاضی	۹
فارسی	۷
علوم	۹
زبان	۵

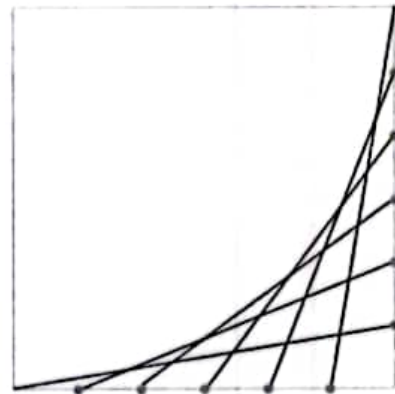
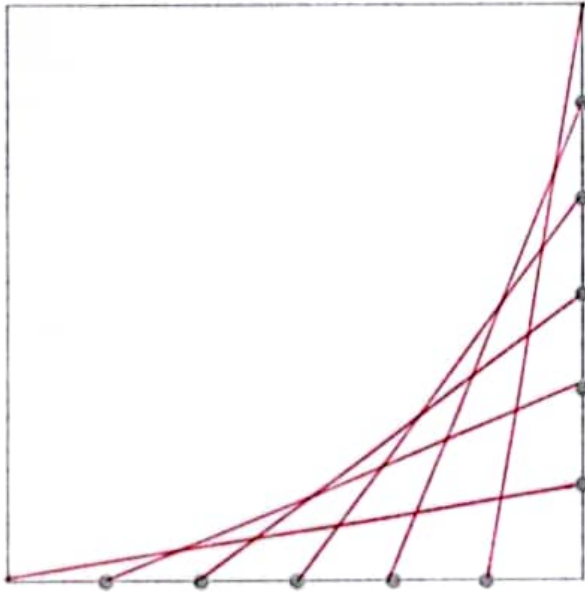
۲. سحر، شعر و کتاب خواندن را بسیار دوست دارد. یک روز دوستش از او خواست شعر زیر را برایش بخواند و با هم یک بازی انجام دهند. قرار شد هر کسی توانست تعداد کل نقطه‌های این دو بیت را بشمارد و علاوه بر آن کلمه‌هایی پیدا کند که فقط دو نقطه دارند، یک کتاب هدیه بگیرد. تو هم می‌توانی در مسابقه‌ی آن‌ها شرکت کنی.

نفس باد صبا مشک فشان خواهد شد      عالم پسر دگر باره جوان خواهد شد  
 ارغوان جام عقیقی به سن خواهد داد      چشم زگس به شقایق نگران خواهد شد

- ◆ تعداد کل نقطه‌های این دو بیت: ۶۳ نقطه
- ◆ تعداد کلمات دو نقطه در دو بیت: نفس - جوان - ارغوان - نگران



۳. شکل سمت راست را در صفحه‌ی سمت چپ رسم کن.



۴. الف) دور عددهای زوج را با دایره‌ی قرمز رنگ و دور عددهای فرد را با مربع سبز رنگ خط بکش.

۷۲ - ۱۱۴ - ۵۰ - ۹ - ۳۴۸ - ۶۰۱ - ۱۷

ب) در کدام گزینه، تعداد اعداد بزرگ‌تر از ۶۰ در دو طرف :::: با هم برابر است؟

۱) ۵۹ - ۱۰۰ - ۱۵۰ - ۷۱ :::: ۶۱ - ۱۶ - ۵۹ - ۱۲۳

۲) ۱۲ - ۱۹ - ۵۹ - ۶۹ :::: ۷۵ - ۶۵ - ۵۵ - ۴۵

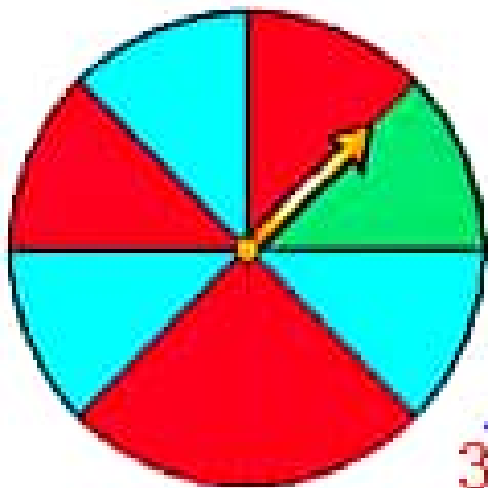
۳) ۱۳۹ - ۳۰۰ - ۸۹ - ۹۰ :::: ۱۲۴ - ۲۰۰ - ۹۹ - ۸۰

۴) ۱۰ - ۲۲ - ۱۰۴ - ۴۶ :::: ۱ - ۹۵ - ۱۳ - ۹۶



۱. اگر دیبا صفحه‌ی چرخنده را بچرخاند و ۷۰ امتیاز به دست بیاورد می‌تواند در یک مسابقه شرکت کند.

برای به دست آوردن این امتیاز، فلش باید روی چه رنگ‌هایی و چند بار بایستد؟



$$30+30+10=70$$

۲ قرمز و ۱ سبز

قرمز: ۳۰ امتیاز

$$20+20+30=70$$

۲ آبی و ۱ قرمز

آبی: ۲۰ امتیاز

$$30+20+10+10=70$$

۱ قرمز و ۱ آبی و ۲ سبز

سبز: ۱۰ امتیاز

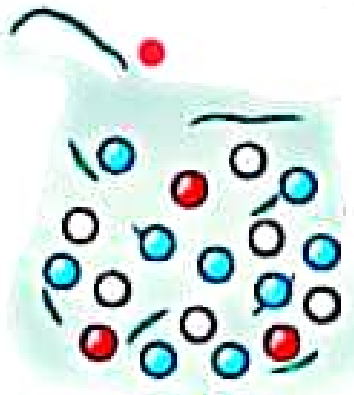
## علوی

۳. در یک کیسه ۱۸ مهره داریم. ۶ مهره سفید، ۳ مهره قرمز و ۹ مهره آبی.

جملات را با توجه به تعداد مهره‌ها کامل کن.

..... ۶ مهره از ..... ۱۸ مهره، سفید است.

..... ۱۲ مهره از ..... ۱۸ مهره، قرمز و آبی است.



۴. مجید برای خودش و مادر بزرگش میوه خریده است. به کیسه‌های او نگاه کرده و جاهای خالی را کامل کن.

..... دسته‌ی ..... تایی موز می‌شود .....

..... دسته‌ی ..... تایی سیب می‌شود .....



۴. مجید برای خودش و مادر بزرگش میوه خریده است. به کیسه‌های او نگاه کرده و جاهای خالی را کامل کن.

.....<sup>3</sup> دسته‌ی .....<sup>2</sup> تایی موز می‌شود .....<sup>6</sup>

.....<sup>2</sup> دسته‌ی .....<sup>3</sup> تایی سیب می‌شود .....<sup>6</sup>

