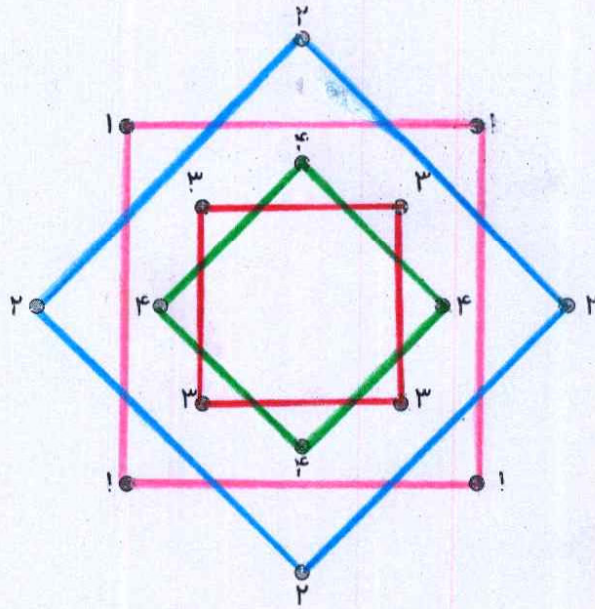
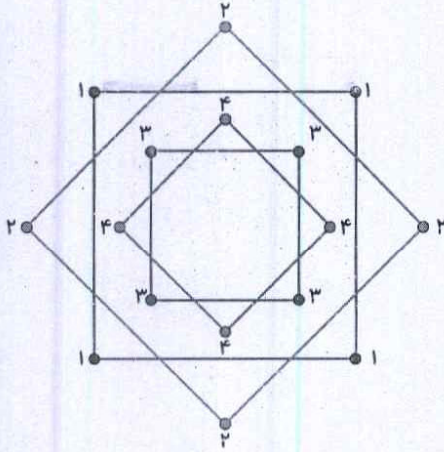
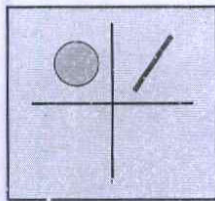
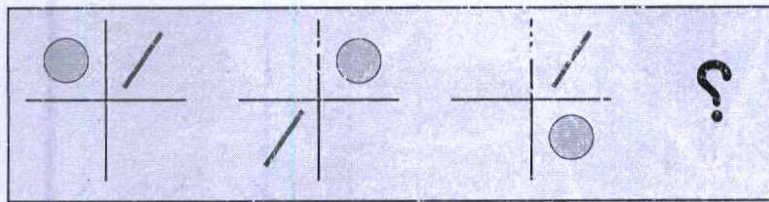


عالمی

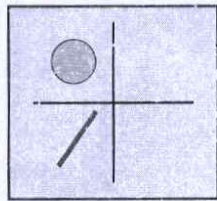
۳. عددهای مثل هم را با خط کش به هم وصل کن تا شکل سمت چپ به دست آید.



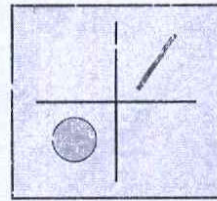
۴. به جای ؟ کدام شکل را فرار می‌دهی؟



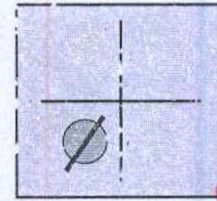
(۴)



(۳)



(۲)



(۱)

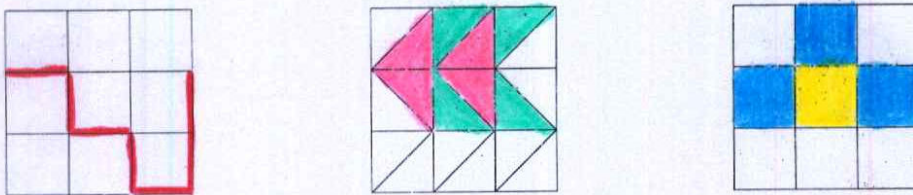

۵. جدول شگفت‌انگیز زیر را کامل کن

۲	۴	۱	۳
۱	۳	۴	۲
۳	۱	۲	۴
۴	۲	۳	۱




موضوع	شماره سؤال	هفته آموزشی
هوش ریاضی - الگویابی و رسم الگوی تکرار شونده	۱	نهم
سرعت، دقت، تمرکز	۲	
هوش فضایی	۳	
هوش کلامی	۴	

۱. الگوها را ادامه بده و شکلی را که تکرار می‌شود، در قسمت پایین بکش.




۲. در کدام تصویرها نشانه‌ی «ت» دو بار تکرار شده است؟ دور آن‌ها خط بکش.




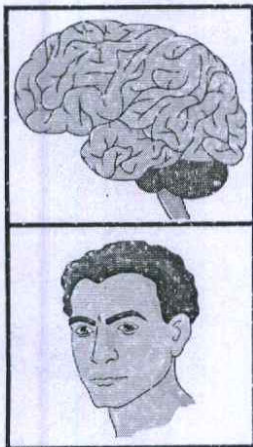


علوی

۳. به کمک راهنما، شاپرک را به گل برسان.

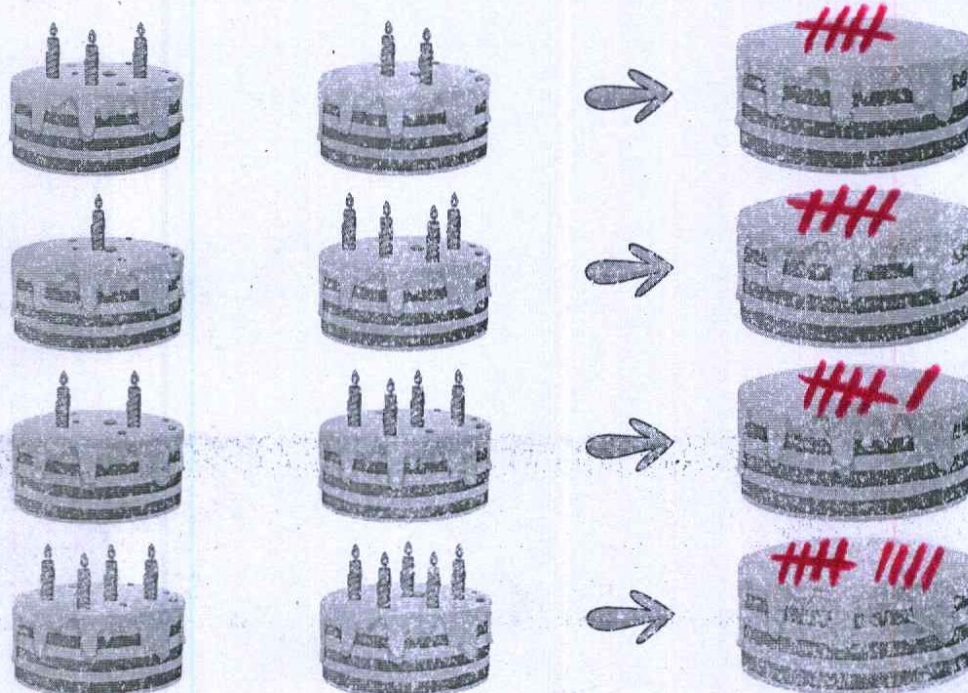


۴. کدام دسته با بقیه فرق دارد؟ علامت ✗ بزن.




موضوع	تعداد سوالات	هفته آموزشی
هوش ریاضی - درک مفهوم جمع دو عدد	۱	دهم
هوش فضایی - درک تقارن افقی	۲	
هوش کلامی	۳	
سرعت، دقت، تمرکز	۴	

۱. شمع‌های هر کیک روی هم چندتا می‌شود؟ جواب را با چوب خط روی کیک سمت راست نشان بده.



۲. بیمه‌ی دیگر شکل، رنگ، بزن.



علوی

۳. با کمک کارت نشانه‌ها کلمه بساز. می‌توانی از هر کارت چندبار استفاده کنی.

ت ت	د	س س	ن ن	آ آ
-----	---	-----	-----	-----

..... د ا س : داس

..... د ا ن ا : دانا

..... ن ا د ا ن : نادان


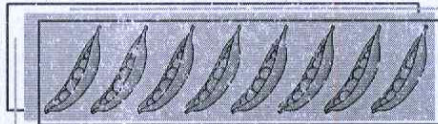

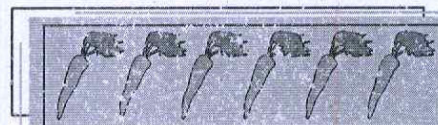


..... د ا س ت ا ن : داستان

۴. ۶ اختلاف بین دو تصویر را پیدا کرده و با علامت X مشخص کن.




موضوع	شماره سوال	هفته آموزشی
هوش ریاضی - درک مفهوم نسبی با تعداد اعضاء در دسته	۱	یازدهم
هوش فضایی	۲	
هوش کلامی	۳	
سرعت، دقت، تمرکز	۴	

۱. عدد هر دسته را بنویس. اگر تعداد هر دو دسته با هم برابر است، علامت = بگذار.

	<input type="checkbox"/>	
۷		۸
	<input type="checkbox"/>	
۶	=	۶
	<input type="checkbox"/>	
۵	=	۵

۲. نخ هر قرقره را دنبال، کرده و نخ و مهره‌های در مسیر را با قرقره هم‌رنگ کن.



۳. با نشانه‌های، کلمه‌ی «سینما» چه کلمه‌ی دیگری را می‌توان نوشت؟

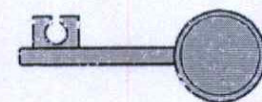



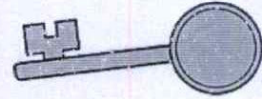

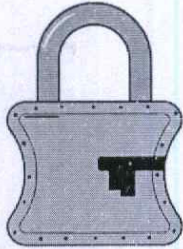
(۴) تماشا

(۳) نمایش

(۲) سینما


(۱) سیب

۴. هر کلید را به قفل مخصوص به خود وصل کن.




موضوع	شماره سوال	هفته آموزشی
هوش ریاضی - درک مفهوم مقایسه و خواندن عبارت‌های نامساوی دو عدد	۱	دوازدهم
هوش فضایی - درک تقارن عمودی و کامل کردن شکل‌های قرینه در صفحه شطرنجی	۲	
هوش کلامی	۳	
سرعت، دقت، تمرکز	۴	

۱. عدد هر دسته را بنویس و از علامت‌های $<$ $=$ $>$ استفاده کن.



$$8 = 8$$



$$4 > 1$$



$$3 < 8$$



$$7 > 6$$




$$5 < 6$$




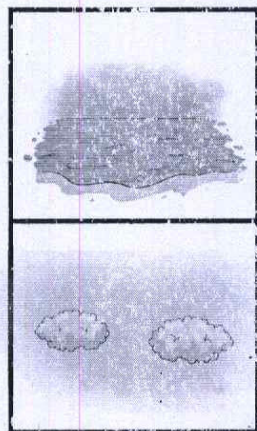
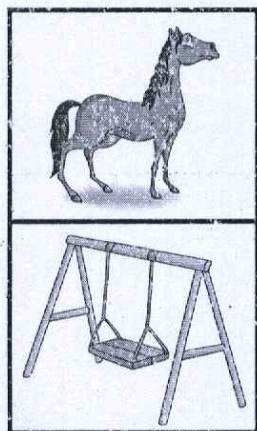
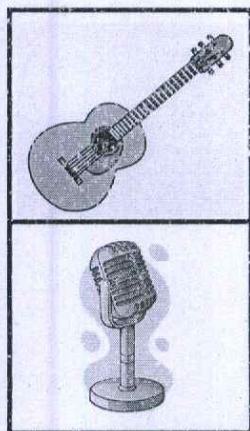
$$9 > 3$$

۲. نیمه‌ی دیگر شکل را کامل کن.



علوی

۳. بین کدام دو تصویر ارتباط وجود دارد؟ با علامت ✓ مشخص کن




۴. مانند نمونه، الگوی عددی ۱۲۳۴ را در بین مجموعه‌ی اعداد پیدا کن.

۵ ۶ ۴ ۲ ۱ ۲ ۳ ۴ ۸ ۵ ۴ ۳ ۶ ۷ ۲ ۱
 ۱ ۲ ۳ ۴ ۵ ۸ ۲ ۱ ۳ ۴ ۶ ۸ ۷ ۲ ۳ ۵
 ۳ ۴ ۸ ۵ ۴ ۲ ۳ ۱ ۲ ۳ ۴ ۷ ۶ ۹ ۲
 ۵ ۷ ۶ ۴ ۲ ۳ ۲ ۲ ۵ ۱ ۳ ۴ ۱ ۲ ۳ ۴
 ۵ ۴ ۲ ۲ ۱ ۲ ۳ ۴ ۵ ۶ ۵ ۲ ۱ ۴ ۷ ۸
 ۱ ۱ ۲ ۲ ۴ ۳ ۴ ۱ ۴ ۳ ۲ ۱ ۱ ۲ ۳ ۴ ۶
 ۸ ۷ ۶ ۱ ۳ ۴ ۵ ۸ ۷ ۵ ۲ ۱ ۳ ۴ ۵ ۲ ۱
 ۱ ۲ ۴ ۵ ۶ ۸ ۳ ۱ ۲ ۳ ۴ ۹ ۵ ۲ ۳ ۴
 ۶ ۰ ۱ ۴ ۵ ۳ ۲ ۵ ۷ ۱ ۸ ۹ ۱ ۲ ۳ ۴ ۲




موضوع	شماره سؤال	هفته آموزشی
انجام عمل جمع - با سرعت، دقت، تمرکز	۱	سیزدهم
هوش ریاضی - درک نماد ستونی اعداد و تبدیل نمایش ستونی به عددی و بالعکس آن	۲	
هوش کلامی	۳	
هوش فضایی با کمک تجسم فضایی	۴	


۱. عدد مربوط به هر شکل را بنویس و حاصل جمع را حساب کن.




+



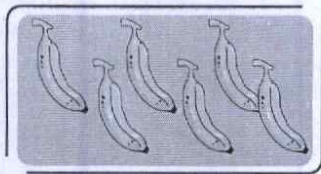
$$: \quad 5 + 4 = 9$$




+



$$: \quad 4 + 3 = 7$$

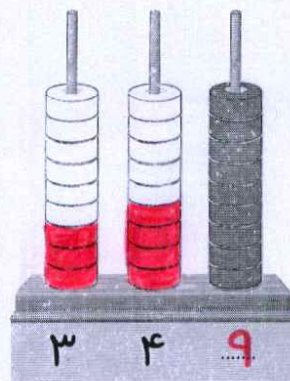
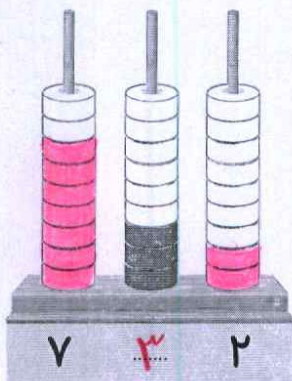
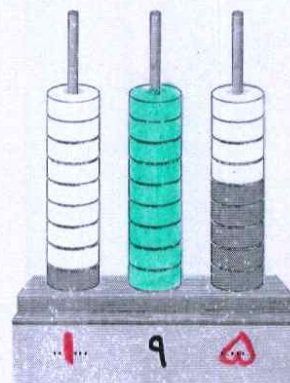
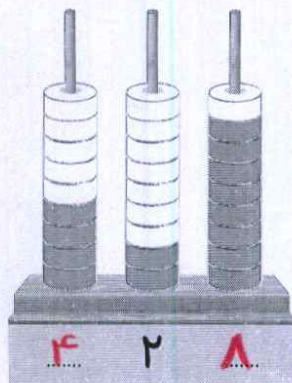


+



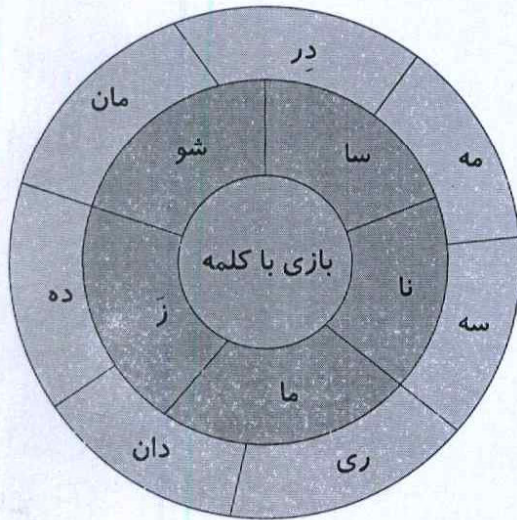
$$: \quad 6 + 2 = 8$$

۲. به تعداد عددهای نوشته شده، از دایره‌ها رنگ بزن و عدد ستون رنگ شده را بنویس.



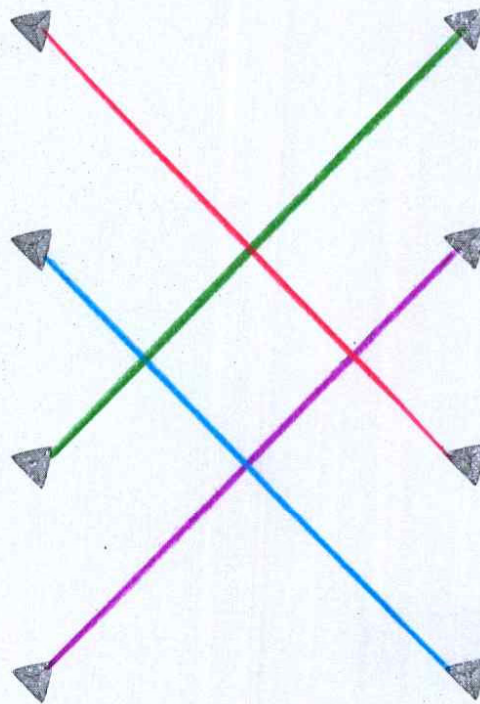

علوی

۳. به گردونه‌ی کلمه‌سازی دقت کن: چند کلمه می‌توانی بسازی؟



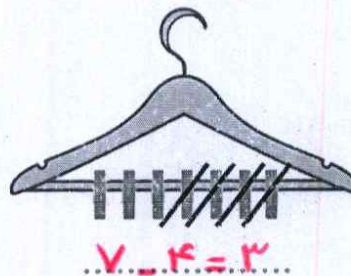
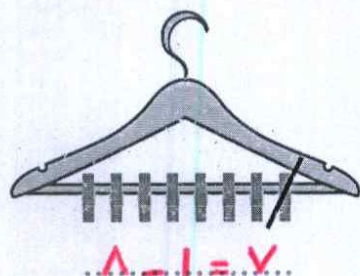
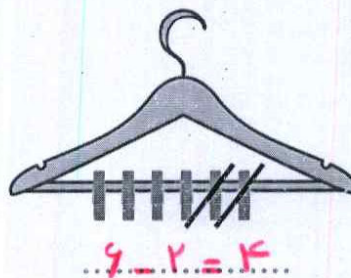
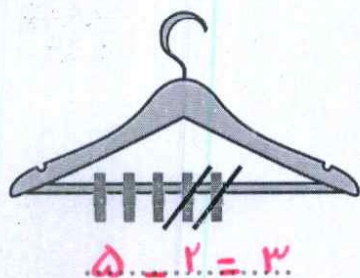
- نام
- شوری
- نادر
- زمان
- نادان
- زری
- سامان
- زده
- ساده
- مامان
- ساری
- ماسه
- ماری

۴. قسمت پنهان شده‌ی هر شکل را پیدا و به آن وصل کن.

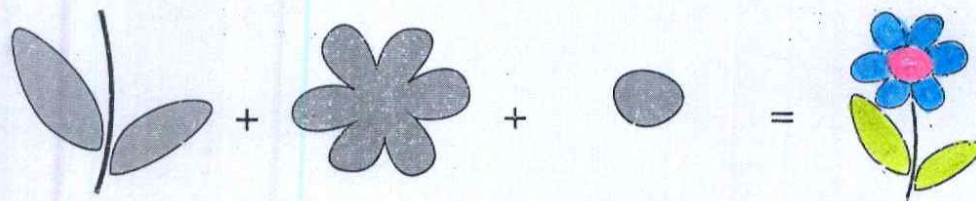
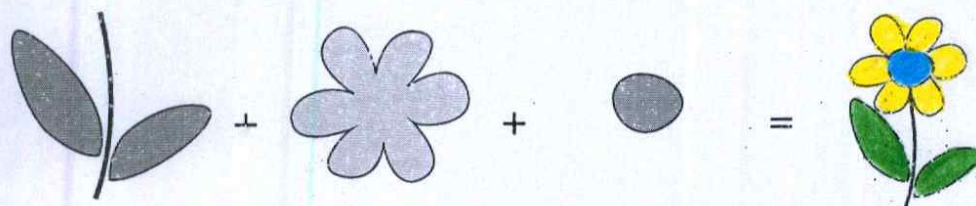
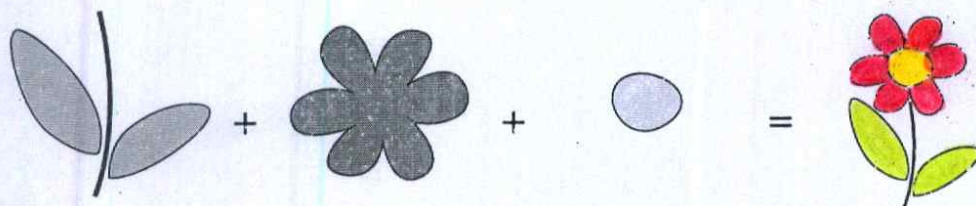


موضوع	شماره سوال	هفته آموزشی
هوش ریاضی - انجام عمل تفریق	۱	چهاردهم
هوش فضایی	۲	
هوش کلامی	۳	
سرعت، دقت، تمرکز با کمک تجسم فضایی	۴	

۱. برای هر شکل عبارت تفریق بنویس و جواب آن را به دست بیاور.




۲. اگر شکل‌های هر ردیف را با هم جمع و ترکیب کنی، چه شکلی درست می‌شود؟

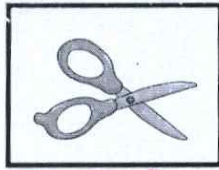


علوی


۳. نام هر تصویر را زیر آن بنویس. کدام تصویر بیشترین تعداد نقطه در کلمه را دارد؟



پرچم



قیچی




چاقو



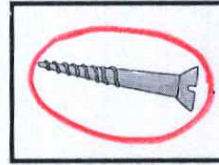
چکمه




پارچ



قوچ





پیچ




قارچ


۴. در جای خالی کدام قطعه‌ی پازل را قرار می‌دهی؟ دور آن خط بکش.




(۲)



(۴)



(۱)



(۳)

