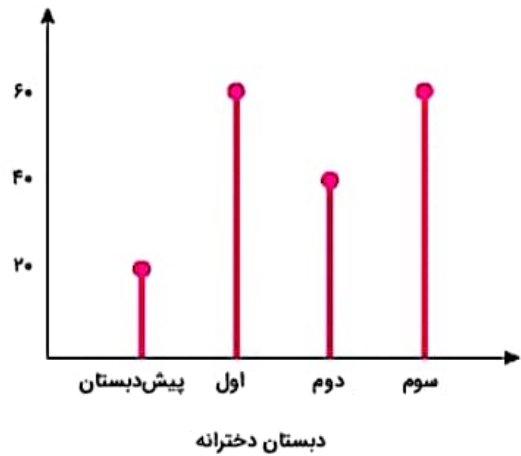
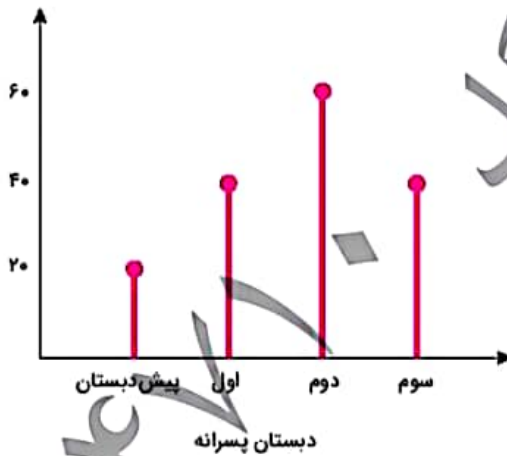


موضوع	شماره سوال
هوش ریاضی - ماشین ورودی خروجی	۱
هوش کلامی	۲
هوش فضایی	۳
سرعت، دقت، تمرکز	۴

۱. جاهای خالی را کامل کن.

۱۹	➔ +۱۳	○
○		۵۱
۲۵	➔	○
۴۲		۲۷
۵۰		○
○		۵۴

۲. در خیابانی یک مدرسه‌ی پسرانه و یک مدرسه‌ی دخترانه وجود دارد. تعداد دانش‌آموزهای هر پایه در این مدرسه‌ها روی نمودارهای زیر نشان داده شده است.



الف) در کدام مدرسه تعداد دانش‌آموزهای کلاس دوم بیشتر است؟

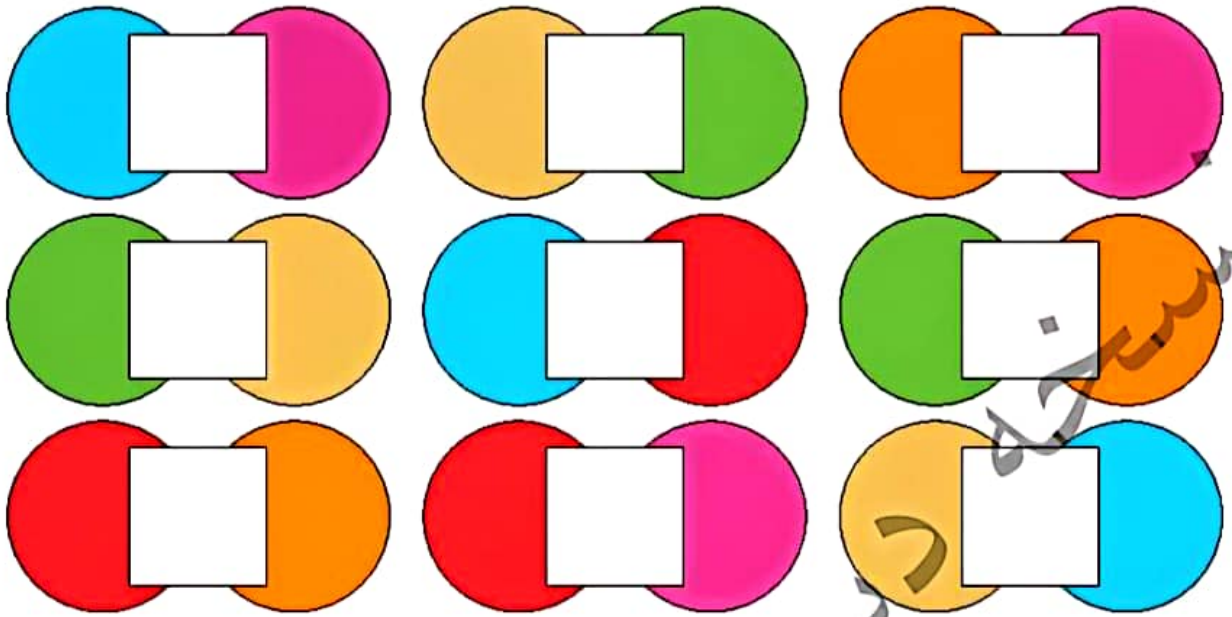
ب) در کدام مدرسه تعداد کل دانش‌آموزها بیشتر است؟

چهارهوش دوم دبستان



# علوی

۳. با توجه به تصویر، جاهای خالی با کدام شکل‌ها کامل می‌شود؟



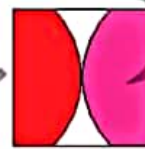
(۱)



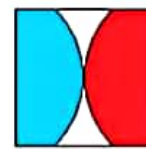
(۲)



(۳)



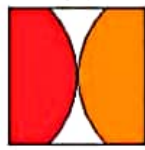
(۴)



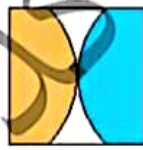
(۵)



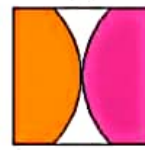
(۶)



(۷)



(۸)

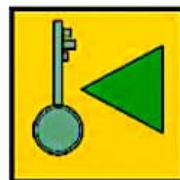


(۹)

۴. به جای ؟ کدام گزینه را قرار می‌دهی؟



(۱)



(۲)



(۳)

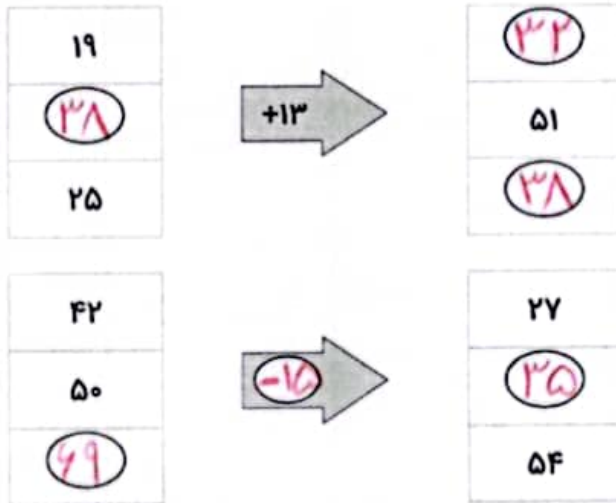


(۴)


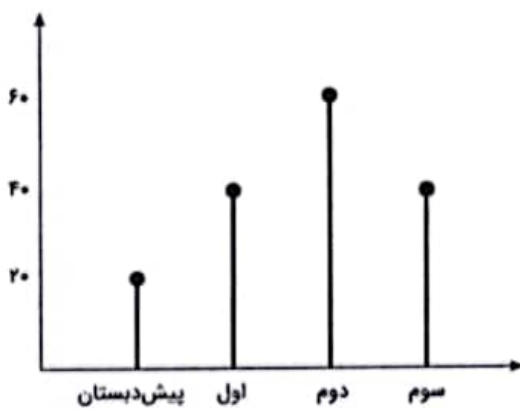


موضوع	شماره سوال	هفته آموزشی
هوش ریاضی- ماشین ورودی خروجی	۱	بیست و هشتم
هوش کلامی	۲	
هوش فضایی	۳	
سرعت، دقت، تمرکز	۴	

۱. جاهای خالی را کامل کن.



۲. در خیابانی یک مدرسه‌ی پسرانه و یک مدرسه‌ی دخترانه وجود دارد. تعداد دانش‌آموزهای هر پایه در این مدرسه‌ها روی نمودارهای زیر نشان داده شده است.



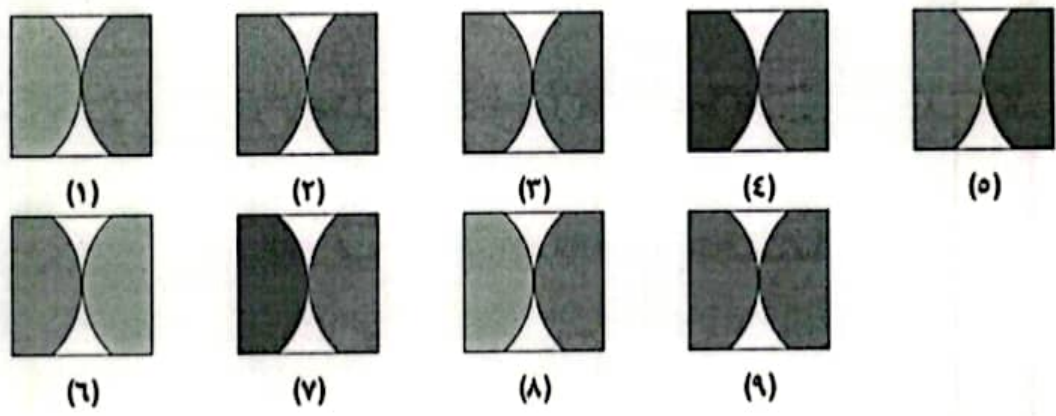
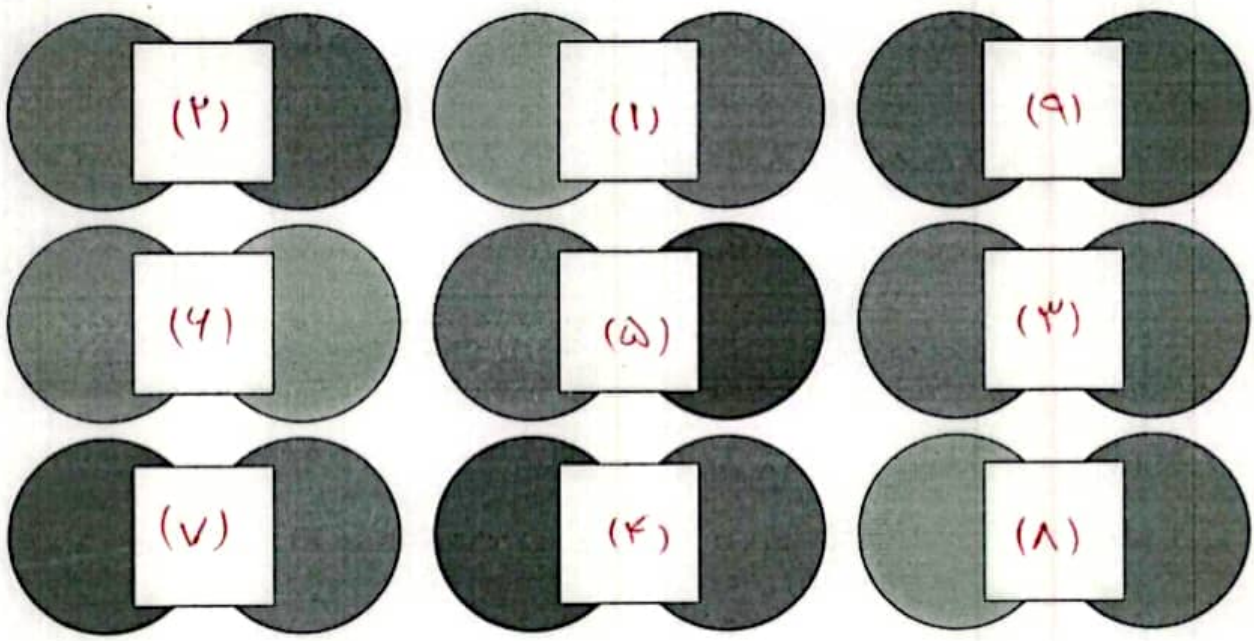
الف) در کدام مدرسه تعداد دانش‌آموزهای کلاس دوم بیشتر است؟ **دبستان پسرانه**

ب) در کدام مدرسه تعداد کل دانش‌آموزها بیشتر است؟ **دبستان دخترانه**



**علوی**

۳. با توجه به تصویر، جاهای خالی با کدام شکل‌ها کامل می‌شود؟



۴. به جای ؟ کدام گزینه را قرار می‌دهی؟

