

موضوع	شماره سؤال	هفته آموزشی
هوش ریاضی - حل مسئله	۱	نوزدهم
هوش فضایی	۲	
هوش کلامی	۳	
سرعت، دقت، تمرکز	۴	



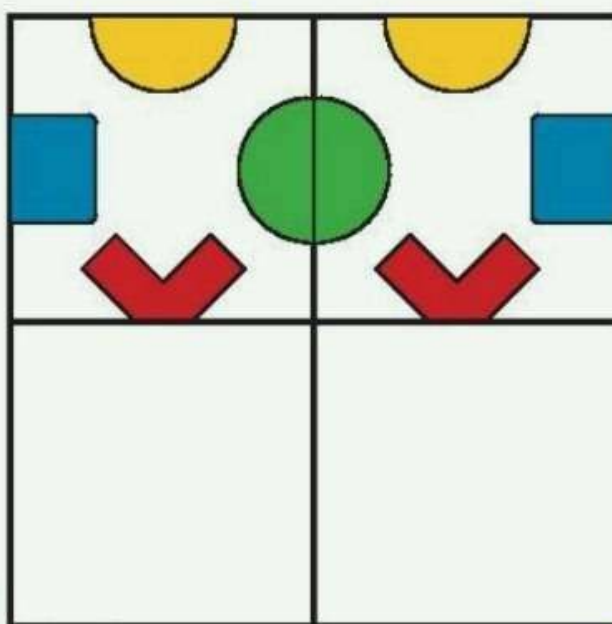
۱. پرسش‌های زیر را حل کن.

◆ سیما ۱۰ گل سر دلزده، مادرش ۶ گل سر دیگر برایش خرید. حالا سیما چند گل سر دلزده؟

◆ ۸ پرنده در لانه بودند. ۵ تا از پرنده‌ها پرواز کردند. چند پرنده در لانه باقی مانده است؟






۲. نیمه‌ی پایینی شکل را کامل کن.



علوی

۳. اسم تصویرهای زیر را بنویس، کدام یک از آنها بیشترین نقطه را دارد؟ دور آن خط بکش.



۴. دو مسیر قرمز و آبی را از بین راه‌ها پیدا کن و رنگ بزن.

