


موضوع	شماره سؤال	هفته آموزشی
هوش ریاضی - الگو - احتمال	۱	بیست و نهم
هوش کلامی	۲	
سرعت، دقت، تمرکز	۳	
هوش فضایی	۴	
سرعت، دقت، تمرکز	۵	

۱. الف) الگوی ساعت را ادامه بده و آخرین ساعت را بکش.

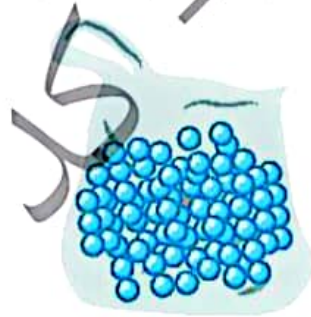
ساعت ۳، ساعت ۳:۲۵، ساعت ۳:۵۰،



ب) سعید، بهزاد و سینا کیسه‌هایی پر از مهره دارند. آن‌ها مهره‌های درون کیسه‌ی خود را شمردند و متوجه شدند رنگ یکی از مهره‌ها متفاوت است. چه کسی زودتر متوجه این تفاوت شد؟



کیسه بهزاد



کیسه سینا



کیسه سعید

۲. الف) یکشنبه به دوشنبه مانند است.

(۲) مرداد به شهریور

(۱) روز به ماه

(۴) ساعت به دقیقه

(۳) ماه به سال

ب) خلبان به هواپیما مانند است.

(۲) قایق به کشتی

(۱) مشتری به مغازه

(۴) ملوان به کشتی

(۳) نویسنده به کتاب



علوی

۳. در جدول زیر طول مداد رنگی‌های مونا که از آن‌ها استفاده کرده، یادداشت شده است.

♦ کدام مداد از همه بلندتر است؟

♦ طول مدادهای داده شده را با هم مقایسه کن. (>=<)

طول مداد	رنگ مداد
۳۸ میلی‌متر	سبز
۳ سانتی‌متر و ۷ میلی‌متر	زرد
۷۹ میلی‌متر	آبی
۵ سانتی‌متر و ۴۱ میلی‌متر	قهوه‌ای
۱۲۰ میلی‌متر	قرمز
۹ سانتی‌متر	نارنجی

مداد قهوه‌ای مداد نارنجی

مداد زرد مداد سبز

مداد قهوه‌ای مداد زرد

۴. به شکل‌ها با دقت نگاه کرده و جاهای خالی را کامل کن.



۳ دسته‌ی ۳ تایی می‌شود.....



۳ دسته‌ی ۲ تایی می‌شود.....



۵ دسته‌ی ۵ تایی می‌شود.....

۵. به جای ستاره‌ی درخشان عدد مناسب قرار بده.

۲ (۱) ۷ (۲)

۸ (۳) ۱۲ (۴)

۱۵۲

- ۹۶

۵۴



موضوع	شماره سوال	هفته آموزشی
هوش ریاضی - الگو - احتمال	۱	بیست و نهم
هوش کلامی	۲	
سرعت، دقت، تمرکز	۳	
هوش فضایی	۴	
سرعت، دقت، تمرکز	۵	

۱. الف) الگوی ساعت را ادامه بده و آخرین ساعت را بکش.

ساعت ۳، ساعت ۳:۲۵، ساعت ۳:۵۰، ۴:۱۵، ۴:۴۰، ۵:۰۵



ب) سعید، بهزاد و سینا کیسه‌هایی پر از مهره دارند. آن‌ها مهره‌های درون کیسه‌ی خود را شمردند و متوجه شدند یکی از مهره‌ها متفاوت است. چه کسی زودتر متوجه این تفاوت شد؟



کیسه بهزاد



کیسه سینا



کیسه سعید

۲. الف) یکشنبه به دوشنبه مانند است.

- (۱) روز به ماه
- (۲) مرداد به شهریور
- (۳) ماه به سال
- (۴) ساعت به دقیقه

ب) خلبان به هواپیما مانند است.

- (۱) مشتری به مغازه
- (۲) قایق به کشتی
- (۳) نویسنده به کتاب
- (۴) ملوان به کشتی

علوی

۳. در جدول زیر طول مداد رنگی‌های مونا که از آن‌ها استفاده کرده، یادداشت شده است.

- ◆ کدام مداد از همه بلندتر است؟ *قرمز*
- ◆ طول مدادهای داده شده را با هم مقایسه کن. (\leq)


طول مداد	رنگ مداد
۳۸ میلی‌متر	سبز
۳ سانتی‌متر و ۷ میلی‌متر	زرد
۷۹ میلی‌متر	آبی
۵ سانتی‌متر و ۴۱ میلی‌متر	قهوه‌ای
۱۲۰ میلی‌متر	قرمز
۹ سانتی‌متر	نارنجی

مداد قهوه‌ای مداد نارنجی

مداد زرد مداد سبز

مداد قهوه‌ای مداد زرد

۴. به شکل‌ها با دقت نگاه کرده و جاهای خالی را کامل کن.



۳ دسته‌ی ۳ تایی می‌شود *۹*



۳ دسته‌ی ۲ تایی می‌شود *۶*



۵ دسته‌ی ۵ تایی می‌شود *۲۵*

۵. به جای ستاره‌ی درخشان عدد مناسب قرار بده.

۷ (۲)

۲ (۱)

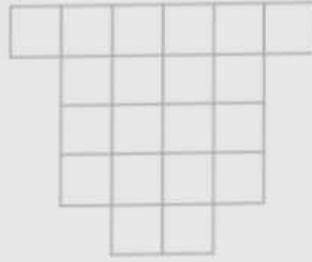
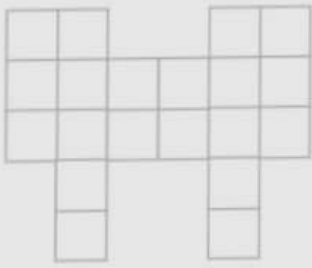
۱۲ (۴)

۸ (۳)

$$\begin{array}{r} 152 \\ - 96 \\ \hline 56 \end{array}$$





با قطعه‌های زیر هر شکل سطح آن را به طور کامل بپوشانید. از رنگ‌های مختلف استفاده کنید تا قطعات را نشان دهید.



خلاق باش

یک جمله‌ی تشکرآمیز از خداوند در کادر روبه‌رو بنویسید و دور آن را با کاشی‌های رنگی پر کنید. به خط تقارن هم توجه کنید.



A decorative border made of a grid of colored squares (yellow, green, red, blue, pink, white) surrounds a central white rectangular area. The text is written in black Persian script within this central area.

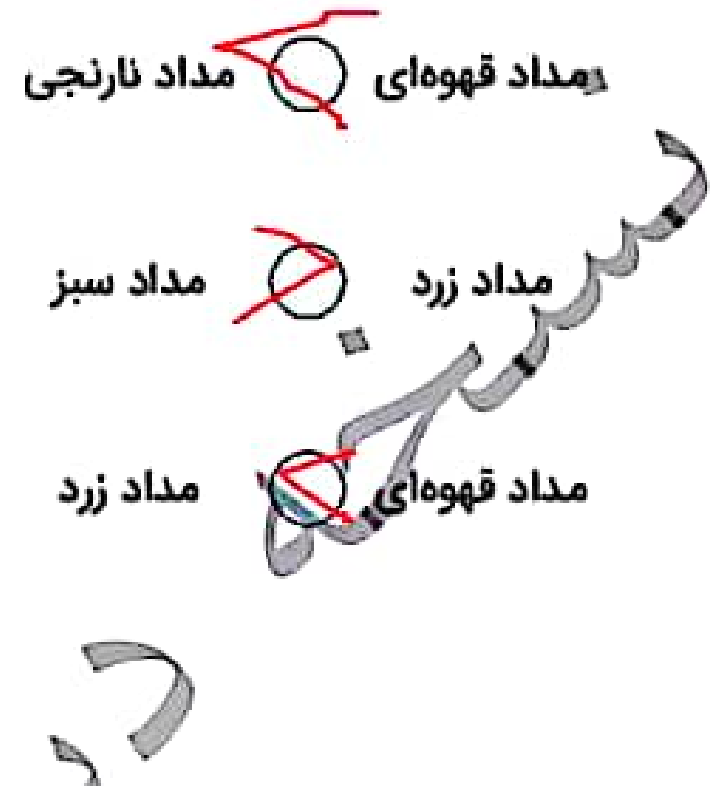
خدایا به خاطر علم و
دانشی که به من دادی
از تو سپاس گزارم.

۳. در جدول زیر طول مداد رنگی‌های مونا که از آن‌ها استفاده کرده، یادداشت شده است.

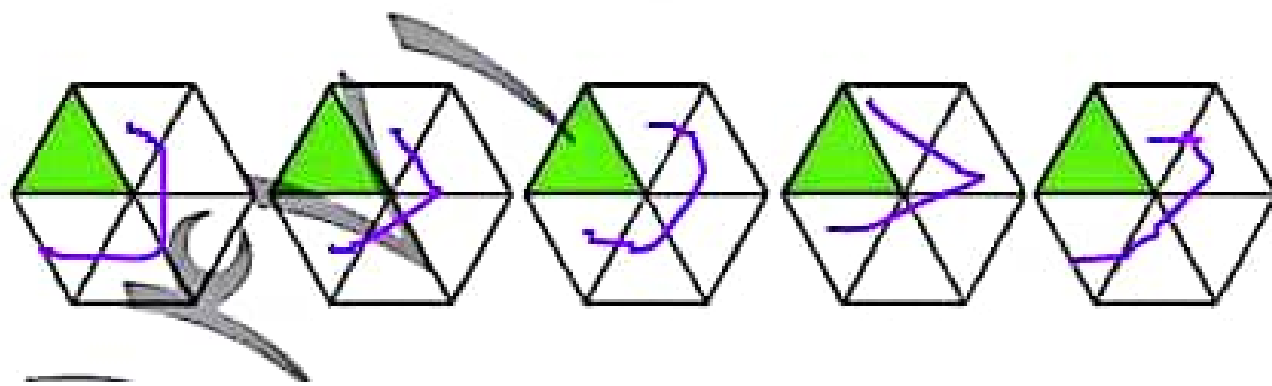

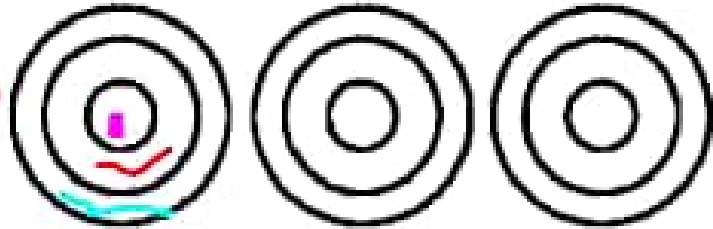
♦ کدام مداد از همه بلندتر است؟ **قرمز**

♦ طول مدادهای داده شده را با هم مقایسه کن. ($<=>$)

طول مداد	رنگ مداد
۳۸ میلی‌متر	سبز
۳ سانتی‌متر و ۷ میلی‌متر 37 میلی‌متر	زرد
۷۹ میلی‌متر	آبی
۵۰ سانتی‌متر 50 سانتی‌متر و ۴۱ میلی‌متر 91 میلی‌متر	قهوه‌ای
۱۲۰ میلی‌متر	قرمز
۹ سانتی‌متر 90 میلی‌متر	نارنجی



۴. به شکل‌ها با دقت نگاه کرده و جاهای خالی را کامل کن.



۳ دسته‌ی ۳ تایی می‌شود 9

۳ دسته‌ی ۲ تایی می‌شود 6

۵ دسته‌ی ۵ تایی می‌شود 25



۵. به جای ستاره‌ی درخشان عدد مناسب قرار بده.

۷ (۲)

۱۲ (۴)

۲ (۱)

۸ (۳)