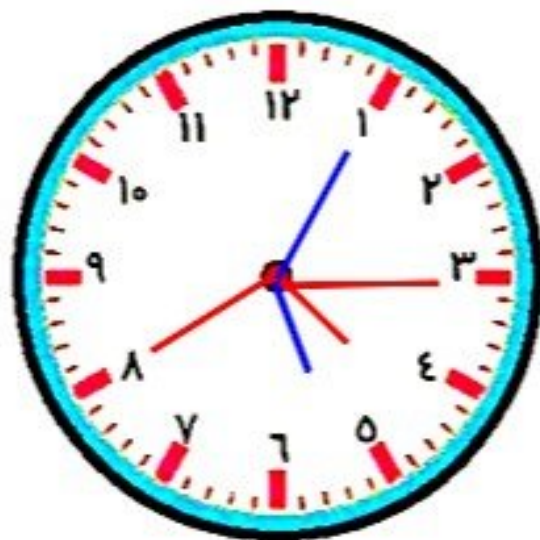
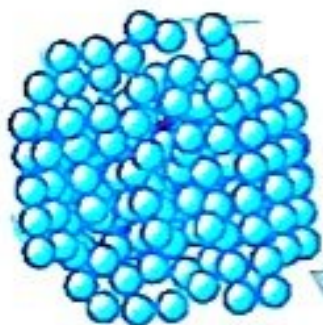


۱. الف) الگوی ساعت را ادامه بده و آخرین ساعت را بکش.

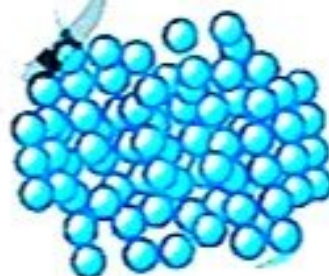
ساعت ۳، ساعت ۳:۲۵، ساعت ۴:۵۰، ساعت ۴:۱۵، ساعت ۴:۴۰، ساعت ۵:۰۵



ب) سعید، بهزاد و سینا کیسه‌هایی پر از مهره دارند. آن‌ها مهره‌های درون کیسه‌ی خود را شمردند و متوجه شدند رنگ یکی از مهره‌ها متفاوت است. چه کسی زودتر متوجه این تفاوت شد؟



کیسه بهزاد



کیسه سینا



کیسه سعید

۲. الف) یکشنبه به دوشنبه مانند ..... است.

- (۱) روز به ماه  
(۲) مرداد به شهریور  
(۳) ماه به سال  
(۴) ساعت به دقیقه

ب) خلبان به هواپیما مانند ..... است.

- (۱) مشتری به مغازه  
(۲) قایق به کشتی  
(۳) نویسنده به کتاب  
(۴) ملوان به کشتی

چهار هوش دوم دبستان



# علوی

۳. در جدول زیر طول مداد رنگی‌های مونا که از آنها استفاده کرده، یادداشت شده است.

◆ کدام مداد از همه بلندتر است؟ **مداد قرمز**

◆ طول مدادهای داده شده را با هم مقایسه کن. ( $\leq$ )

طول مداد	رنگ مداد
۳۸ میلی‌متر	سبز
۳ سانتی‌متر و ۷ میلی‌متر	زرد
۷۹ میلی‌متر	آبی
۵ سانتی‌متر و ۴۱ میلی‌متر	قهوه‌ای
۱۲۰ میلی‌متر	قرمز
۹ سانتی‌متر	نارنجی

38mm

37mm

79mm

91mm

120mm

90mm

مداد قهوه‌ای  مداد نارنجی

90mm

91mm

مداد سبز  مداد زرد

38mm

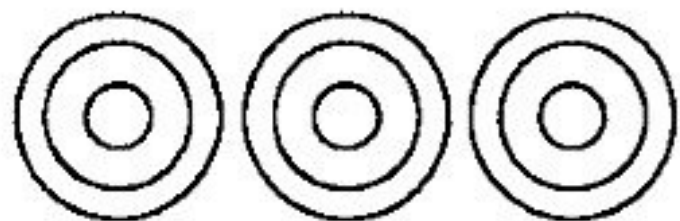
37mm

مداد زرد  مداد قهوه‌ای

37mm

91mm

۴. به شکل‌ها با دقت نگاه کرده و جاهای خالی را کامل کن.




3

6

9

9

۳ دسته‌ی ۳ تایی می‌شود.....



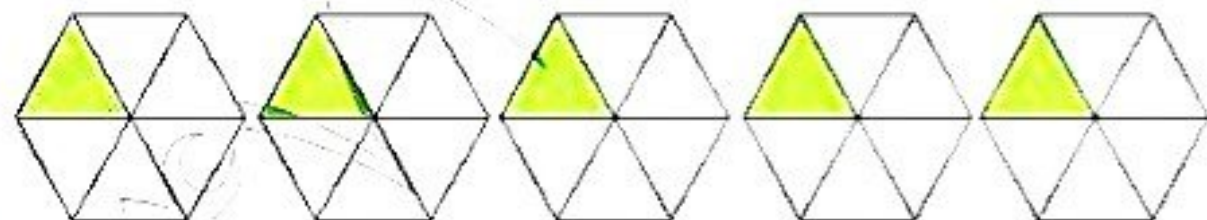
2

4

6

6

۳ دسته‌ی ۲ تایی می‌شود.....



5

10

15

20

25

25

۵ دسته‌ی ۵ تایی می‌شود.....

۵. به جای ستاره‌ی درخشان عدد مناسب قرار بده.

۷ (۲)

۲ (۱)

۱۲ (۴)

۸ (۳)

4 12

~~10 4~~

- 9

۵۴