

# علوی

۳. به کمک کارت نشانه‌ها، کلمه بساز. می‌توانی از هر کارت چند بار استفاده کنی.

ز	ت ت	ن ن	خ خ	و و	آ آ	س س
---	-----	-----	-----	-----	-----	-----

ت ا س ..... تاس

ز ا ن ..... نان

س و ز ن ..... سوزن

ز ا خ ن ..... ناخن

س ا س ا ن ..... ساسان

س ا خ ت ن ..... ساختن

۴. به جای ؟ کدام گزینه را قرار می‌دهی؟

			؟
--	--	--	---

(۴)

(۳)

(۲)

(۱)



موضوع	شماره سوال	هفته آموزشی
هوش ریاضی - جمع های چندتایی با استفاده از رسم شکل	۱	هفدهم
هوش کلامی	۲	
سرعت، دقت، تمرکز	۳	
هوش فضایی	۴	

۱. با کشیدن شکل، جواب جمع های داخل قوری را به فنجان مربوطه وصل کن.

Teapot 1:  $3 + 4 + 5 = 12$  (Beads: 3 blue, 4 pink, 5 green)

Teapot 2:  $6 + 3 + 4 = 13$  (Beads: 6 blue, 3 pink, 4 green)

Teapot 3:  $5 + 4 + 7 = 16$  (Beads: 5 blue, 4 pink, 7 green)

Teapot 4:  $6 + 0 + 8 = 14$  (Beads: 6 blue, 0 pink, 8 green)

Cup 1: ۱۴

Cup 2: ۱۲

Cup 3: ۱۳

Cup 4: ۱۶

Connections: Teapot 1 to Cup 2, Teapot 2 to Cup 3, Teapot 3 to Cup 4, Teapot 4 to Cup 1.

۲. رابطه ی «مامان» با «بابا» مثل رابطه ی «مادر بزرگ» با ..... است.

پدربزرگ (۴)


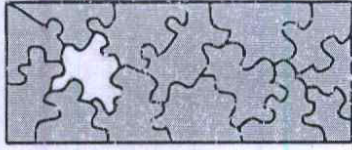
خاله (۳)

دایی (۲)


برادر (۱)



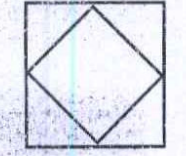

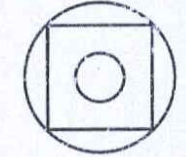
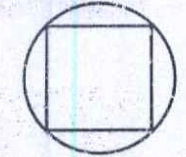

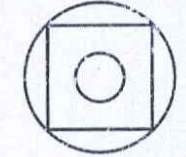
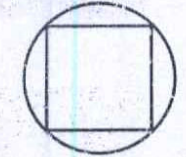
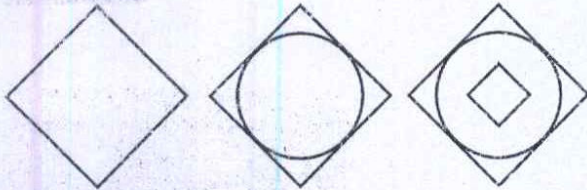
عابوی



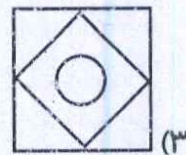
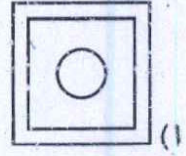
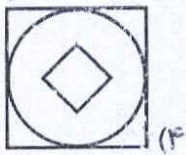
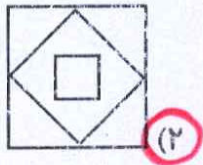
۳. تکه‌ی جدا شده از هر شکل را پیدا کن و دور آن خط بکش.



۴. به جای ؟ کدام شکل را می‌توان قرار داد؟


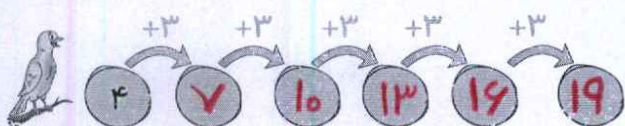
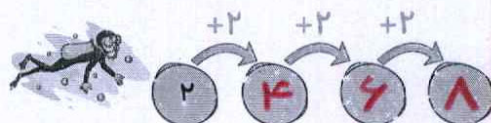



؟

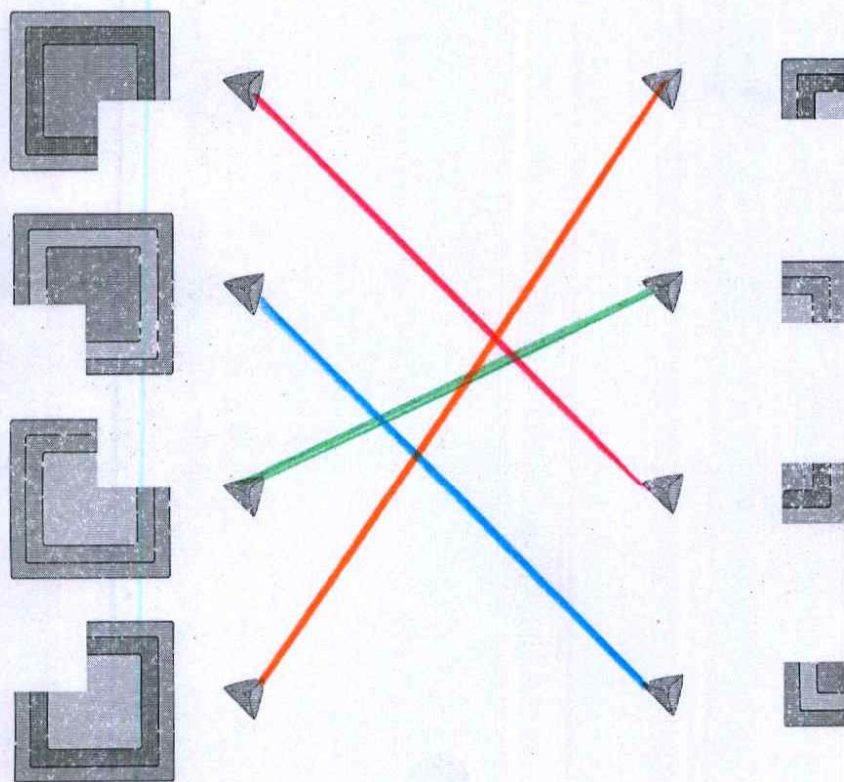


موضوع	شماره سوال	هفته آموزشی
هوش ریاضی - الگوهای عددی	۱	هجدهم
هوش فضایی	۲	
هوش کلامی	۳	
سرعت، دقت، تمرکز	۴	

۱. جاهای خالی را با عدد مناسب پر کن.




۲. گوشه‌های جدا شده از هر شکل را پیدا و به آن وصل کن.




# علوی

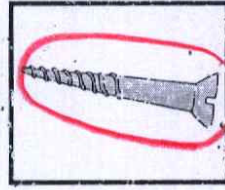
۳. اسم تصویف‌های زیر را بنویس، کدام یک از آن‌ها بیش‌ترین نقطه را دارد؟ دور آن خط بکش.



خورشید




مورچه




پیچ




چنگال




خرچنگ




هواپیما




چاقو




چسب



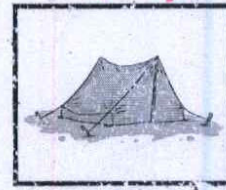
هشت



قارچ

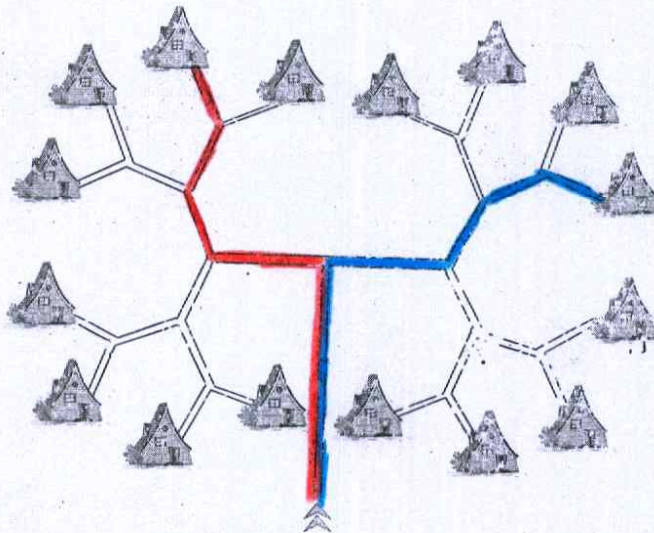
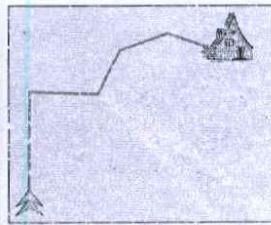
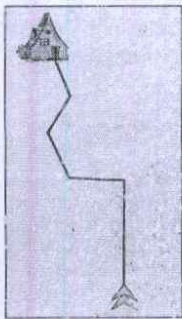


قریچ



چادر

۴. دو مسیر قرمز و آبی را از زیر آبدار تا زیر کلبه پیدا کن و رنگ بزن.



موضوع	شماره دروس	هفته آموزشی
هوش ریاضی - حل مسئله	۱	نوزدهم
هوش فضایی	۲	
هوش کلامی	۳	
سرعت، دقت، تمرکز	۴	




۱. پرسش‌های زیر را حل کن.  
 ♦ سیما ۱۰ گل سر دارد. مادرش ۶ گل سر دیگر برایش خرید. حالا سیما چند گل سر دارد؟



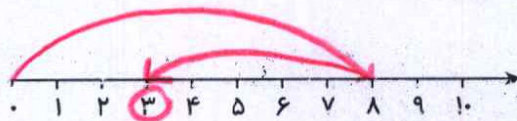
$$10 + 6 = 16$$

سیما ۱۶ گل سر دارد.

♦ ۸ پرنده در لایه بودند. ۵ تا از پرنده‌ها پرواز کردند. چند پرنده در لانه باقی مانده است؟



$$8 - 5 = 3$$



۳ پرنده در لانه باقی مانده است.

۲. نیمه‌ی پایینی شکل را کامل کن.

