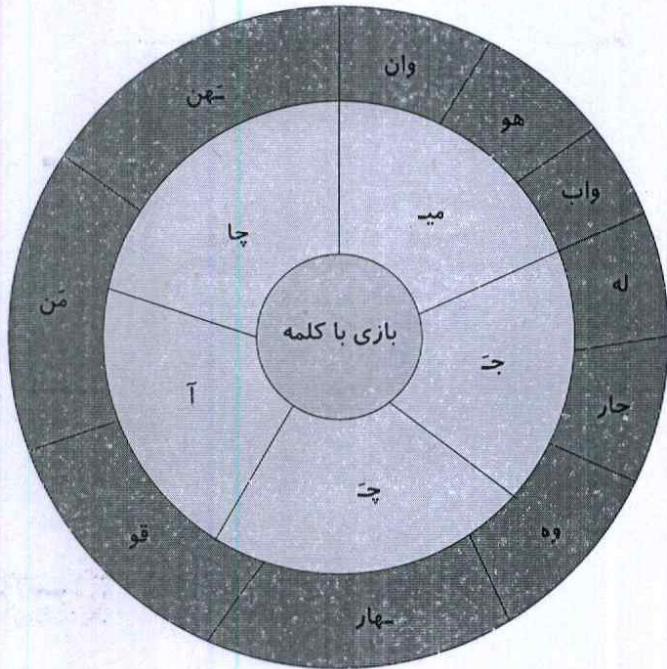


علوی

۳. به گردونه‌ی، کلمه سازی دقت کن. چند کلمه می‌توانی بسازی؟



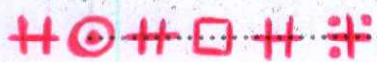
- آهن
- میوه
- آهو
- بیله
- چاقو
- جواب
- چاه
- جوان
- میزین
- سپار

۴. در زمان‌های قدیم برای هر نشانه یک علامت در نظر گرفته بودند.

*	*	×	⊕	+	=	≡	-	
خ	چ	ج	ش	س	ت	پ	ب	آ
⊙	⊗	⊚	⊠	⊞	⊞	⊞	⊙	⊞
ن	م	ل	گ	ک	ز	ر	د	ای

برای مثال کلمه‌ی باد را به این صورت می‌نوشتند: |⊙⊞

حالا شما کلمه‌ی شیرینی را با کمک نشانه‌های داده شده بنویس.



دومین ماه فصل پاییز را با کمک نشانه‌های داده شده بنویس.



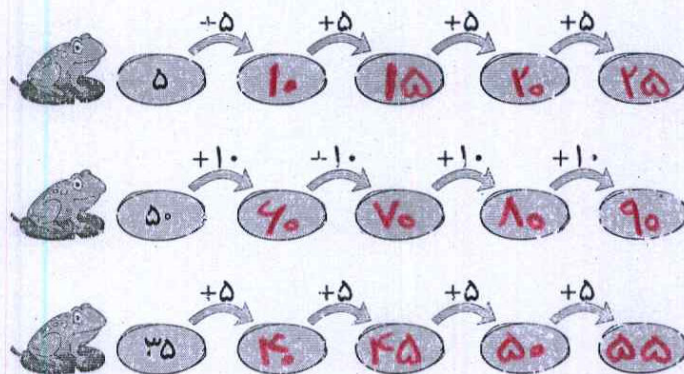
نشان دهنده‌ی چه کلمه‌ای است؟ ⊞ | ⊙ ⊞ ⊠

گیلاس

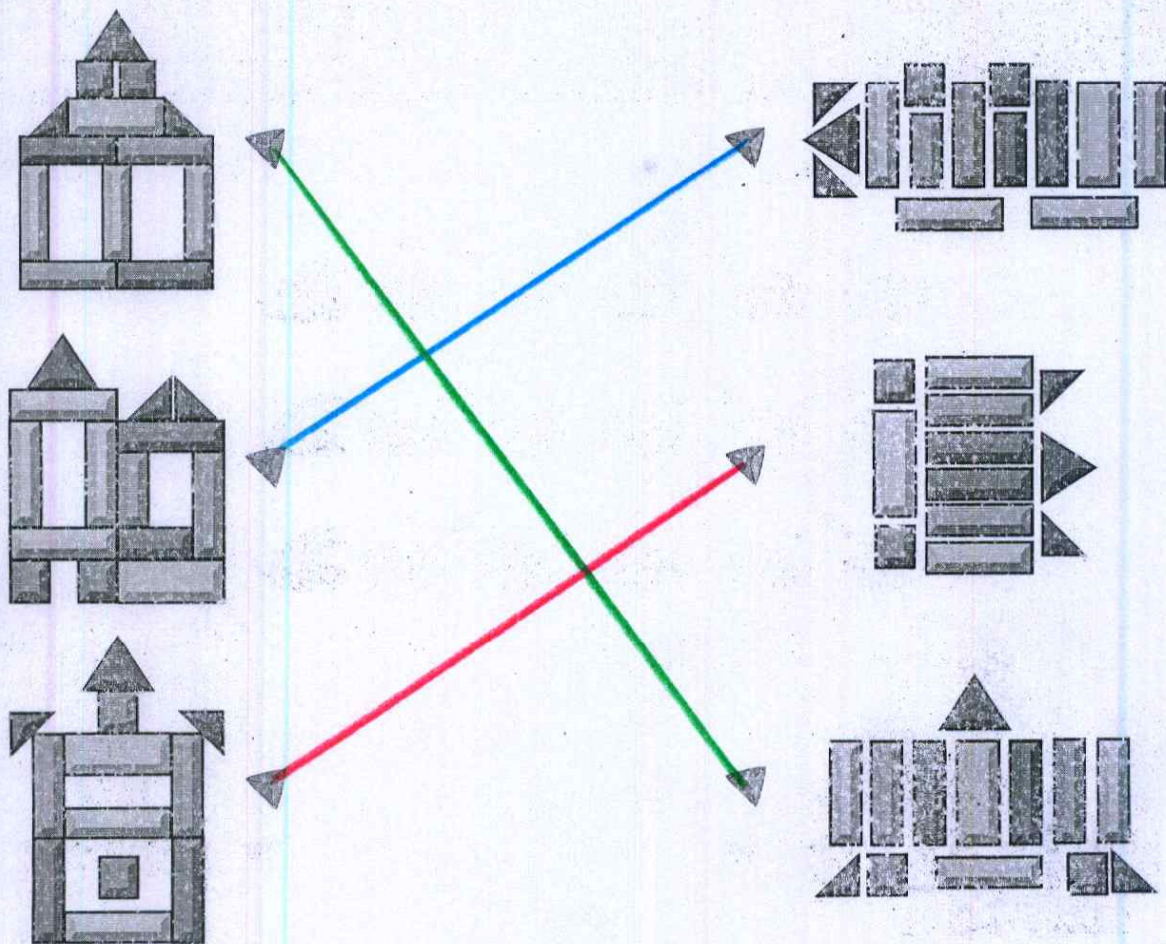


موضوع	شماره سوال	حفته آموزشی
هوش ریاضی - الگوی عددی:	۱	پیش‌بینی
سرعت، دقت، تمرکز با کمک تجسم فضایی	۲	
هوش کلامی	۳	
هوش ریاضی	۴	

۱. جاهای خالی را با عدد مناسب کامل کن.



۲. هر شکل از چه قطعاتی ساخته شده است؟ وصل کن.

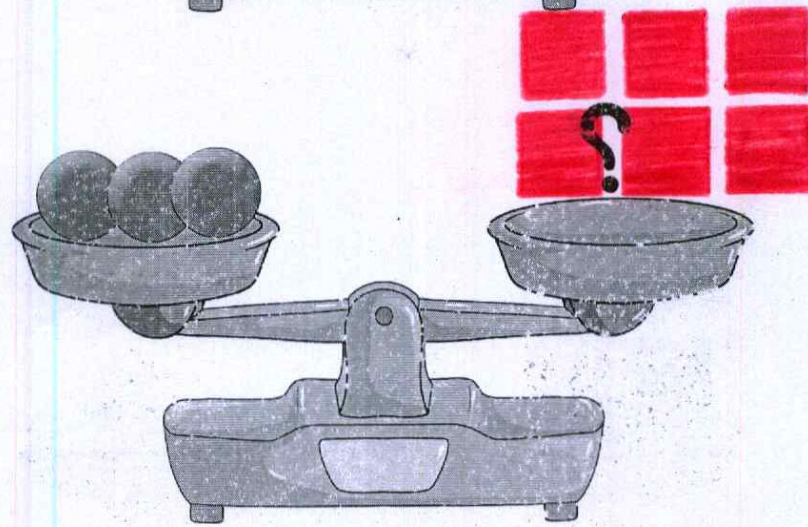
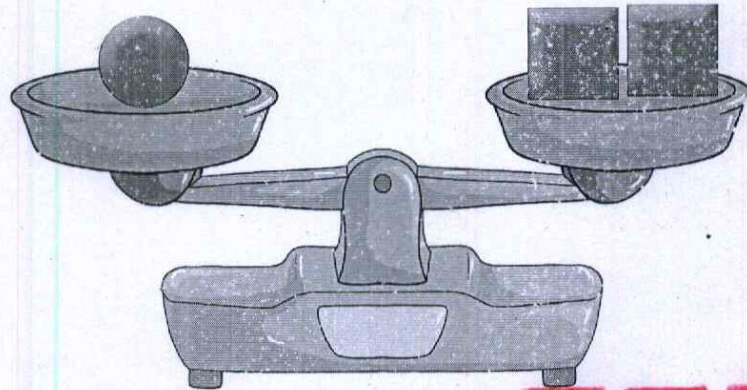


علوی

۳. چندتا از کلمه‌های زیر تشدید دارند؟ آن‌ها را پیدا کن و با مداد قرمز برایشان تشدید بگذار.

اَرِه کُمک بَچِه دُکان دوم تَشکُر کوچِه
اَوَل آشپَز نَجار بَنّا سَکِه زَنَدِگی خوانَنده

۴. دو ترازو داریم که تعدادی شکل روی آن‌ها قرار گرفته است و هر دو کفه در وضعیت تعادل هستند. چند مربع در کفه‌ی سمت راست ترازو قرار دهیم تا با ۳ دایره در تعادل باشد؟

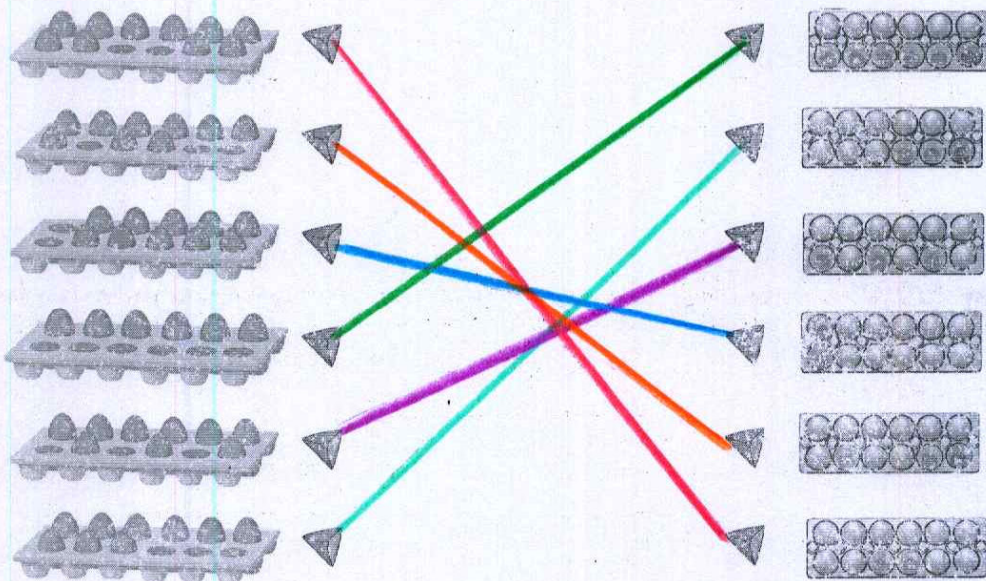


موضوع	تعداد	هفته آموزشی
هوش ریاضی - جمع عددهای مضرب ۱۰	۱	بیست و یکم
هوش فضایی	۲	
هوش کلامی	۳	
سرعت دقت، تمرکز با کمک تجسم فضایی	۴	

۱. جدول را به صورت ذهنی کامل کن.

۱۰	+	۲۰	=	۳۰	۲۰				
	+				+				
		۲۰	+	۱۰	=	۳۰			
	=				=				
۵۰					۶۰	+	۲۰	=	۸۰
						+		+	
						۷۰		۱۰	
						=		=	
									۹۰
					۳۰	+	۴۰	=	۷۰
					+				
					۴۰	-	۲۰	=	۲۰
					=			+	
۱۰	+	۶۰	=	۷۰				۳۰	
								=	
									۹۰

۲. اگر نشانه‌های تخم مرغ را از بالا نگاه کنیم، هر شکل به کدام تصویر سمت چپ مربوط است؟



۳. با مداد فرمز برای کلمه‌های زیر نقطه بگذار و جمله را بخوان.

هَر شَبِ قَبْلِ اَز خَوَابِ اَز پَدَرَم خَوَاهِش مِی کُنَم تا بَرایم کِتَابِ
داستانِ چِشمه و چِراگاه بَخوانَد.

۴. به جای ؟ کدام گزینه را قرار می‌دهی؟

