
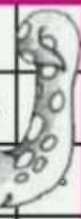






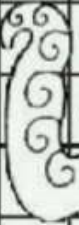









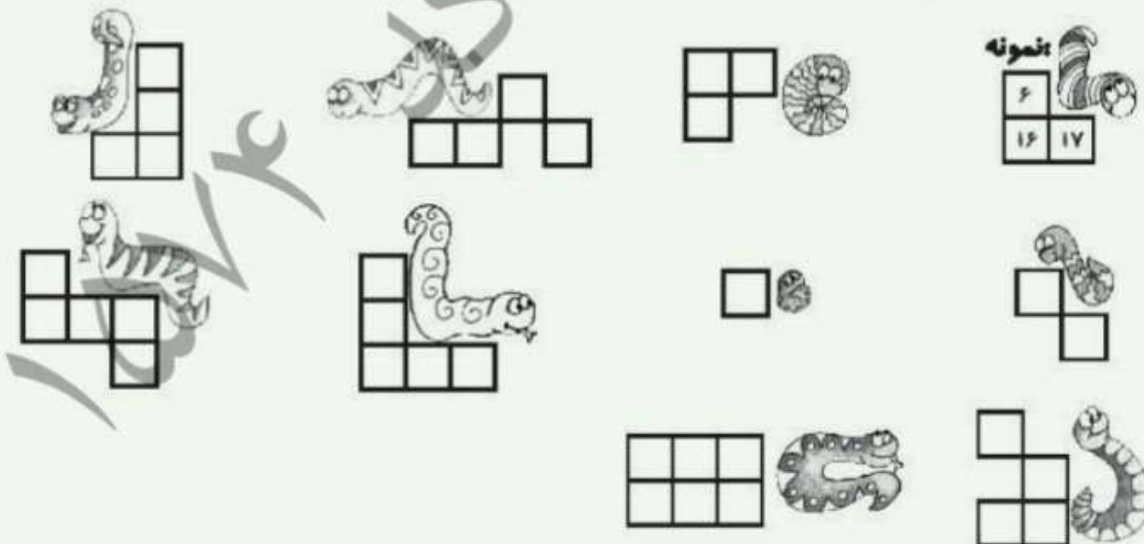


۱. مارها روی بعضی از خانه‌های جدول خولیده‌اند. اعدادی را که پنهان شده است، پیدا کن و بنویس.

۱	۲	۳	۴	۵		۷	۸	۹	
۱۱	۱۲	۱۳		۱۵		۱۷	۱۸	۱۹	
۲۱	۲۲	۲۳	۲۴		۲۶	۲۷	۲۸		
۳۱			۳۵	۳۶		۳۸	۳۹	۴۰	
۴۱			۴۵		۴۷	۴۸	۴۹	۵۰	
	۵۲	۵۳	۵۴	۵۵		۵۷	۵۸	۵۹	۶۰
۶۱		۶۳	۶۴	۶۵			۶۹	۷۰	
		۷۳	۷۴		۷۶	۷۷	۷۸	۷۹	۸۰
۸۱	۸۲		۸۴			۸۸			
		۹۳		۹۵	۹۶		۹۸		



۲. اگر اعداد ۷۰-۸۲-۱۳-۴۰-۵۱-۱۲-۳۱ را به ترتیب از کوچک به بزرگ و از چپ به راست بنویسیم، دومین عدد از سمت چپ کدام است؟ دور آن خط بکش.

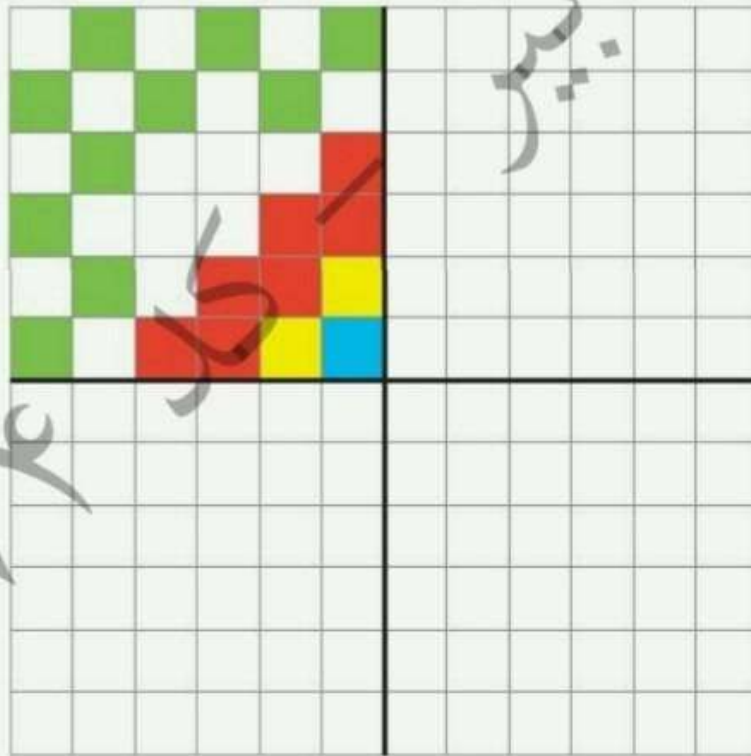


علوی

۳. به گردونه‌ی کلمه سازی دقت کن. چند کلمه می‌توانی بسازی؟ آن‌ها را بنویس.

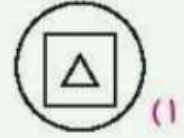
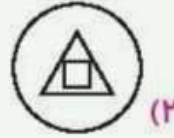
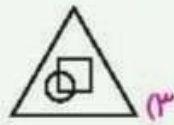
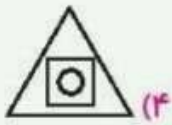


۴. فرش زیر به چهار قسمت تقسیم شده است. سه قسمت دیگر فرش را مانند قسمت رنگ شده کامل کن.



علوی

۲. در کدام شکل، مربع داخل مثلث هست، اما داخل دایره نیست؟



۳. کدام کلمه با بقیه فرق دارد؟

(۴) سطل

(۳) قطار

(۲) غروب

(۱) ساعت

۴. همهی علامت‌های سمت چپ در کدام دسته به طور کامل تکرار شده است؟

