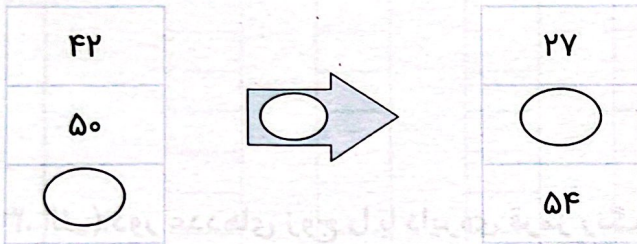
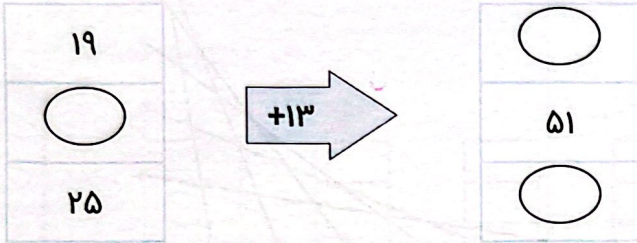
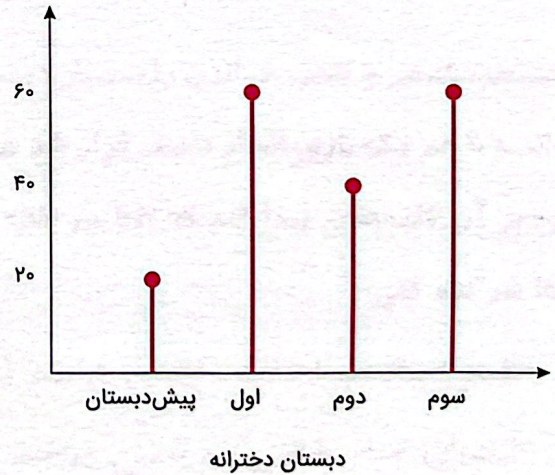


۱. جاهای خالی را کامل کن.



۲. در خیابانی یک مدرسه‌ی پسرانه و یک مدرسه‌ی دخترانه وجود دارد. تعداد دانش آموزهای هر پایه در این مدرسه‌ها روی نمودارهای زیر نشان داده شده است.

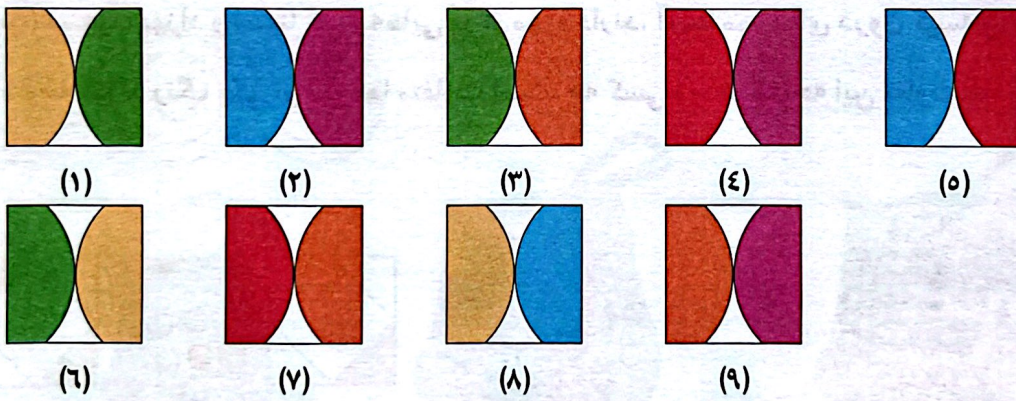



الف) در کدام مدرسه تعداد دانش آموزهای کلاس دوم بیشتر است؟

ب) در کدام مدرسه تعداد کل دانش آموزها بیشتر است؟



۳. با توجه به تصویر، جاهای خالی با کدام شکل‌ها کامل می‌شود؟



۴. به جای ؟ کدام گزینه را قرار می‌دهی؟

