

| موضوع | شماره سؤال | هفته آموزشی بیست و یکم |
|------------------------|------------|---------------------------|
| هوش ریاضی- اندازه گیری | ۱ | |
| هوش کلامی | ۲ | |
| هوش فضایی | ۳ | |
| سرعت، دقت، تمرکز | ۴ | |

۱. اندازه‌ی هر وسیله کدام یک می‌تواند باشد؟

- | | |
|------------------------------------|---------------------------|
| طول مسواک | ۳۰ میلی‌متر |
| ضخامت یک گلبرگ | ۶ میلی‌متر |
| طول یک آدامس | ۱۵ سانتی‌متر و ۶ میلی‌متر |
| طول یک بوته‌ی شمشاد در کنار خیابان | ۷۰ سانتی‌متر |
| ضخامت یک کتاب داستان | کمتر از یک میلی‌متر |

۲. جمله‌های زیر با (از) و (در) کامل می‌شود، جاهای خالی را با این دو واژه کامل کن.

بندرعباس یکی شهرهای زیبای جنوب ایران است و فصل زمستان یکی
بهترین مقصدها برای سفر است، چون هوای آن جا این فصل بسیار دلپذیر است.

آیا تا به حال به این بندر زیبا سفر کرده‌ای؟




علوی

۳. در هر سبد تعدادی هندوانه، موز، سیب و خیار وجود دارد. اگر هر هندوانه نماد عدد ۱۰۰، هر موز نماد عدد ۱۰ و هر سیب نماد عدد ۵ و هر خیار نماد عدد ۱ باشد. هر سبد چه عددی را نشان می‌دهد؟

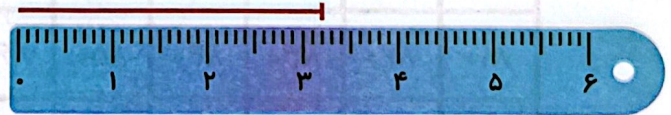


۴. اندازه‌های که هر خط‌کش نشان می‌دهد، به عدد آن وصل کن.

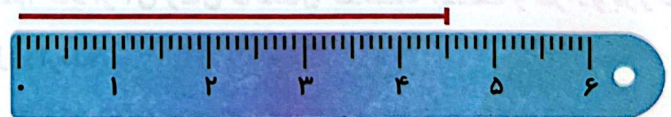
۵۴ میلی‌متر



۲۳ میلی‌متر



۴۵ میلی‌متر



۳۲ میلی‌متر

