

طرح سنجش استعداد: گونیا - تشخیصی
مدت پاسخگویی و انجام فعالیت: ۴۵ دقیقه

درس: استعداد فضایی سوم دبستان

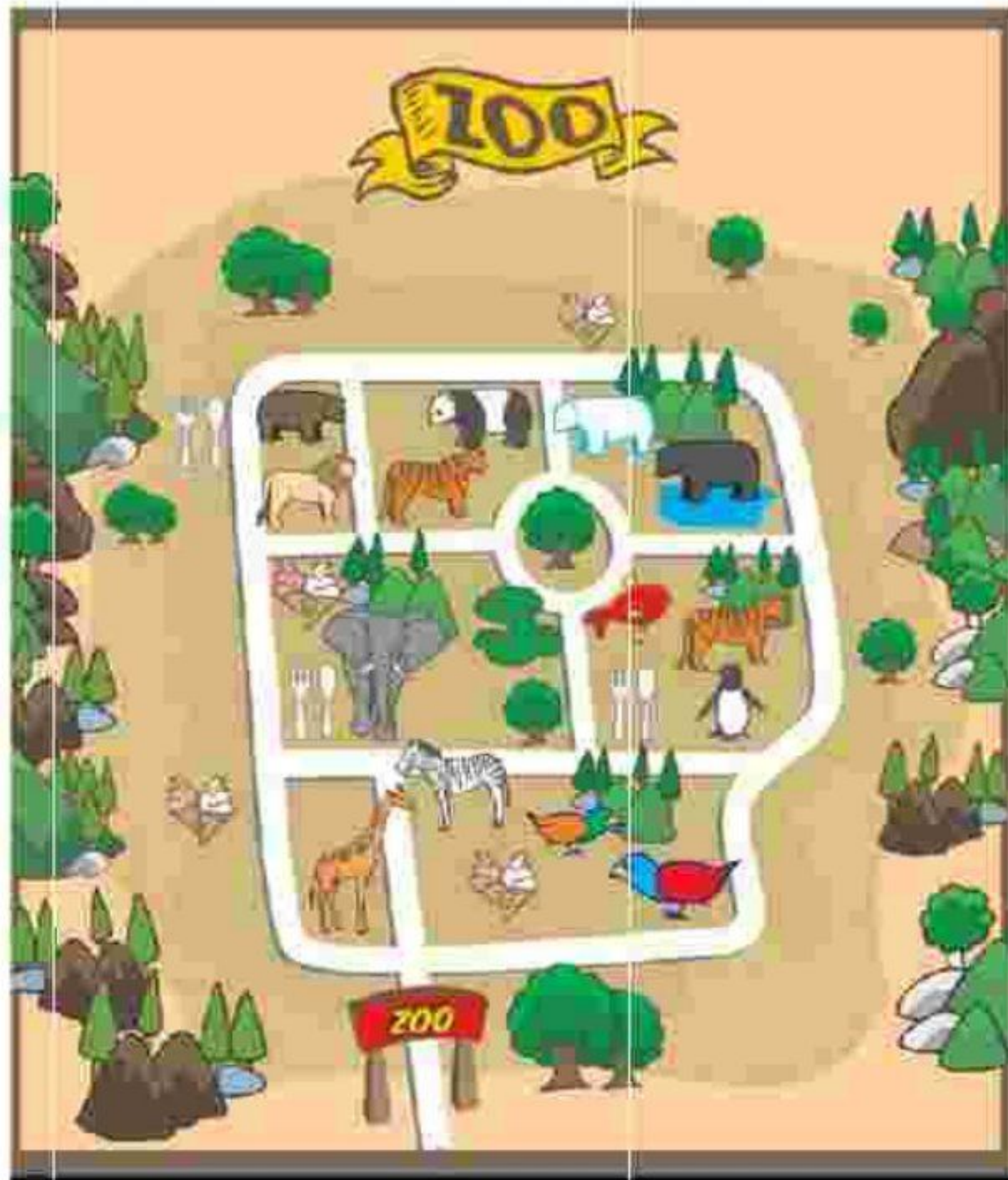
زمان برگزاری: ۵

علوی

فعالیت‌های استعداد فضایی پایه سوم

فعالیت ۱


۲۲- به نقشه‌ی باغ وحش توجه کرده و سپس به سؤالات پاسخ دهید.



الف) برای رسیدن به کدام حیوان باید از درب ورودی در مسیر طولانی‌تری راه بروید؟

۱) ماهی ۲) فیل ۳) خرس قطبی ۴) شیر

ب) در این باغ وحش چند رستوران و چند بستنی‌فروشی وجود دارد؟



پ) محل نگهداری کدام حیوانات دور میدان درختی در باغ وحش است؟


.....

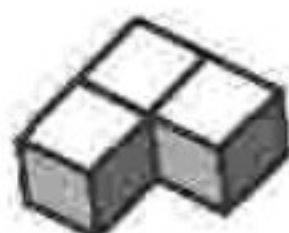
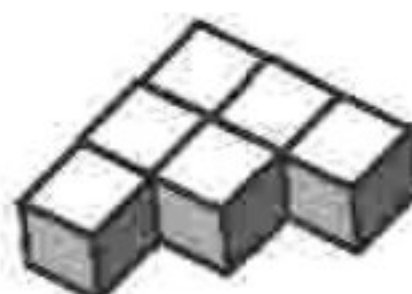
طرح سنجش استعداد: گونیا - تشخیصی
مدت پاسخگویی و انجام فعالیت: ۴۵ دقیقه

درس: استعداد فضایی سوم دبستان
زمان برگزاری: هفته دوم مهر

علوی

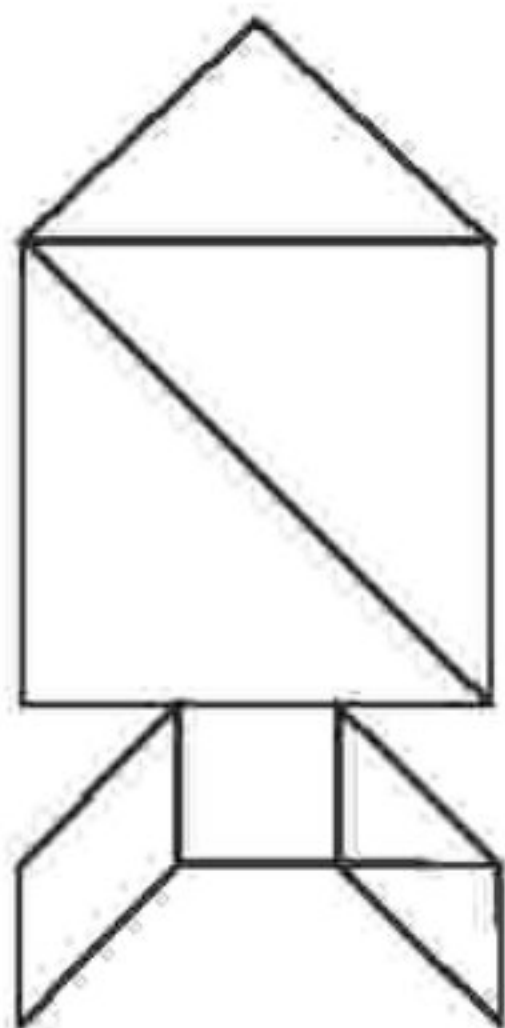
فعالیت ۲

۲۳- هر یک از اشکال زیر از چند  ساخته شده است؟



فعالیت ۳

۲۴- هر یک از اجزای داخل مربع تانگرام در صفحه ضمیمه را با قیچی از یکدیگر جدا کنید، سپس با توجه به شکل داده شده، قطعات را به همان ترتیب در پشت صفحه بچسبانید.

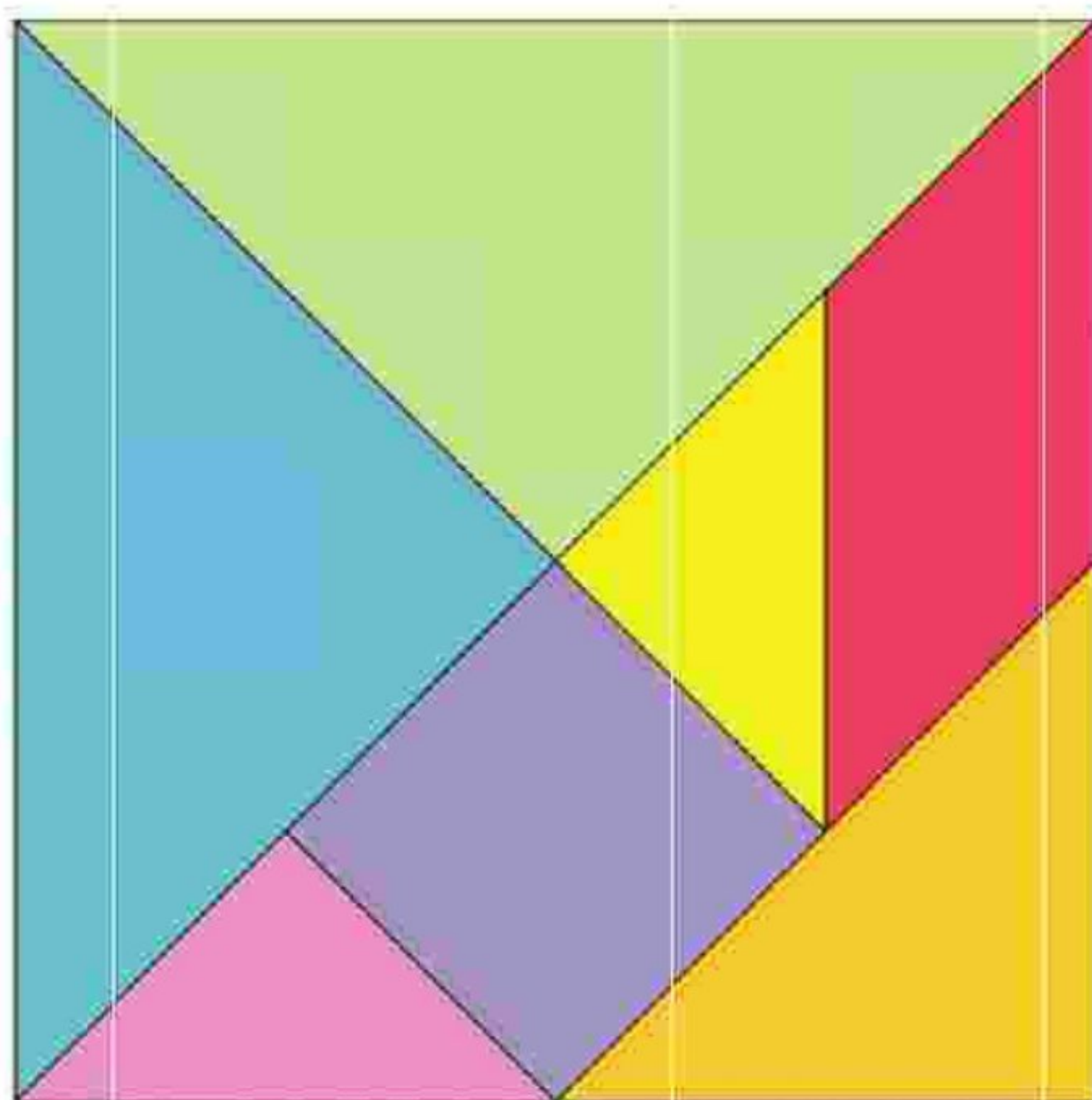


طرح سنجش استعداد: گونیا - تشخیصی
مدت پاسخگویی و انجام فعالیت: ۴۵ دقیقه

درس: استعداد فضایی سوم دبستان
زمان برگزاری: هفته دوم مهر

علوی

صفحه‌ی ضمیمه



طرح سنجش استعداد: گویا - توصیفی

مدت پاسخگویی و انجام فعالیت: ۴۵ دقیقه

درس: استعداد فضایی سوم دبستان



زمان برگزاری: هفته دوم مهر

علوی

پاسخنامه استعداد فضایی پایه سوم:

فعالیت ۱

۲۲- الف) گزینه ۳۰ - خرس قطبی (۵/۰ - نمره)

ب)  ۳ رستوران (۵/۰ - نمره) ←  ۴ بستنی فروشی (۵/۰ - نمره)

پ) خرس سیاه - خرس قطبی - خرس پاندا - پلنگ - ماهی (هر مورد ۵/۰ - نمره) (۳ مورد کافی است)

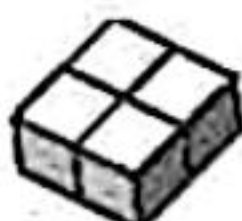
(۳ نمره) (نکیسار رحمانی) (مهارت نقشه خوانی و پیدا کردن مسیر) (گویه: ۲۱، ۲۲، ۲۴ و ۲۸) (متوسط)

فعالیت ۲

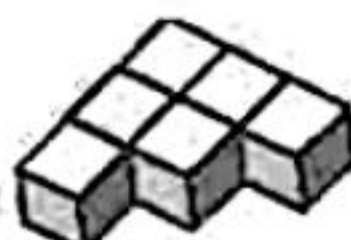
۲۳-



۲



۴



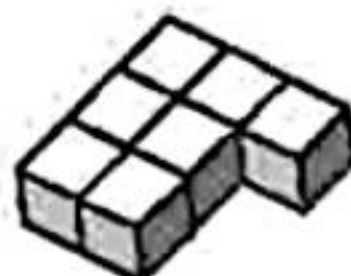
۶



۳



۵



۷

(۳ نمره) (هر مورد ۵/۰ - نمره) (نکیسار رحمانی) (توانایی تجسم اشکال سه بعدی) (گویه: ۲۲، ۲۴، ۲۷ و ۲۸) (دشوار)

فعالیت ۳

۲۴-



(۴ نمره) (بریدن صحیح اشکال (۲ نمره)، چسباندن صحیح و ساخت شکل (۲ نمره)) (نکیسار رحمانی) (توانایی تجسم اشکال


هندسی و ساخت کار دستی) (گویه: ۲۲، ۲۴، ۲۵ و ۲۶) (آسان)

طرح پنجاه و یکم استعدادهای خدادادی، توسعه
مدت بازیگویی و انجام فعالیت، ۵ دقیقه

درس: استعداد فضایی، سرود دبستان
زبان: نگارگری، «شعه سلوم دو»

علوی

برگه‌های ضمیمه



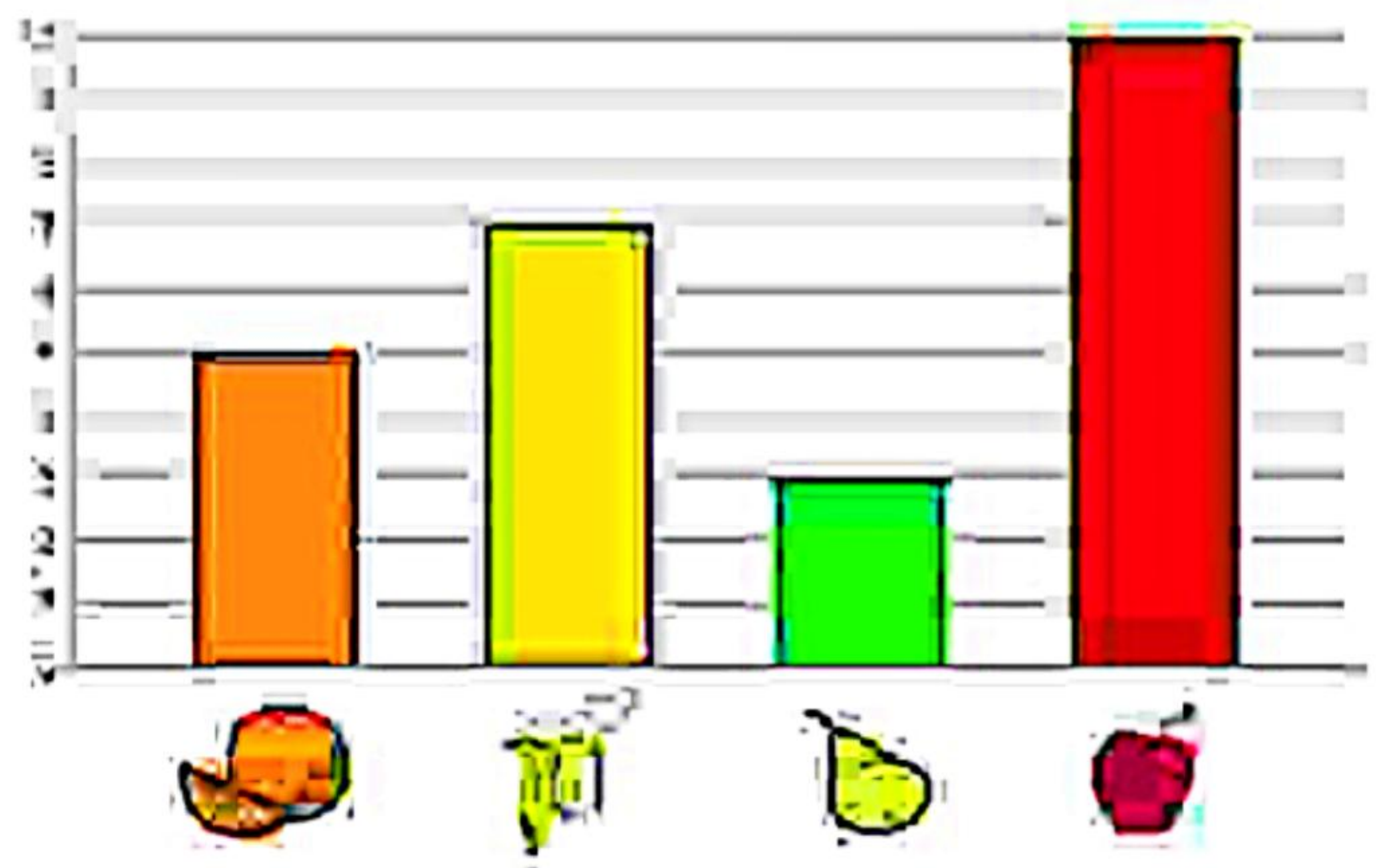
علوی

تعداد

درس استعداد فضلی، سوم دبستان
زبان بزرگاری؛ هفته پنجم، دو

طرح سنتش استعداد، چادری ۱- نویسنده
مدت پاره‌نگویی و اتمام فعالیت، ۲۰ دقیقه

۲۲- با توجه به تصویر و تعداد میوه‌های نشان داده شده به سوالات زیر پاسخ بده.



الف) بیشترین و کمترین تعداد میوه مربوط به کدام میوه‌هاست؟

بیشترین: کمترین:

ب) مجموع تعداد کدام دو میوه برابر تعداد سیب است؟

ج) کدام گزینه صحیح است؟

- ۱) $۵ + ۸$ سیب + کیوی
- ۲) $۵ + ۸$ کیوی + پرتقال
- ۳) $۵ + ۸$ سیب + پرتقال

شکل

۲۳- الف) مستطی شکل در بزرگی خمیسه را از کاغذ جدا و با استفاده از قیچی و چسب یکی بکشد. سازه سینی پنجه
پرنسنتی با پاسخ بده.

ب) همایی از روی خطوط دور شکل را برش داده و خطوط داخلی را تا سرانجام از لبه‌های سفید برای چسباندن
استفاده کن.

ج) شکل ساخته شده از چند مربع ساخته شده است؟

د) این شکل چند گوشه دارد؟

طرح نوشتن استعداد: جامداتی، ا-توسیف،
مدت پذیرشگویی و انجام تعلیم، ۵ دقیقه

درس: استعداد فضایی، سوم دبستان
زمان برگزاری: ۱۵ دقیقه، ۳۰ دقیقه

علوی

فعالیت‌های استعداد فضایی پایه سوم

فعالیت ۱

۲- به شکل‌های زیر با دقت نگاه کن، سپس به زیر شکل‌های داده شده، رنگ بزن.



الف) خورشید در این عکس به چه شکلی است؟

۱) مستطیل

۲) دایره

۳) مربع

ب) اگر از درب منزل خارج شوی، درخت در کدام سمت تو قرار می‌گیرد؟

۱) چپ

۲) روبرو

۳) راست

پ) این خانه چند پنجره دارد؟

۱) سه تا

۲) دو تا

۳) چهار تا

طرح سنجش استعداد: جامدادی ۱
مدت پاسخگویی و انجام فعالیت: ۴۵ دقیقه

درس: استعداد فضایی سوم دبستان
زمان برگزاری: هفته سوم دی

علوی

پاسخنامه استعداد فضایی پایه سوم

فعالیت ۱

۷۱- الف) گزینه‌ی ۲۰ - دایره

ب) گزینه‌ی ۱۰ - راست

پ) گزینه‌ی ۳۰ - سه تا

(۱/۵ نمره) (هر مورد ۰/۵ نمره) (فائزه هتاجی) (نقشه‌خوانی و تشخیص اشکال هندسی) (گروه: ۲۱، ۲۲ و ۲۸) (آسان)

فعالیت ۲

۷۲- الف) بیشترین ← سیب، کمترین ← گلابی

ب) گلابی و موز

پ) گزینه‌ی ۲۰ - موز > گلابی + پرتقال

$$\underbrace{5 + 3}_8 > 7$$

(۱/۵ نمره) (هر قسمت ۰/۵ نمره) (فائزه هتاجی) (تفسیر نمودار) (گروه: ۲۲، ۲۶، ۲۷ و ۲۹) (متوسط)

فعالیت ۳

۷۳- الف) برش منظم و چسباندن از محل‌های مناسب (۱ نمره)

ب) ۶ مربع (۰/۵ نمره)

پ) ۸ گوشه (۰/۵ نمره)

(۲ نمره) (فائزه هتاجی) (ساخت کار دستی و احجام) (گروه: ۲۲، ۲۶، ۲۷ و ۲۹) (دشوار)