


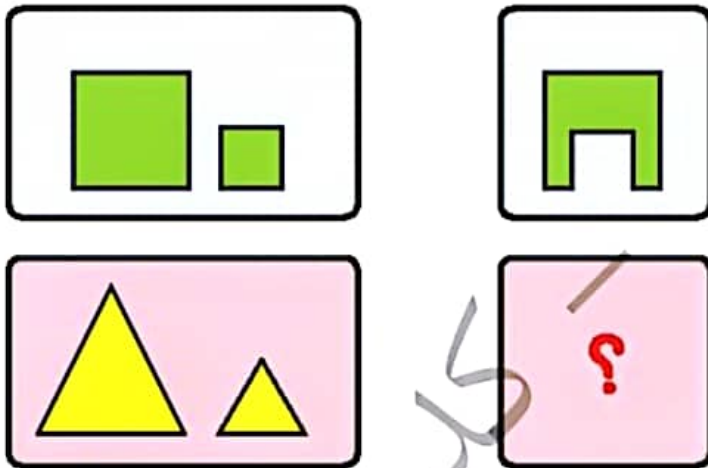


موضوع	شماره سوال	هفته آموزشی
هوش ریاضی - الگو و نمایش آن در ساعت	۱	بیست و چهارم
هوش فضایی	۲	
سرعت، دقت، تمرکز	۳	
هوش کلامی	۴	

۱. با توجه به الگو، عقربه‌های ساعت را بکش.



۲. به جای ؟ کدام شکل را می‌توان قرار داد؟



## علوی

۳. برای هر علامت، یک عدد در نظر گرفته ایم. حالا با توجه به آن، به سؤالهای زیر جواب بده.

۱	۲	۳	۴	۵	۶	۷	۸	۹

عدد

علامت



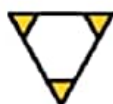
+



=



-



=



+



=



۴. پدر رضانجار است. رضا در تلبستان روزهای شنبه، دوشنبه و چهارشنبه به دکان پدرش می‌رود و به او کمک می‌کند تا با چوب، آزه و میخ، میز و کمد بسازد.

♦ رضا چند روز در ۲ هفته به دکان پدرش می‌رود؟ .....

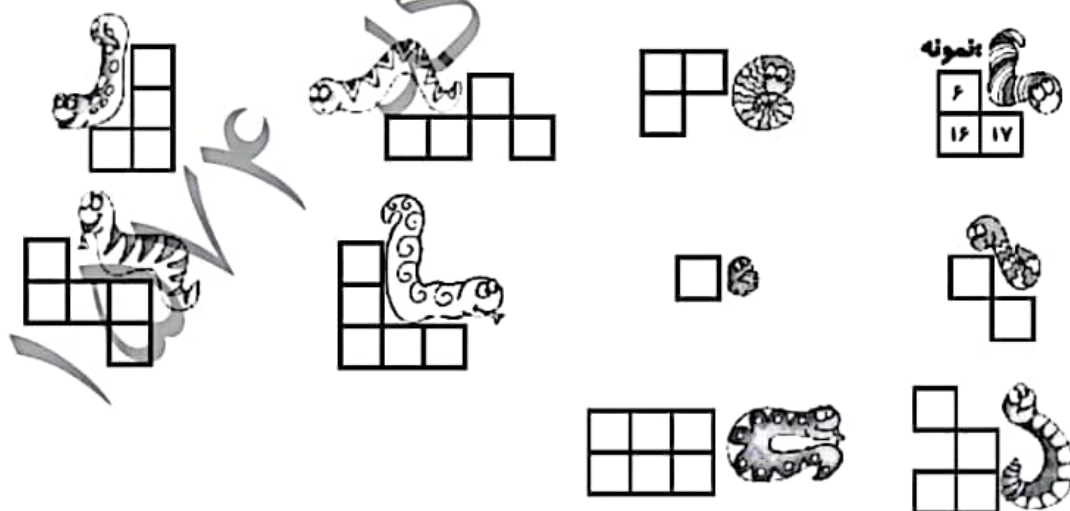
♦ رضا برای چه به دکان پدرش می‌رود؟ .....



موضوع	شماره سؤال	هفته آموزشی
هوش ریاضی - اعداد ۱ تا ۹۹	۱	بیست و پنجم
سرعت، دقت، تمرکز	۲	
هوش کلاسی	۳	
هوش فضایی	۴	

۱. مارها روی بعضی از خانه‌های جدول خولیده‌اند. اعدادی را که پنهان شده است، پیدا کن و بنویس.

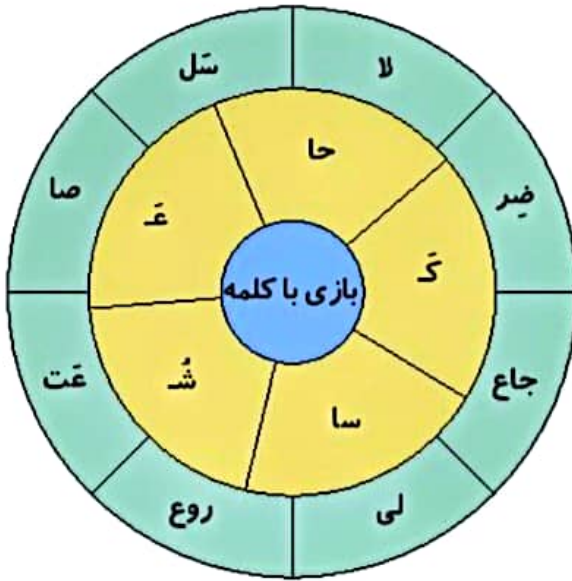
۱	۲	۳	۴	۵		۷	۸	۹	
۱۱	۱۲	۱۳		۱۵		۱۸	۱۹		
۲۱	۲۲	۲۳	۲۴		۲۶	۲۷	۲۸		
۳۱		۳۵	۳۶		۳۸	۳۹	۴۰		
۴۱		۴۵	۴۷	۴۸	۴۹	۵۰			
	۵۲	۵۳	۵۴	۵۵		۵۷	۵۸	۵۹	۶۰
۶۱		۶۳	۶۴	۶۵		۶۹	۷۰		
	۷۳	۷۴		۷۶	۷۷	۷۸	۷۹	۸۰	
۸۱	۸۲	۸۴		۸۸					
	۹۳		۹۵	۹۶		۹۸			



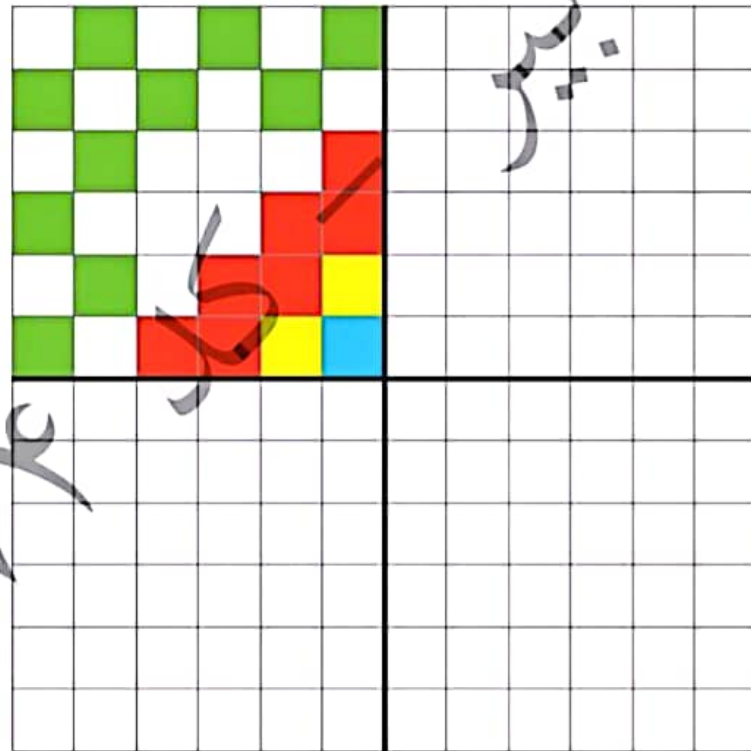
۲. اگر اعداد ۳۱-۱۲-۵۱-۴۰-۱۳-۸۲-۷۰ را به ترتیب از کوچک به بزرگ و از چپ به راست بنویسیم، دومین عدد از سمت چپ کدام است؟ دور آن خط بکش.

# علوی

۳. به گردونه‌ی کلمه سازی دقت کن. چند کلمه می‌توانی بسازی؟ آن‌ها را بنویس.





۴. فرش زیر به چهار قسمت تقسیم شده است. سه قسمت دیگر فرش را مانند قسمت رنگ شده کامل کن.







موضوع	شماره سؤال	هفته آموزشی بیست و نهم
هوش ریاضی - جمع اعداد به کمک هوش فضایی	۱	
هوش فضایی	۲	
هوش کلاسی	۳	
سرعت، دقت، تمرکز	۴	

۱. هر شکل یک عدد را نشان می دهد. حاصل عبارتهای زیر را به دست بیاور.

 = ۲

 = ۵

 = ۸

 +  +  = .....

 +  -  = .....

 -  -  = .....

۲. دایرهها را مطابق با حلقه های رنگی رنگ بزن.

Coloring activity with 4 examples of colored pyramids and 4 sets of concentric circles for coloring.

# علوی



۳. ارتباط (۱) نویسنده با (۲) قصه مثل ارتباط ..... با کتاب داستان است.

(۳) کتاب فروشی (۴) کتاب خانه

۴. هر شکل نشان دهنده‌ی یک عدد است. با توجه به شکل‌ها و اعداد به سوالات زیر پاسخ بده.

۱	۲	۳	۴	۵	۶

♦ حاصل + کدام است؟

۵ (۴)

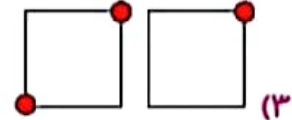
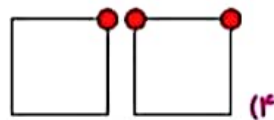
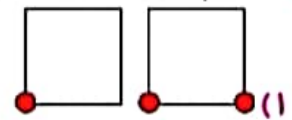
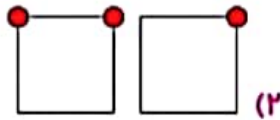
۹ (۳)

۶ (۲)

۳ (۱)

♦ اگر عدد ۲۶ را به صورت نشان دهیم، عدد ۴۵ را با شکل نشان بده.

♦ کدام عدد بزرگ تر است؟



از تلاش  
مستمر شما  
در کلاس  
بسیار بسیار  
خوشحالم

# سپاس از پدر و مادر مهربان

برای پشتیبانی در کلاس‌های مجازی

مامان و بابای عزیزم

شما بهترین حمایت هستید

خیلی ممنون از شما

با عشق از شما سپاسگزاریم