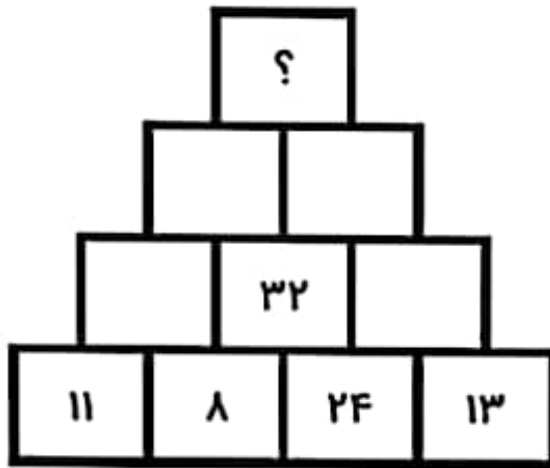


موضوع	شماره سؤال	هفته آموزشی
هوش ریاضی	۱	پانزدهم
هوش کلامی	۲	
هوش فضایی	۳	
سرعت، دقت، تمرکز	۴	


۱. در چه عددی قرار می‌گیرد؟

با رقم‌های داخل چند عدد سه رقمی می‌توانی بنویسی؟ آن‌ها را بنویس.

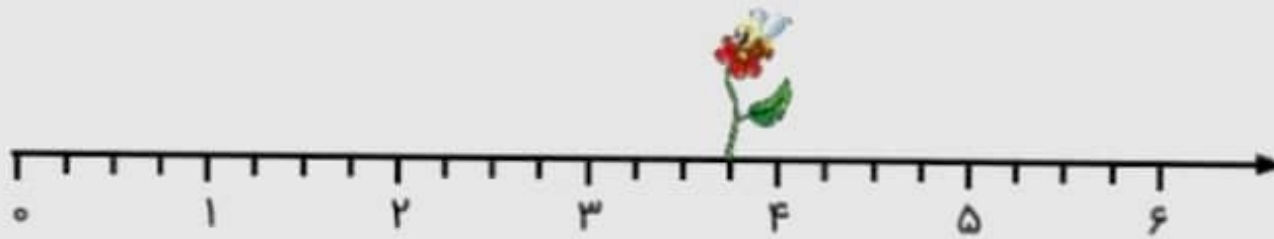


موضوع	شماره سوال	هفته آموزشی بیست و پنجم
هوش ریاضی	۱	
هوش فضایی	۲	
هوش کلامی	۳	
سرعت، دقت، تمرکز	۴	

۱. در این محورها هر واحد به قسمت‌های مساوی تقسیم شده و زنبوری روی گل این قسمت نشسته است.



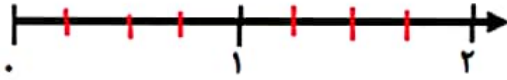
این زنبور روی واحد و قسمت از قسمت مساوی نشسته است.



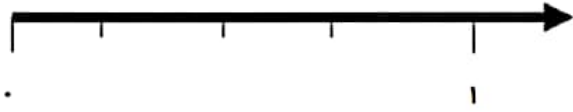
این زنبور روی واحد و قسمت از قسمت مساوی نشسته است.

۲- با توجه به جمله ها، محل مناسب را روی محور مشخص کنید .

▪ ۱ واحد و ۱ قسمت از ۴ قسمت مساوی



▪ ۳ قسمت از ۴ قسمت مساوی



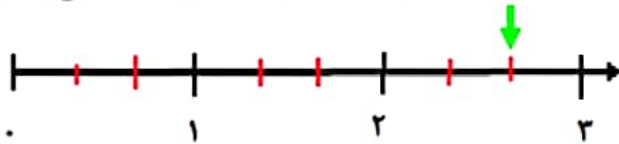
▪ ۲ واحد و ۴ قسمت از ۵ قسمت مساوی



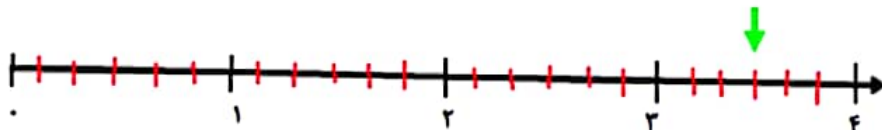


۳- جاهای خالی را کامل کنید.

▪ نقطه ی مشخص شده واحد و قسمت از قسمت مساوی را نشان می دهد .



▪ نقطه ی مشخص شده واحد و قسمت از قسمت مساوی را نشان می دهد .



۲- جاهای خالی را کامل کنید.

۳ سانتی متر یعنی میلی متر

۷ سانتی متر یعنی میلی متر

۲ سانتی متر و ۶ میلی متر یعنی میلی متر

..... میلی متر یعنی ۲ سانتی متر و ۸ میلی متر

۵۳ میلی متر یعنی سانتی متر و میلی متر

۱۲۵ میلی متر یعنی سانتی متر و میلی متر

۳- علامت $< = >$ بگذارید.

۱۲۹ میلی متر ۱۲ سانتی متر و ۹ میلی متر

۳ سانتی متر و ۷ میلی متر ۴ سانتی متر و ۶ میلی متر

۲۰ سانتی متر ۲۱ میلی متر

۶۴۲ میلی متر ۴۲۶ میلی متر

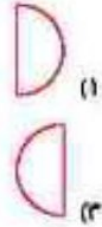
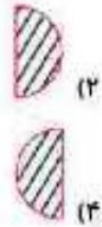
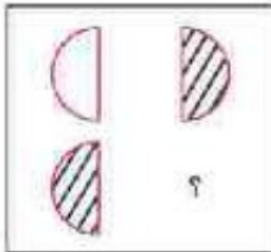
علوی

درس: استعداد فضایی دوم دبستان
طرح بسجش استعداد: جمادای ۲- توصیفی
مدت پاسخگویی و انجام فعالیت: ۴۵ دقیقه
زمان برگزاری: هفته چهارم اردیبهشت

فعالیت‌های استعداد فضایی پایه دوم

فعالیت ۱

۷۱- در جای ؟ کدام شکل قرار می‌گیرد؟



فعالیت ۲

۷۲- در تصویر زیر به ردپاها دقت کن.

هر کدام از ردپاها مربوط به کدام کفش است؟ به هم وصل کن.

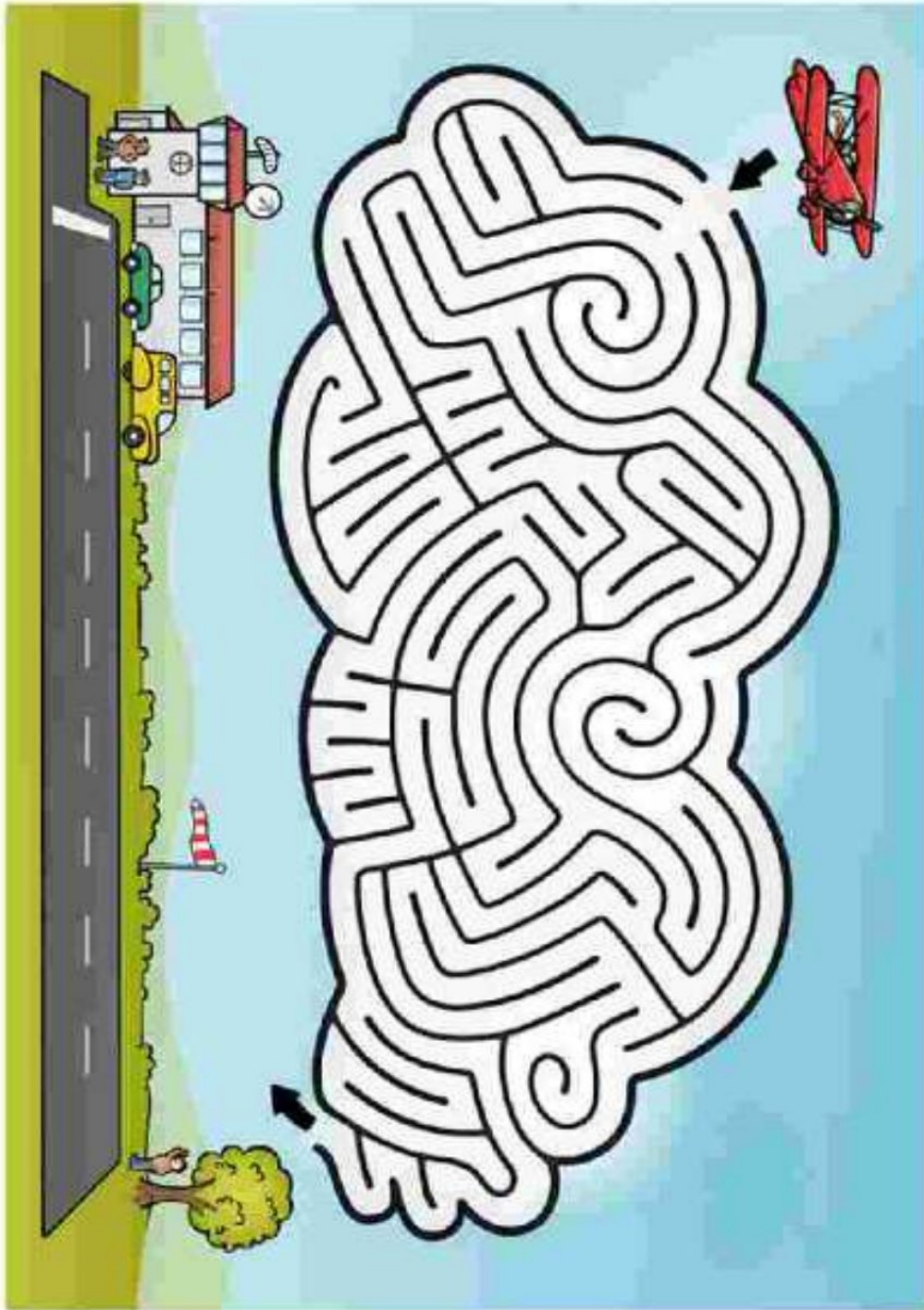


علوی

فعالیت ۳

درس: استعداد فضایی دوم دبستان
طرح بسنجش استعداد: جمادای ۲- توصیفی
مدت پاسخگویی و انجام فعالیت: ۴۵ دقیقه
زمان برگزاری: هفته چهارم اردیبهشت

۷۳- فرزندم یا انتخاب مسیر مناسب، هواپیما را به فرودگاه هدایت کن.

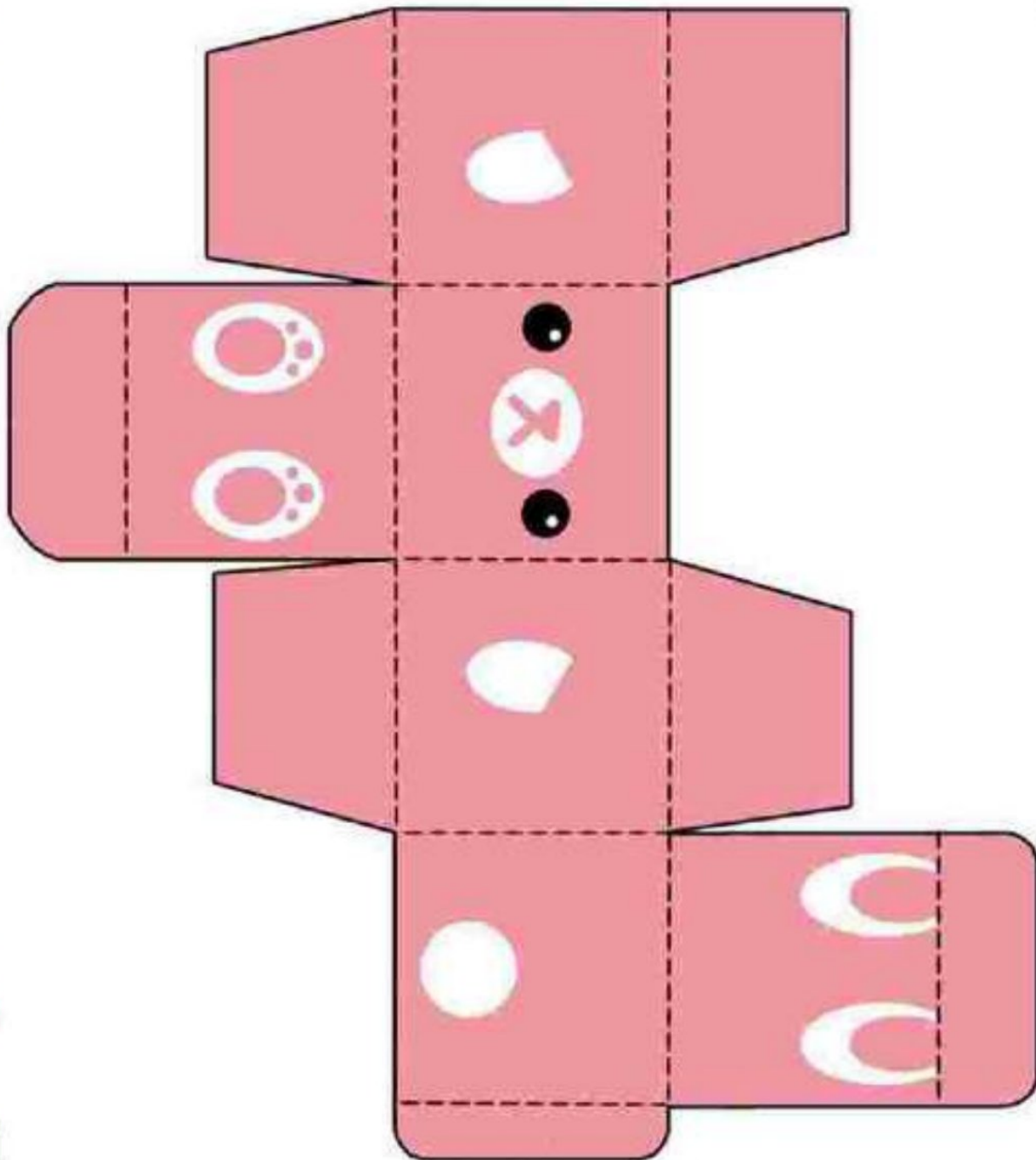


علوی

فعالیت ۴

درس: استعداد فضایی دوم دبستان طرح سنجش استعداد: جمادای ۲- توصیفی
زمان برگزاری: هفته چهارم اردیبهشت مدت پاسخگویی و انجام فعالیت: ۴۵ دقیقه

۷۴- با استفاده از قیچی تصویر زیر را از برگه جدا کن و سپس از روی خطوط تا بزنی. به کمک چسب و با خلافت خود آنرا به یک جعبه‌ی زیبا تبدیل کن.



طرح سنجش استعداد: مداد قرمز ۳ - توصیفی
مدت پاسخگویی و انجام فعالیت: ۴۵ دقیقه

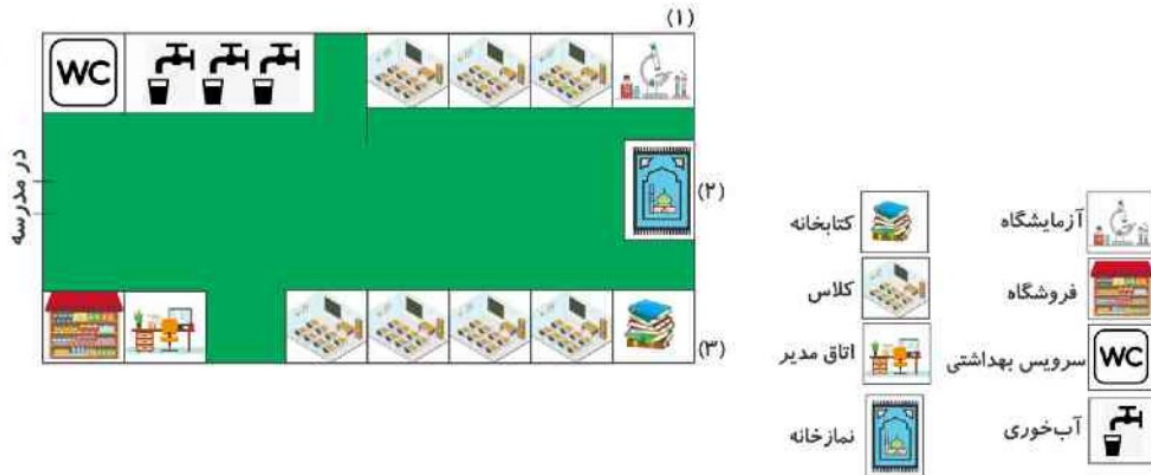
درس: استعداد فضایی دوم دبستان
زمان برگزاری: هفته دوم اسفند

علوی

فعالیت‌های استعداد فضایی پایه‌ی دوم

فعالیت ۱

۱۶- تصویر داده شده، نقشه‌ی یک مدرسه از بالا است. با دقت به آن نگاه کنید و به پرسش‌ها پاسخ دهید.



الف) کدام قسمت فروشگاه قرار دارد؟ دور آن خط قرمز بکشید.

ب) در این مدرسه چند کلاس وجود دارد؟

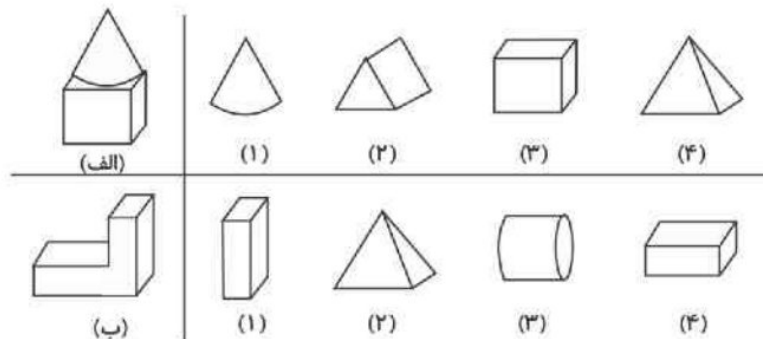
پ) هر یک از مکان‌های (۱)، (۲) و (۳) چه نام دارند؟

۱) (۲) (۳)

ت) شما کدام مکان را در مدرسه بیشتر دوست دارید؟ دور آن خط آبی بکشید.

فعالیت ۲

۱۷- هر یک از تصاویر سمت چپ با کدام یک از تصاویر سمت راست ساخته می‌شود؟ آن‌ها را رنگ کنید.



طرح سنجش استعداد: مداد قرمز ۳ - توصیفی
مدت پاسخگویی و انجام فعالیت: ۴۵ دقیقه

درس: استعداد فضایی دوم دبستان
زمان برگزاری: هفته دوم اسفند

علوی


فعالیت ۳

۱۸- آیا می‌توانید موش را راهنمایی کنید تا از مسیر عبور کرده و به پنیر برسد؟



فعالیت ۴

۱۹- در تصاویر زیر ۴ اختلاف پیدا کنید.




طرح سنجش استعداد: مداد قرمز ۳ - توصیفی
مدت پاسخگویی و انجام فعالیت: ۴۵ دقیقه

درس: استعداد فضایی دوم دبستان
زمان برگزاری: هفته دوم اسفند

علوی

فعالیت ۵

۲۰- به طراح جدول زیر کمک کنید تا خانه‌ها را مانند دو ردیف بالا رنگ کند.



فعالیت ۶

۲۱- به حیوانات داخل جدول دقت کنید و به پرسش‌ها پاسخ دهید.

- الف) اگر لاک‌پشت از محل خود، ۲ خانه به سمت راست و یک خانه به سمت بالا بیاید به کدام حیوان می‌رسد؟
ب) اگر خرگوش از خله‌ی خود حرکت کند، ۲ خانه به پایین و ۵ خانه به راست و یک خانه به بالا برود به کدام حیوان می‌رسد؟
پ) کدام حیوان به شیر نزدیک‌تر است؟

۲) خرگوش

۱) خرس