

۲. ساجده ۷ سال داشت که برادرش به دنیا آمد. حالا از آن زمان ۵ سال گذشته است و هر دو بزرگ شده‌اند. حالا این خواهر و برادر روی هم چند سال دارند؟



سن ساجده  $7+5=12$

سن برادر ساجده 5

روی هم 17 سال دارند.  $12+5=17$



۱. در یک پارکینگ ۴ موتور و ماشین وجود دارد. اگر ۱۴ چرخ در این پارکینگ باشد؛ چند موتور و چند ماشین در این پارکینگ است؟



۳ ماشین و ۱ موتور در این پارکینگ است

ماشین

3

موتور

1

$$4+4+4+2=14$$

۴. در یک مزرعه ۷ گاو و مرغ وجود دارد. اگر مجموع پاهای آن‌ها ۲۲ باشد، چند مرغ و چند گاو در این باغ است؟



(۱) ۲ مرغ و ۵ گاو

(۲) ۳ مرغ و ۴ گاو

(۳) ۵ مرغ و ۲ گاو

(۴) ۴ مرغ و ۳ گاو

مرغ	گاو	محاسبه
6	1	$4+2+2+2+2+2+2= 16$
5	2	$4+4+2+2+2+2+2= 18$
3	4	$4+4+4+4+2+2+2= 22$

۳. با سه کارت ۹، ۵ و ۶ :

695    596    965


چه اعدادی می نویسی که دهگانش از یکانش بزرگ تر باشد؟

659    569    596

چه اعدادی می نویسی که صدگانش از یکانش بزرگ تر است؟

ص	د	ی
9	5	6
9	6	5
5	9	6
5	6	9
6	5	9
6	9	5

۴. پریا به یک فروشگاه رفت و یک کیک به مبلغ ۳۰۰ ریال و یک آدامس به مبلغ ۲۵۰ ریال و یک آبمیوه به مبلغ ۱۵۰ ریال خرید. با کشیدن سکه‌ها مبلغی که او خرج کرده است را محاسبه کن.



پریا 700 ریال خرج کرده است

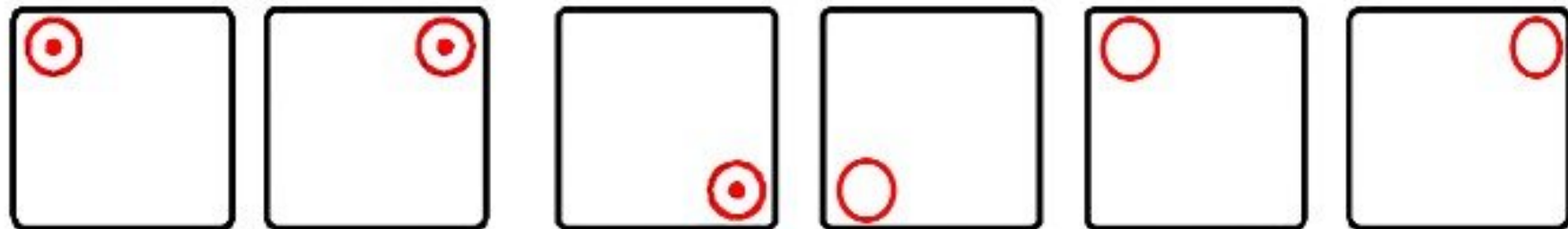
۲. سپیده ساعت ۵ درس خواندن را شروع کرد. وقتی کارش تمام شد به ساعت نگاه کرد و متوجه شد ساعت از ..... ۶ ..... گذشته است.



6:10

## علوی

۳. الگوهای زیر را ادامه بده.



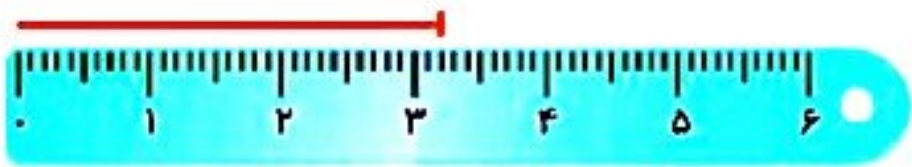
(الف)

۴. اندازه‌ای که هر خط‌کش نشان می‌دهد، به عدد آن وصل کن.

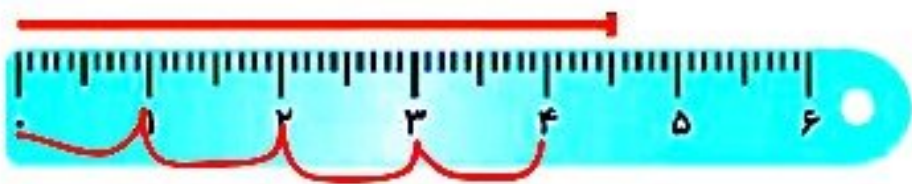
۵۴ میلی‌متر



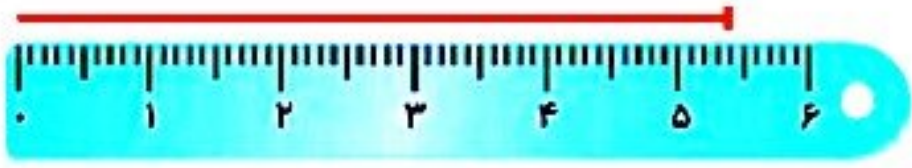
۲۳ میلی‌متر



۴۵ میلی‌متر



۳۲ میلی‌متر



19

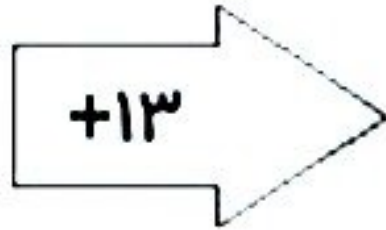
38

25

42

50

69



32


51

38

27

35

54



۱. یک عدد سه رقمی داریم که رقم یکان آن ۲ و رقم دهگان آن ۴ تا بزرگ‌تر از یکان و رقم صدگان آن ۳ تا کوچک‌تر از دهگان آن است. این عدد را با رقم و حروف بنویس.

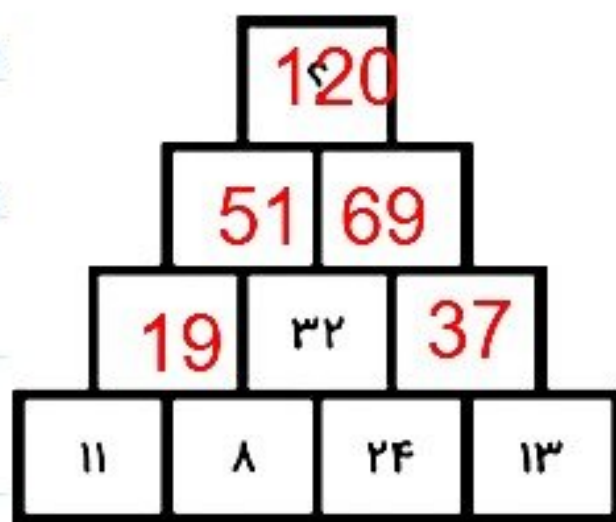
ص	د	ی
3	6	2

رقم: .....362.....

حروف: .....سیصد و شصت و دو.....

۱. در  چه عددی قرار می‌گیرد؟

با رقم‌های داخل  چند عدد سه رقمی می‌توانی بنویسی؟ آن‌ها را بنویس.



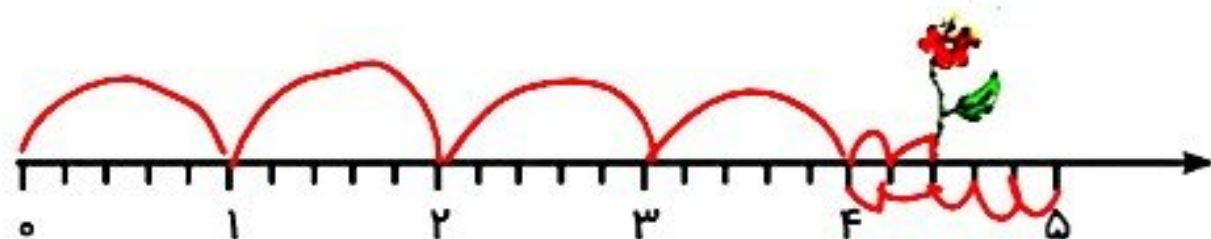
120

102


111

122

۱. در این محورها هر واحد به قسمت‌های مساوی تقسیم شده و زنبوری روی گل این قسمت نشسته است.



این زنبور روی ..... 4 واحد و ..... 2 قسمت از ..... 5 قسمت مساوی نشسته است.

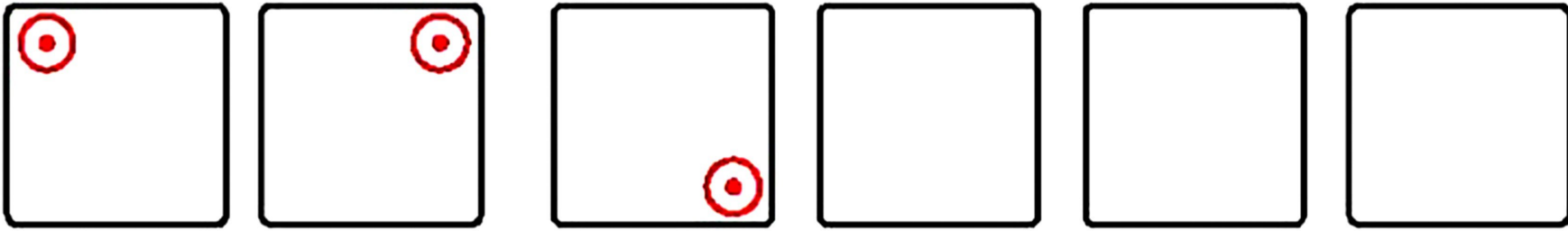


این زنبور روی ..... 3 واحد و ..... 3 قسمت از ..... 4 قسمت مساوی نشسته است.



# علوی

۳. الگوهای زیر را ادامه بده.



(الف)