



مدت پاسخ گویی
۴۵ دقیقه

تاریخ برگزاری:/...../.....

نام آموزگار:

نام کلاس:

نام و نام خانوادگی:

بارم	سؤالات علوم اول دبستان (صفحه اول)	ردیف
۱ نمره	<p>کدام یک نه مزه دارد و نه بو؟ علامت بزن.</p> <input type="checkbox"/> <input type="checkbox"/> <input type="checkbox"/>	۱
۱ نمره	<p>کدام یک زیر آب نمی رود؟ دور آن خط بکش.</p>	۲
۱/۵ نمره	<p>کدام یک از تصاویر زیر، موجود زنده هستند؟ آن‌ها را رنگ بزن.</p>	۳
۱/۵ نمره	<p>هر جانور را به غذایش وصل کن.</p> <input type="radio"/> <input type="radio"/> <input type="radio"/> <input type="radio"/> <input type="radio"/> <input type="radio"/> 	۴



مدت پاسخ‌گویی
۴۵ دقیقه






علوم اول دبستان

آموزش و پرورش شهر منطقه

دبستان غیردولتی علوی

تاریخ برگزاری:/...../.....

آزمون پایان نیمسال اول

بارم	سؤالات علوم اول دبستان (صفحه دوم)	ردیف
۱/۵ نمره	دور جانوران مفید، با مداد سبز و دور جانوران غیرمفید، با مداد قرمز خط بکش. 	۵
۱ نمره	پسرم با توجه به نور خورشید سایه درست را رنگ بزن. 	۶
۱ نمره	کدام تصاویر بهداشت فردی را نشان می‌دهند؟ علامت بزن.  <input type="radio"/> <input type="radio"/> <input type="radio"/> <input type="radio"/>	۷
۱ نمره	چه جانوری حس بینایی قوی دارد؟ دور آن خط بکش. 	۸
۱ نمره	کدام جانوران هنگام راه رفتن روی زمین می‌خزند؟ دور آن‌ها خط بکش. 	۹



بارم	سؤالات علوم اول دبستان (صفحه سوم)	ردیف
۲/۵ نمره	<p>جانورانی که مثل هم حرکت می‌کنند را به هم وصل کن.</p>	۱۰
۱ نمره	<p>کدام یک از گیاه تهیه نشده است؟ دور آن خط بکش.</p>	۱۱
۱ نمره	<p>کدام گیاه دانه‌اش درون میوه نیست؟ علامت بزنی.</p>	۱۲

ردیف	عنوان	بارم	نمره دانش‌آموز
۱	کتاب کار علوی	۱/۵	
۲	کاربرگ	۱	
۳	تکالیف کتاب دبستان	۱	
۴	فعالیت کلاسی	۱/۵	
۵	برگه امتحانی	۱۵	
	نمره کل	۲۰	