




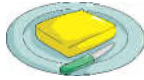






نام و نام خانوادگی: ..... نام کلاس: ..... نام آموزگار: .....

بارم	سؤالات علوم سوم دبستان (صفحه اول)	ردیف
۱ نمره	صابون و دوغ به ترتیب چه حالتی از مواد هستند؟ (جامد، مایع، گاز)	۱
۱ نمره	انواع منابع تحقیق را نام ببرید.	۲
۲ نمره	جملات درست را با ✓ و جملات نادرست را با ✗ مشخص کنید و درست آن را بنویسید. (الف) هوا ماده‌ای است که حالت گازی دارد. <input type="checkbox"/> (ب) تبدیل یک ماده از حالت مایع به جامد، ذوب نام دارد. <input type="checkbox"/> (ج) بالن را از هوا پر می‌کنند. <input type="checkbox"/> (د) مایع به اندازه‌ی مقدارش ظرف را پر می‌کند. <input type="checkbox"/>	۳
۵/۰ نمره	ابری که مثل یک لایه کل آسمان را می‌پوشاند و هوا را تیره می‌کند، نشانه‌ی چه هوایی است؟ .....	۴
۱/۵ نمره	با توجه به شکل، مراحل تصفیه آب را شماره‌گذاری کنید. 	۵
۱ نمره	آب‌های زیرزمینی در کجا تشکیل می‌شوند؟ .....	۶
۲ نمره	در هر مورد چه تغییر حالتی اتفاق افتاده است؟ (الف) سفت شدن بستنی یخی در فریزر ← ..... (ب) درست کردن میوه‌ی خشک ← ..... (ج) بارش باران از ابر ← ..... (د) شل شدن کره‌ی خارج از یخچال ← .....	۷



مدت پاسخ‌گویی  
۸۰ دقیقه

تاریخ برگزاری: ...../...../.....

بارم	سؤالات علوم سوم دبستان (صفحه دوم)	ردیف
۲ نمره	دو قند مفید و دو چربی مفید نام ببرید. ..... .....	۸
۲ نمره	جاهای خالی را با کلمه‌ی مناسب پر کنید. الف) مقدار ماده‌ی تشکیل‌دهنده‌ی هر جسم، ..... نام دارد. ب) مقدار فضایی که یک جسم اشغال می‌کند، ..... نام دارد. ج) جرم‌های کوچک را با واحد ..... اندازه‌گیری می‌کنند. د) ابزار اندازه‌گیری حجم مایعات، ..... می‌باشد.	۹
۲ نمره	هر کدام از خوراکی‌ها در کدام دسته از مواد غذایی قرار می‌گیرند؟  ماکارانی  کره  سیب‌زمینی  ماهی  کرفس  روغن زیتون  سیب  پنیر	۱۰

ردیف	عنوان	بارم	نمره دانش‌آموز
۱	کتاب کار علوی	۱/۵	
۲	کاربرگ	۱	
۳	تکالیف کتاب دبستان	۱	
۴	فعالیت کلاسی	۱/۵	
۵	برگه امتحانی	۱۵	
	نمره کل	۲۰	

تاریخ: ...../...../.....

نام و نام خانوادگی آموزگار: .....