



مدت پاسخ گویی  
۶۰ دقیقه

ریاضی اول دبستان

تاریخ برگزاری: .....

نام و نام خانوادگی: ..... نام کلاس: ..... نام آموزگار: .....

سؤالات ریاضی اول دبستان (صفحه اول)

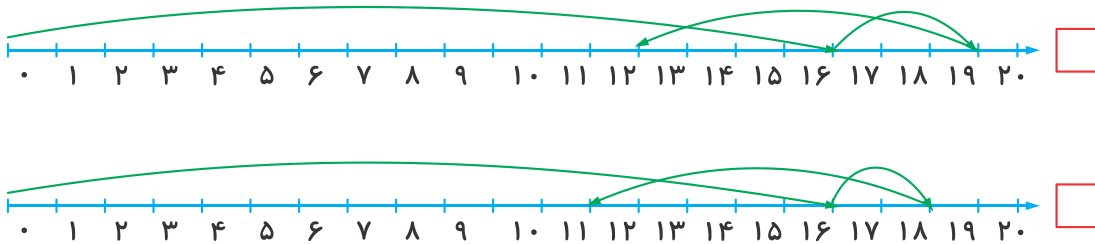
ردیف

جدول زیر را کامل کن و به تعداد گوشه‌ها و لبه‌ها چوب‌خط بکش.

			شکل
.....	.....	.....	نام شکل
ندارد		.....	گوشه
.....	.....		لبه

۱

محور مربوط به عبارت  $۱۶ + ۲ - ۷$  را پیدا کن و علامت بزن.



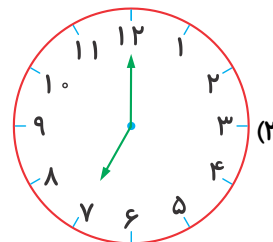
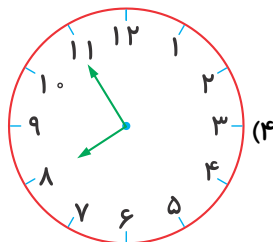
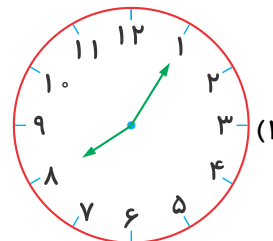
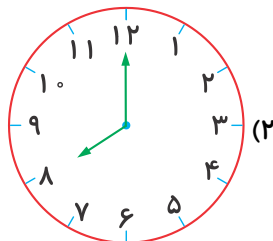
۲

از هر راهی که مایلی مسئله را حل کن.

اتوبوس ۱۸ مسافر داشت. در خیابان اول ۵ مسافر پیاده شدند، در دومین خیابان ۲ نفر پیاده شدند و در خیابان آخر هم ۳ نفر پیاده شدند. حالا اتوبوس چند مسافر دارد؟

۳

درنا ساعت ۷ به مدرسه می‌رسد. ساعت رسیدن درنا به مدرسه کدام است؟



۴



مدت پاسخ‌گویی  
۶۰ دقیقه

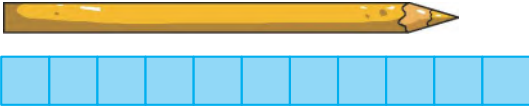
ریاضی اول دبستان

تاریخ برگزاری: .....

سؤالات ریاضی اول دبستان (صفحه دوم)

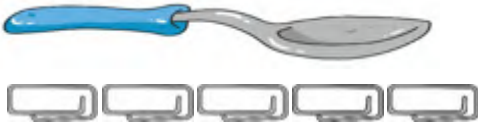
ردیف

جای خالی را با عدد مناسب کامل کن.



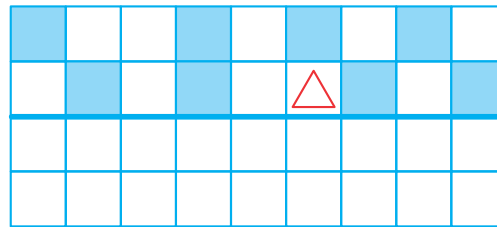
۱) اندازه‌ی مداد بین ..... تا ..... است.

۵



۲) اندازه‌ی قاشق بین ..... تا ..... است.

نیمه‌ی دیگر شکل را کامل کن.



۶

در جای خالی عدد مناسب بنویس.

$$10 + 10 + 20 + 5 - 5 = \square$$

$$30 - 10 + 10 + 20 + 5 = \square$$

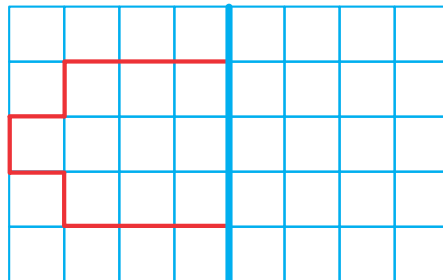
۷

جدول را کامل کن.

۸۴		۱۶
	پنجاه و نه	

۸

شکل زیر را به شکل قرینه تمام کن.



۹



مدت پاسخ‌گویی  
۶۰ دقیقه

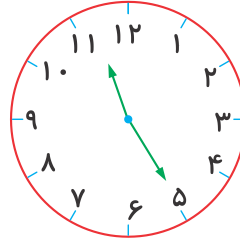
ریاضی اول دبستان

تاریخ برگزاری: ...../...../.....

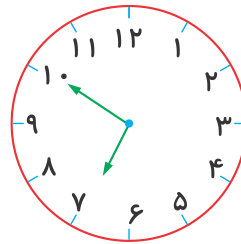
سؤالات ریاضی اول دبستان (صفحه سوم)

ردیف

جاهای خالی را کامل کن.



ساعت از ..... گذشته است.



کمی به ساعت ..... مانده است.

۱۰

عدد ۷۳ را در جدول ارزش مکانی بگذار، شکل بکش و به حروف بنویس.

ده تایی | یکی



به عدد: ۷۳

به حروف: .....

۱۱

با توجه به الگوی عددها، قبل و بعد اعداد را بنویس.

..... - ۳۰ - ۴۰ - .....

..... - ۶۰ - ۶۱ - .....

..... - ۲۵ - ۳۰ - .....

۱۲



مدت پاسخ‌گویی  
۶۰ دقیقه

ریاضی اول دبستان

تاریخ برگزاری: ...../...../.....

سوالات ریاضی اول دبستان (صفحه چهارم)

ردیف

عدد یا علامت مناسب « > = < » بگذار.

$$۳۶ \square ۳۵$$

$$۶ \text{ دسته‌ی ده‌تایی} = \square \dots\dots\dots$$

$$۱۸ \square ۸۱$$

$$۲۶ \square \dots\dots\dots$$

۱۳

کلاس اول دبستان دانا ۱۵ دانش‌آموز و کلاس دوم ۲۰ دانش‌آموز دارد. ۱۰ دانش‌آموز به اردو رفتند. چند دانش‌آموز در کلاس ماندند؟ (از هر راهی که دوست داری جواب را پیدا کن.)

۱۴

ردیف	عنوان	بارم	نمره دانش‌آموز
۱	کتاب کار علوی	۱/۵	
۲	کاربرگ	۱	
۳	تکالیف کتاب دبستان	۱	
۴	فعالیت کلاسی	۱/۵	
۵	برگه امتحانی	۱۵	
	نمره کل	۲۰	

تاریخ: ...../...../.....

نام و نام خانوادگی آموزگار: .....