

مجموعت پاسخ گویی
۱۰۰ دقیقه

علوم اول دبستان

تاریخ برگزاری:

آموزش و پرورش شهر منطقه

دبستان غیردولتی علوی

آزمون پایان سال تحصیلی










۹۵-۹۶



نام آموزگار:

نام کلاس:

نام و نام خانوادگی:

بارم	سوالات علوم اول دبستان	ردیف
۱	<p>با توجه به تصاویر محل خورشید را برای هر کدام مشخص کن.</p> <div style="display: flex; justify-content: space-around; align-items: center;"> <div style="text-align: center;">  <p>(ب)</p> </div> <div style="text-align: center;">  <p>(الف)</p> </div> </div>	۱
۱	<p>دور وسایلی که زیر آب میروند خط بکش.</p> <div style="display: flex; justify-content: space-around; align-items: center;">      </div>	۲
۱/۵	<p>در تصاویر زیر عضو قوی تر حیوانات را رنگ کن. (ریک عضو)</p> <div style="display: flex; justify-content: space-around; align-items: center;">   </div>	۲

نکته پاسخ‌گویی
۱۰۰ دقیقه

علوم اول دبستان

آموزش و پرورش شهر منطقه

دبستان غیردولتی علوی

آزمون پایان سال تحصیلی

۹۵-۹۶



علوی

از کارهای زیر آنهایی که مربوط به بهداشت فردی است را انتخاب کن.




۴

در هر یک از اتفاقات زیر از چه کسی کمک می‌گیریم؟ آن‌ها را به ماشین مربوطه وصل کن.



۵

چرخه رشد جانوران زیر را به ترتیب شماره گذاری کن.



۶

فایده هر حیوان را به خود آن وصل کن.



۷

نکته پاسخ گویی
۱۰۰ دقیقه

علوم اول دبستان

تاریخ برگزاری: _____

آموزش و پرورش شهر منطقه

دبستان غیردولتی علوی

آزمون پایان سال تحصیلی

۹۵-۹۶



در شکل‌های زیر کدام قسمت گیاهان خورده می‌شود آن را به نوشته درست وصل کن.



میوه



دانه



ساقه



ریشه

۸

شغل‌هایی که با آب در ارتباط است را رنگ بزن.



۹

وسایل ساده را آبی و وسایل پیچیده را قرمز کن.



۱۰

وجود کدام یک از موجودات زیر به خاک وابسته است. دور آن را خط بکش.



۱۱

کدام وسیله از خاک ساخته شده است؟



مجسمه سنگی



کاسه سفالی



صندلی پارکی



خانه گلی

۱۲

نکته: ۱۰۰ پاسخ گویی
در ۱۰۰ دقیقه

علوم اول دبستان

تاریخ برگزاری: _____

آموزش و پرورش شهر منطقه

دبستان غیردولتی علوی

آزمون پایان سال تحصیلی

۹۵-۹۶



در کدام یک از تصاویر زیر وجود هوا لازم است؟ رنگ بزن.

۱۳



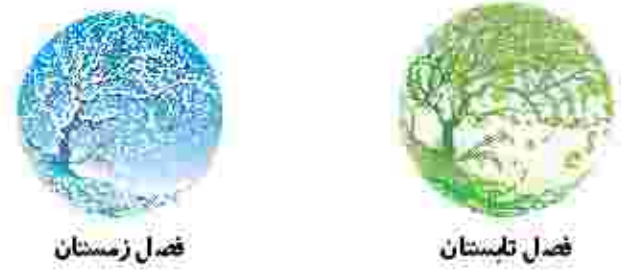
کدام وسیله هم نور دارد هم گرما دارد؟

۱۴



لباس‌های مخصوص هر فصل را به آن وصل کن.

۱۵



هر وسیله در کدام مسیر می‌تواند حرکت کند. به آن وصل کن.

۱۶



۱/۵

مجموعت پاسخ گویی
۱۰۰ دقیقه

علوم اول دبستان

آموزش و پرورش شهر منطقه

دبستان غیردولتی علوی
آزمون پایان سال تحصیلی



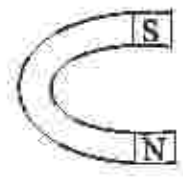
۹۵-۹۶

در گذشته انسان‌ها برای رفتن از جایی به جایی دیگر از کدام وسیله استفاده می‌کردند؟



۱۷

آهن ربای قوی تر را رنگ کن.



۱۸

وقتی برق خانه قطع می‌شود از کدام یک وسایل زیر نمی‌توان استفاده کرد؟



۱۹