



مدت پاسخ گویی
 ۱۰۰ دقیقه

ریاضی دوم دبستان
 تاریخ برگزاری:

نام آموزگار:

نام کلاسی:

نام و نام خانوادگی:

ردیف	سؤالات ریاضی دوم دبستان (صفحه اول)	بارم
۱	بزرگ‌ترین عدد زوج سه رقمی کدام است؟ الف) ۹۹۹ ب) ۹۹۸ ج) ۸۹۹	۱
۲	با توجه به عدد، شکل را کامل کن و عدد را به حروف بنویس. ۷۶۹ یکی ده‌تایی صدتایی	۱/۵
۳	الگوی عددی زیر را ادامه بده. ۳۳۵-۳۴۰-۳۴۵-..... ۲۵۸-۲۵۶-۲۵۴-.....	۲/۵
۴	با این سه کارت، عددی سه رقمی بنویس، که رقم یکان آن از همه بیشتر باشد. ۵، ۲، ۶	۱
۵	از دو طرف عبارت‌های زیر، مقدار مساوی را خط بزن و مقایسه کن. (10 ریال) (100 ریال) (100 ریال) (10 ریال) (500 ریال) (100 ریال) (1 ریال) (1 ریال) (1 ریال) (1 ریال) ۴۰۰+۲۰۰+۲۰۰+۱۰۰+۶+۱+۱ ○ ۲۰۰+۲۰۰+۱۰۰+۵+۲۰+۱	۲
۶	ساعت چند است؟ اگر عقربه بزرگ، نیم ساعت جلو برود، ساعت چند می‌شود؟	۱

مکثت پاسبخ گونیا
۱۰۰ دقیقه

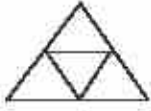
ریاضی دوم دبستان
تاریخ برگزاری:

بسه تعالی
آموزش و پرورش شهر منطقه
دبستان غیردولتی علوی
آزمون پایان سال تحصیلی
۹۵-۹۶

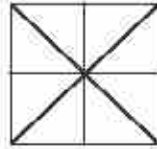


به اندازه کسر نوشته شده، از شکل‌ها رنگ کن.

۱



۱ قسمت از ۴ قسمت مساوی

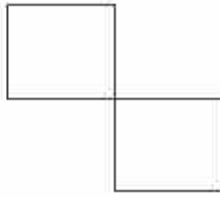


۳ قسمت از ۸ قسمت مساوی

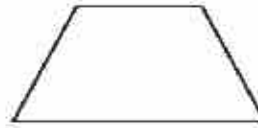
۷

با رسم برش‌های لازم، شکل را به قسمت‌های خواسته شده تقسیم کن.

۱/۵



۴ قسمت مساوی



۲ قسمت مساوی



۳ قسمت مساوی

۸

حاصل جمع و تفریق‌های زیر را بنویس.

$$\begin{array}{r} 492 \\ + 268 \\ \hline \end{array}$$

$$\begin{array}{r} 607 \\ + 258 \\ \hline \end{array}$$

۱/۵

۹

حاصل جمع و تفریق‌های زیر را به روش فرآیندی (گسترده نویسی) به دست آورید؟


$$\begin{array}{r} 457 \\ - 225 \\ \hline \dots\dots \\ - \dots\dots \\ \hline \dots\dots \\ - \dots\dots \\ \hline \dots\dots \end{array}$$

$$\begin{array}{r} 268 \\ + 121 \\ \hline \dots\dots \\ + \dots\dots \\ \hline \dots\dots \\ + \dots\dots \\ \hline \dots\dots \end{array}$$

۱/۵

۱۰



تعداد درختان سیب، هلو و گیلاس یک باغ در جدول زیر به صورت تقریبی آمده است. اگر هر ۱۰ درخت را با  نشان دهیم، جدول را کامل کن.

نام درخت	تعداد درخت	نمودار تصویری
سیب	۴۰	
هلو	۲۰	
گیلاس	۵۵	

۱/۵

۱۱

در داخل کیسه‌ای ۷ مهره سفید و ۷ مهره نارنجی انداختیم. اگر از داخل کیسه، بدون نگاه کردن، یک مهره بیرون بیاوریم، شانس کدام رنگ بیشتر است؟ چرا؟

۲

۱۲

پروانه ۷۰۰ ریال داشت. یک دفترچه به قیمت ۱۴۶ ریال و یک مداد به قیمت ۱۰۵ ریال خرید.

الف) او چند ریال خرج کرده است؟

۲

۱۳

ب) چند ریال برایش باقی مانده است؟