



مدت پاسخ‌گویی  
۶۰ دقیقه

علوم دوم دبستان

تاریخ برگزاری: .....

نام و نام خانوادگی: ..... نام کلاس: ..... نام آموزگار: .....

ردیف	سؤالات علوم دوم دبستان (صفحه اول)
۱	<p>هنگام مشاهده‌ی نرمی پر از چه حسی استفاده می‌کنیم؟</p> <p>الف) چشایی      ب) بویایی      پ) لامسه      ت) شنوایی</p>
۲	<p>دمای کدام آب بیش‌تر است؟ <input type="checkbox"/> زیر آن را رنگ کن.</p> <p><input type="checkbox"/>      <input type="checkbox"/>      <input type="checkbox"/></p>
۳	<p>صدای کدام یک آزاردهنده است؟ <input type="checkbox"/> زیر آن را رنگ کن.</p> <p><input type="checkbox"/>      <input type="checkbox"/>      <input type="checkbox"/>      <input type="checkbox"/></p>
۴	<p>در هر جمله دور کلمه‌ی صحیح خط بکش.</p> <p>الف) از گردش زمین دور خودش (شب و روز - فصل‌ها) به وجود می‌آید.</p> <p>ب) نور خورشید همیشه (دو طرف - یک طرف) زمین را روشن می‌کند.</p> <p>ج) زمین در هر (۲۴ ساعت - ۱ ساعت) یک بار به دور خود می‌چرخد.</p>
۵	<p>دور چشمه‌های نور خط بکش.</p>
۶	<p>مراحل زندگی قورباغه را به ترتیب شماره گذاری کن.</p> <p><input type="checkbox"/>      <input type="checkbox"/>      <input type="checkbox"/>      <input type="checkbox"/>      <input type="checkbox"/></p>



مدت پاسخ‌گویی  
۶۰ دقیقه

علوم دوم دبستان

تاریخ برگزاری: ..... / ..... / .....

سؤالات علوم دوم دبستان (صفحه دوم)

ردیف

به درنا و برنا کمک کن تا مواد داخل آشپزخانه را به دو گروه جامد و مایع تقسیم کنند و آن‌ها را در جای خود قرار دهند.

«آلبیمو - گلاب - سیب - قند - سرکه - نخود»

مایع	جامد

۷

به چند روش می‌توان گندم را تبدیل به آرد کرد؟ (دو مورد)

۸

هر کدام از زباله‌ها را به سطل مخصوص خود وصل کن.



«قوطی خالی»



«جعبه کارتون»



«شیشه شکسته»



«بطری خالی»



«پوست موز»



«روزنامه باطله»

۹

سوخت هر وسیله را بنویس.



۱۰



مهلت پاسخ‌گویی  
۶۰ دقیقه

علوم دوم دبستان

تاریخ برگزاری: ...../...../.....

سؤالات علوم دوم دبستان (صفحه سوم)

ردیف

با توجه به هر تصویر جای خالی را کامل کن.



«آلو»



«قاصدک»



«خیار»



«فندق»

۱۱

الف) میوه‌ای چند دانه با دانه‌های نرم است: .....

ب) دانه‌های آن به راحتی با باد جابه‌جا می‌شود: .....

ج) دانه‌ی آن غذای سنجاب است: .....

د) میوه‌ای یک دانه با دانه سفت است: .....

درست و نادرست بودن جمله‌ها را مشخص کن.

الف) ورزش باعث رشد مناسب انسان می‌شود.

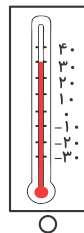
ب) خوردن غذاهای چرب، باعث رشد سریع بدن ما می‌شود.

ج) خوردن لبنیات برای رشد دندان‌ها مفید است.

د) آب همیشه یک ماده‌ی مایع می‌ماند.

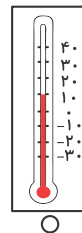
۱۲

یک دماسنج دمای سه زمان مختلف را در یک روز نشان می‌دهد. هر دماسنج را به زمان آن وصل کن.



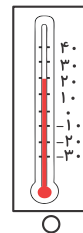
○

نیمه شب



○

ظهر



○

ساعت ۵ عصر

۱۳



مدت پاسخ‌گویی  
۶۰ دقیقه

علوم دوم دبستان

تاریخ برگزاری: ...../...../.....

سؤالات علوم دوم دبستان (صفحه چهارم)

ردیف

ردیف	عنوان	بارم	نمره دانش‌آموز
۱	کتاب کار علوی	۱/۵	
۲	کاربرگ	۱	
۳	تکالیف کتاب دبستان	۱	
۴	فعالیت کلاسی	۱/۵	
۵	برگه امتحانی	۱۵	
	نمره کل	۲۰	

تاریخ: ...../...../.....

نام و نام خانوادگی آموزگار: .....