

نام و نام خانوادگی: ..... تاریخ: ..... نام آموزگار: .....

مطالعات اجتماعی &lt; مرور سال گذشته

هدیه‌های آسمان &lt; مرور سال گذشته

قرآن &lt; مرور سال گذشته


ریاضی &lt; مرور سال گذشته

علوم &lt; مرور سال گذشته

فارسی &lt; مرور سال گذشته

## ریاضی

۱ الگوهای زیر را ادامه دهید.

الف) ۵، ۶، ۸، ۰، ب) پ) 

۲ ستاره بابت خرید دفتر ۴۵۰ تومان و بابت خرید خط‌کش ۱۴۷ تومان باید پردازد. او در کل چند تومان باید پردازد؟

۳ جمع و تفریق زیر را حل کنید.

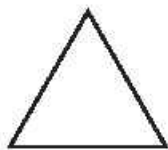
$$\begin{array}{r} ۶۳۲ \\ + ۲۵۱ \\ \hline \end{array}$$

$$\begin{array}{r} ۷۸۹ \\ - ۵۴۷ \\ \hline \end{array}$$


۴ ۲۵ میلی‌متر می‌شود ..... سانتی‌متر و ..... میلی‌متر

۳ میلی‌متر و ۴ سانتی‌متر می‌شود ..... میلی‌متر

هر شکل را به چهار قسمت مساوی تقسیم کنید و یک قسمت از آن را رنگ کنید و عبارت مربوط به هر کدام را کامل کنید.



..... قسمت از ..... قسمت مساوی رنگ نشده است. ..... قسمت مساوی رنگ نشده است.



..... قسمت از ..... قسمت مساوی رنگ نشده است.

علوم

۱ برای این که خاک کم تر فرسوده شود، یک پیشنهاد بدهید.

۲ گیاهان برای رشد به چه چیزهایی نیاز دارند؟


۳ برچسب صداهای پیام رسان و آزاردهنده را با دسته بندی بچسبانید.

آزاردهنده

پیام رسان

۴ چه موقع از روز هوا گرم تر است؟ چرا؟

۵ سایه‌ی درخت را با توجه به نور خورشید بکشید.



فارسی

۱ معنی کلمات زیر را بنویسید.

	شبه		کوشا
	علم		سحرخیز

۲ مخالف کلمات زیر را بنویسید.

شب ≠ زشت ≠ درست ≠ زیاد ≠

۳ کلمات درهم ریخته‌ی زیر را مرتب کنید و جمله‌ای زیبا بسازید.

نگه داری - چوپان - می‌کرد - از - گوسفندان

۴ جملات زیر را کامل کنید.

- بی‌سواد یعنی .....
- با ارزش یعنی .....
- بی‌هدف یعنی .....
- با ادب یعنی .....

۵ جمع هر کلمه را بنویسید.

پرنده: دانش‌آموز: کتاب: ستاره:



با کلمات زیر جمله‌های زیبا بنویسید.

با:

می‌نویسد:

چرا:

### مطالعات اجتماعی

اثر انگشت خود را در کادر ثبت کنید.



اثر انگشت من

### هدیه‌های آسمان - قرآن

۱ امام حسین (ع) و امام حسن (ع) هر دو در شهر ..... به دنیا آمده‌اند.

۱) مکه


۲) مدینه

۳) نجف


۴) کوفه

۲ نام امام اول و دوم و سوم شیعیان را به ترتیب بنویسید.

امام اول



امام دوم



امام سوم



۳ تعداد رکعت‌های هر نماز را بنویسید.

نماز صبح:

نماز ظهر:

نماز عصر:

نماز مغرب:

نماز عشا:

۴ هر تصویر وقت چه نمازی را نشان می‌دهد؟



و

و

	شناخت کلمات و جملات
	هم معنی
	اطلاعات شناسنامه
	شناخت اماکن

	الگوسازی
	جمع و تفریق
	تبدیل واحد طول
	فواید انرژی خورشید و باد
	صدای پیام‌رسان و آزار دهنده



نام و نام خانوادگی: ..... تاریخ: ..... نام آموزگار: .....

مطالعات اجتماعی ← مرور سال گذشته

هدیه‌های آسمان ← مرور سال گذشته

قرآن ← مرور سال گذشته


ریاضی ← مرور سال گذشته

علوم ← مرور سال گذشته

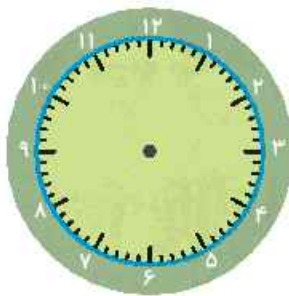
فارسی ← مرور سال گذشته

## ریاضی

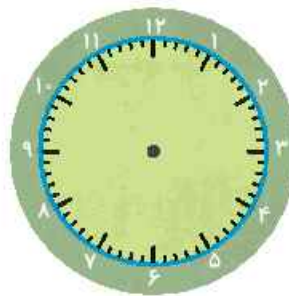
۱ زمان‌های خوسته شده را روی ساعت نشان دهید.



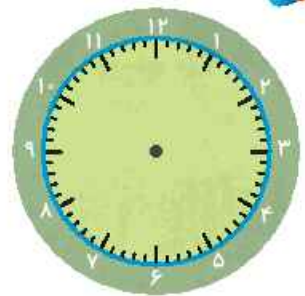
۵:۱۷



۷



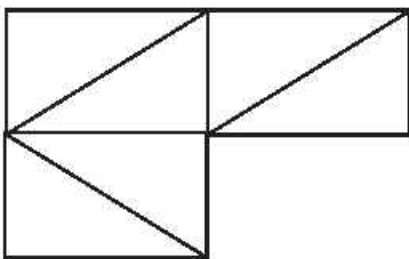
۴ و نیم



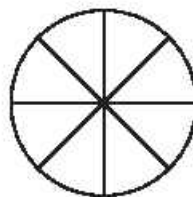
یک ربع به ۳

۲ با کارت رقم‌های ۷ و ۰ و ۴ هم‌بندی دو رقمی را که تکراری ندارند بسازید و بچسبانید.


۳ کسر مربوط به هر عبارت را روی شکل رنگ کنید.



۵ قسمت از ۶ قسمت مساوی



۳ قسمت از ۸ قسمت مساوی



۱ قسمت از ۴ قسمت مساوی



۴ یک کرم خاکی ۵ سانتی متری هر روز ۳ سانتی متر قدش بلندتر می شود. این کرم خاکی پس از چند روز ۲۰ سانتی متر می شود؟

۵ الگوهای زیر را کامل کنید.

و ..... و ..... و .....  
و ..... و ..... و .....  
و ..... و ..... و .....

۶ جمع و تفریق های زیر را حل کنید.

$$\begin{array}{r} 328 \\ +415 \\ \hline \end{array}$$

$$\begin{array}{r} 800 \\ -489 \\ \hline \end{array}$$

علوم

۱ برای تهیهی شکلات آجیلی چه تغییر حالت هایی در مواد به وجود می آید؟

۲ حالت های هر یک از موارد زیر را بنویسید.



۳ در روزهای گرم تابستان بوی بد زباله ها شما را بیش تر آزار می دهد یا زمستان؟ چرا؟

۴ چند میوه نام ببرید که چند دانه داشته باشند.

سوخت مربوط به هر وسیله را بنویسید.



در کدام شکل آب داغ تر می شود؟ چرا؟



### فارسی

۱ نماد (ی) در پایان کدام کلمات صدای (آ) می دهد؟ دور آن ها خط بکشید.

«موسی - شیری - حتی - خانه ی - کبری - رهایی»

۲ جمله ی زیر را پرسشی کنید و علامت سؤال بگذارید.

مادر به مسافرت رفت.

۳ جمله ی زیر را با کلمات داخل کمانک تغییر دهید و دوباره بنویسید.

تو درس هایت را خواندی.

(من)

(شما)


۴ از میان کلمات (سنجاقک - بهار - ماشین - درخت - پرنده - لانه) سه کلمه را به دلخواه انتخاب کنید و هر سه را با هم در یک جمله به کار ببرید.

کلمات زیر را بخوانید و هر جا لازم است (۲) و (۳) را بگذارید.

دنیا - لطفا - بقیه - اتفاق - مثلا - لذت - حتما - معلم - کامل

### مطالعات اجتماعی

یک نقاشی از خانواده‌ی خود بکشید و نام تمام اعضای خانواده را بنویسید.



### هدیه‌های آسمان - قرآن

۱ حضرت محمد (ص) ..... امام حسن (ع) و امام حسین (ع) بود.

عمو (۴)






برادر (۳)






پدربزرگ (۲)

پدر (۱)

۲ قبل از شروع هر کاری بهتر است، ..... بگوییم.

۳ نام فرزندان حضرت فاطمه (س) را بنویسید.

	گیاهان
	جمله‌سازی
	توین و تشدید
	شناخت خانواده
	شناخت ائمه

	ساعت
	عددنویسی
	کسر
	الگو
	تغییر حالت مواد

شاخص‌ها

-  خیلی خوب
-  خوب
-  قابل قبول
-  نیاز به تلاش بیشتر



نام و نام خانوادگی: ..... تاریخ: ..... نام آموزگار: .....

مطالعات اجتماعی &lt; درس ۱: من به دنیا آمدم (۲)

ریاضی &lt; فصل ۱: الگویابی و سود

هدیه‌های آسمان &lt; درس ۱: آستین‌های خلی

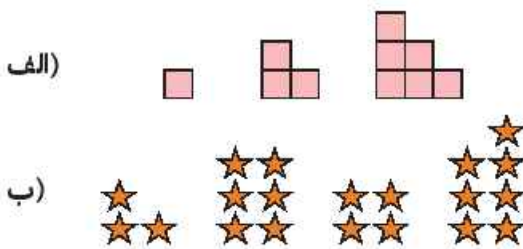
علوم &lt; درس ۱: انتخاب موضوع تحقیق، مشاهده‌ی خوب

قرآن &lt; جلسه‌ی اول

فارسی &lt; درس ۱: نیایش و محله‌ی ما

## ریاضی

۱ الگوهای شکلی زیر را کامل کنید.



۲ الگوهای زیر را ادامه دهید.

الف) ۸۳ ، ۸۹ ، ۹۵ ، ..... ، ..... ، .....

ب) ۳۰ ، ۲۶ ، ..... ، ۱۸ ، ۱۴ ، .....

پ) ..... ، ..... ، ..... ، ۳۴۲ ، ۳۴۹ ، ۳۵۶

۳ در قنادی پدر مینا یک قفسه برای خمیرهای شیرینی در نظر گرفته شده است. این قفسه ۵ طبقه دارد. در پایین‌ترین طبقه آن ۵ سینی و در هر سینی ۲ خمیر شیرینی وجود دارد. هر طبقه که بالا می‌رویم یک سینی کم می‌شود.

الف) در پایین‌ترین طبقه چند خمیر شیرینی وجود دارد؟

ب) چه الگویی بین تعداد خمیرهای شیرینی طبقات وجود دارد؟

پ) در این قفسه چند خمیر شیرینی قرار دارد؟

۴ یک فروشنده نوعی شکلات را ۳۵۰ تومان می‌خرد و ۴۵۰ تومان آن را می‌فروشد.

با تکمیل جدول به سؤالات زیر پاسخ دهید.

تعداد	۱	۲	۳	۴	۵	۶		
سود								

الف) اگر این فروشنده ۶ شکلات بفروشد. چقدر سود می‌کند؟

ب) چند شکلات بفروشد تا ۹۰۰ تومان سود کند؟

۵ یک ساختمان ۵ طبقه دارد. در هر طبقه ۴ واحد آپارتمان دارد که در هر آپارتمان ۳ پنجره به کار رفته است. در آپارتمان‌های این ساختمان چند پنجره استفاده شده است؟

## علوم

۱ منابع مکتوب را قرمز و منابع نامکتوب را آبی کنید.

مجله	متخصصان	تلویزیون	کتاب	پدر	مقاله	مادر	فیلم مستند	جدول راهنما
------	---------	----------	------	-----	-------	------	------------	-------------

۲ در هر مورد زیر از چه حسی برای مشاهده‌ی دقیق استفاده شده است؟

چه صدای نازکی!	چه پرهای نرمی!	چه گل خوش‌بوئی!
↓	↓	↓

۳ جاهای خالی را با استفاده از کلمات زیر، کامل کنید.

«مشاهده - گروهی - کتبی - اندیشه - عملی - تفکر،

الف) اولین قدم برای تحقیق علمی، ..... می‌باشد.

ب) در مشاهده، استفاده از تمامی حواس در کنار ..... و .....، بسیار اهمیت دارد.

پ) بهتر است تحقیق به صورت ..... انجام شود، تا با تقسیم کار، سریع‌تر به نتیجه برسیم.

۴ پاسخ‌های احتمالی که برای پرسش‌های مربوط به هدف تحقیقمان می‌دهیم و هنوز اثبات نشده‌اند و ممکن است اشتباه باشند، چه نام دارند؟

## فارسی

۱ کلماتی را که نشانه‌های داده شده در آن‌ها وجود دارد را از متن «ستایش»، پیدا کنید و در جدول بنویسید.

ص ص	ه ه با صدای -	قق	ه ه ه ه