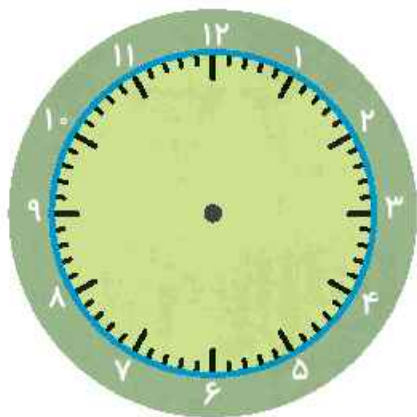


نام و نام خانوادگی: تاریخ: نام آموزگار:

مطالعات اجتماعی \leftarrow مرور سال گذشتههدیه‌های آسمان \leftarrow مرور سال گذشتهقرآن \leftarrow مرور سال گذشتهریاضی \leftarrow مرور سال گذشتهعلوم \leftarrow مرور سال گذشتهفارسی \leftarrow مرور سال گذشته

ریاضی

۱ به کمک ساعت زیر نوع زاویه‌ی بین عقربه‌های ساعت شمار و دقیقه شمار را در هر یک از موارد مشخص کنید.

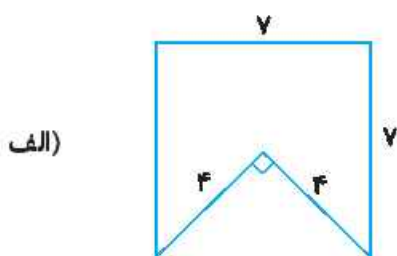


الف) ساعت ۳ بعد از ظهر:

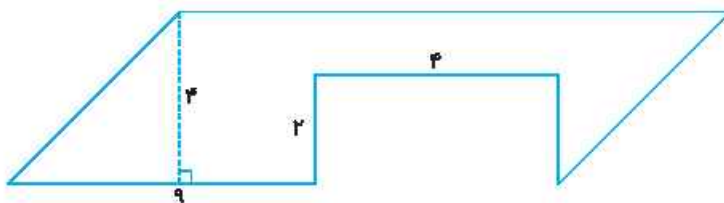
ب) ساعت ۱۰ و ۴۵ دقیقه:

پ) ساعت ۱۴ و ۵۰ دقیقه:

۲ مساحت شکل‌های زیر را به دست آورید.



ب)



۳ مقایسه کنید.

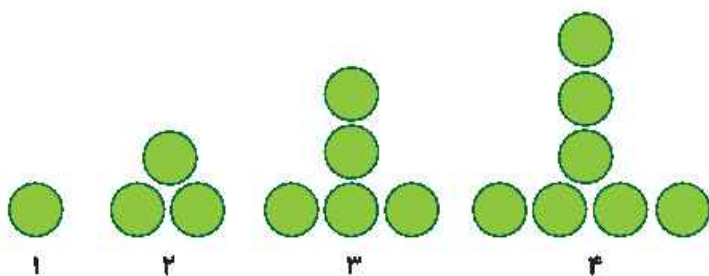
الف) $1 \square \frac{99}{100}$

ب) $\frac{6}{8} \square \frac{1}{3}$

پ) $\frac{3}{6} \square \frac{6}{12}$

ت) $1 \frac{2}{5} \square 2 \frac{1}{5}$

با توجه به الگوی شکل‌های زیر توضیح دهید شکل چهلم از چند دایره درست می‌شود؟



با توجه به عدد روبه‌رو به سؤالات زیر پاسخ دهید.

۲۹۰۲۶۱۶۸

(ب) رقم دهگان هزار آن چند است؟

(الف) این عدد چند رقمی است؟

(ت) رقم یکان میلیون آن چند است؟

(پ) عدد ۰ در کدام مرتبه قرار دارد؟

علوم

از چه روش‌هایی برای جدا کردن مخلوط‌ها می‌توان استفاده نمود؟

.....

.....

سنگ‌های رسوبی چگونه تشکیل می‌شوند؟

.....

.....

.....

جای خالی را با کلمات مناسب پر کنید.

(الف) محل غذاسازی گیاهان هستند.

(ب) سنگ مرمر یک نوع سنگ است.

(پ) فراوان‌ترین جانوران روی زمین هستند.

یک زنجیره‌ی غذایی را رسم کنید که شامل ۳ جاندار باشد.

.....

.....

۵ آب گرم در لیوان فلزی دیرتر سرد می‌شود یا لیوان کاغذی؟ چرا؟

فارسی

۱ معنی کلماتی که زیر آن‌ها خط کشیده شده است را بنویسید.

الف) آرش باید تیر را به طرف خاور پرتاب کند.

ب) بازرگان قرار شد برای همه سوغاتی بیاورد.

پ) در آن هنگام، حشرات کمیاب می‌شوند.

۲ جملات درهم ریخته زیر را مرتب کنید.

تیرانداز- این - کلر بزرگ - کدام - را - خواهد داد - انجام

بازرگان - رسید - پس - چند - شبانه‌روز - از - به - هندوستان

۳ شعر زیر را کامل کنید.

برگ بی حوصله شد

دل هر غنچه تپید

گر خوش آواز بودی و خوش خوان

پر و بالت سیاه رنگ و قشنگ

۴ هم خانواده کلمه‌های زیر را بنویسید. (هر کدام دو مورد)

منتظر معلم و و

مطالعات اجتماعی

۱ اولین روستاها چگونه به وجود آمدند؟

۲ مهم‌ترین وسیله‌ی مطالعه در جغرافیا چیست؟

۱) کره‌ی جغرافیایی

۲) نقشه

۳) عکس

۴) کتاب

۳ جدول بودجه چیست؟

هدیه‌های آسمان - قرآن

۱ در چه مواردی به جای وضو باید تیمم کرد؟

۲ نیکوکاران چه کسانی هستند؟

۳ معنای لغات زیر را بنویسید.

سَبَع:

السَّمَاء:

خَسَنَات:

شاخص‌ها

- خیلی خوب
- خوب
- قابل قبول
- نیاز به تلاش بیشتر

معنای واژه‌ها	◀
مرتب کردن جمله‌ها	◀
نحوه‌ی تشکیل روستاها	◀
آشنایی با جدول بودجه	◀
آشنایی با صفات نیکوکاران	◀
معنای واژه‌های قرآنی	◀

شناخت انواع زلویه	◀
توانایی به دست آوردن مساحت مثلث و متوازی الاضلاع	◀
شناخت و مقایسه کسرها	◀
پیدا کردن ارتباط بین الگوها	◀
شناخت روش جداسازی مخلوط‌ها	◀
آشنایی با نحوه‌ی تشکیل سنگها	◀
آشنایی با سرعت انتقال گرما	◀

نام و نام خانوادگی: تاریخ: نام آموزگار:

مطالعات اجتماعی < مرور سال گذشته

هدیه‌های آسمان < مرور سال گذشته

قرآن < مرور سال گذشته

ریاضی < مرور سال گذشته

علوم < مرور سال گذشته

فارسی < مرور سال گذشته

ریاضی

۱ اعداد زیر را به حروف و رقم بنویسید.

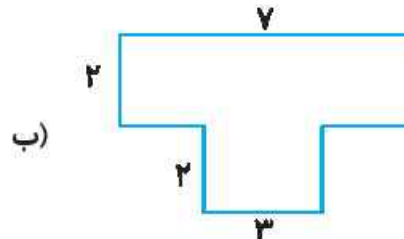
بیست و پنج میلیون و صد و شصت و دو هزار و پنجاه و چهار

۸۶۰۱۲۵۰

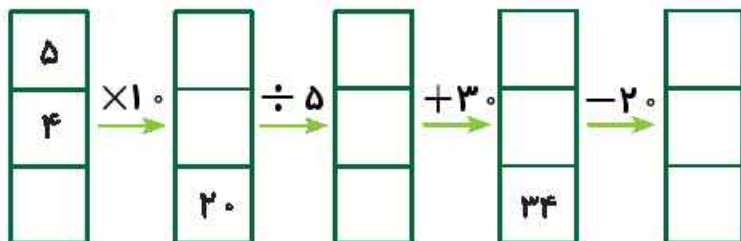
۲ الگوهای زیر را ادامه دهید.

الف) ۱۵۰ - ۲۰۰ - ۲۵۰ - - - ب) ۳۳۰ - ۲۳۰ - ۱۳۰ - - -

۳ محیط شکل‌های زیر را بدست آورید.




۴ ماشین ورودی و خروجی را کامل کنید.



چه کسری از شکل‌های زیر رنگ شده است؟


الف)



ب)



پ)



علوم

۱ دانشمندان به کمک که انجام می‌دهند و که بدست می‌آورند، درباره‌ی پاسخ پرسش‌های گوناگون پیش‌بینی می‌کنند.

۲ مخلوط چیست؟

۳ کدام اندام وظیفه‌ی تصفیه‌ی خون را به عهده دارد؟

۴ روده

۳ کلیه

۲ شش

۱ معده

۴ جملات درست را با و نادرست را با مشخص کنید.





الف) گیاهانی که دانه‌ی دو قسمتی دارند دارای برگ‌هایی با رگبرگ‌های موازی‌اند.

ب) غذای نرم به معنای قابل جذب شدن توسط سلول‌ها است.




۵ تفاوت ستاره و سیاره در چیست؟ از هر کدام یک مثال بزنید.

فارسی

۱ معنای واژه‌های زیر را بنویسید.

	خطه		غوک
	گریخت		ناپسند

۲ با هر گروه از حروف درهم ریخته یک کلمه بسازید.

ت - غ - ی - ه	ل - ج - ی - ل	ی - د - م - ع
		

۳ مخالف کلمه‌های زیر را بنویسید.

	۳ نیرومند \neq		۲ اندوهگین \neq		۱ اولین \neq
---	------------------	---	-------------------	---	----------------

۴ در هر قسمت کلمه‌ی درست را انتخاب کنید.

- الف) او هنگام چیدن گل به دستش رفت. (خوار - خار)
- ب) پایه و همه صحبت‌ها توانایی علمی دانش آموزان است. (اثاث - اساس)
- پ) آب مایه‌ی است. (حیاط - حیات)

مطالعات اجتماعی

۱ سه مورد از اقدامات مهم داریوش را بنویسید.

.....

.....

.....

۲ در جای خالی کلمه مناسب بنویسید.

الف) سرزمین بین النهرین بین دو رود و قرار داشت .
ب) اولین ابزارهای انسان بیش تر بود.
پ) شغلها دو دسته اند: و

۳ جهت های اصلی و فرعی را نام ببرید.

هدیه های آسمان - قرآن







۱ اولین مسجدی که پیامبر اسلام ساخت چه نام داشت؟

۲ سه مورد از توانایی هایی که خدا به ما داده است را بنویسید.

۳ معنی آیه زیر را کامل کنید.

أَلَا بِذِكْرِ اللَّهِ تَطْمَئِنُّ الْقُلُوبُ،

بدان با یاد آرامش می یابد

	معنای کلمات
	ساخت کلمه با حروف درهم ریخته
	انتخاب واژگان هم آوا
	آشنایی با اقدامات داریوش
	شناخت جهت های فرعی و اصلی
	معنای آیه های قرآن

	عدد نویسی
	توانایی ادامه دادن الگوهای عددی
	شناخت ماشین ورودی و خروجی
	تشخیص کسر مربوط به شکل
	آشنایی با تعریف فرضیه
	آشنایی با اندام تصفیه خون بدن
	ویژگی برگ گیاهان دانه دار

شاخص ها

-  خیلی خوب
-  خوب
-  قابل قبول
-  نیاز به تلاش بیش تر

نام و نام خانوادگی: تاریخ: نام آموزگار:

ریاضی < فصل ۱: عدد نویسی
 علوم < درس ۱: زنگ علوم
 فارسی < ستایش و درس ۱: تماشخانه (۱)
 مطالعات اجتماعی < درس ۱: من با دیگران ارتباط برقرار می‌کنم.
 هدیه‌های آسمان < دسته گلی از آسمان
 قرآن < جلسه اول و دوم

ریاضی

۱ عددی بنویسید که طبقه‌ی یکی‌های آن ۵۴۰، طبقه‌ی هزارهای آن ۳۶۷ و طبقه‌ی میلیون‌های آن ۱۲۹ باشد: سپس این عدد را با حروف بنویسید.

با رقم: با حروف:

۲ به پرسش‌های زیر پاسخ دهید:

الف) بزرگ‌ترین عدد ۸ رقمی، بدون تکرار ارقام، چه عددی است؟

ب) کوچک‌ترین عدد ۹ رقمی، بدون تکرار ارقام، چه عددی است؟

۳ با توجه به عدد ۶۷۴۵۹۱۳۲۰:

الف) رقم ۶ در چه مرتبه‌ای قرار دارد؟

ب) اگر عدد در ۱۰۰ ضرب شود، ارزش مکانی ۶ چه خواهد بود؟

۴ با چهار کارت ۵، ۹، ۸ و ۳ دو عدد دو رقمی بنویسید که:

الف) حاصل ضرب آن‌ها کم‌ترین مقدار ممکن باشد.

ب) حاصل ضرب آن‌ها بیش‌ترین مقدار ممکن باشد.

۵ جاهای خالی را با کلمات و اعداد مناسب پر کنید.

الف) ۲۰۰۰۰۰۰ از هزارتا و یا از ده هزارتا و یا از صد هزارتا ساخته شده است.

ب) نصف شش تا صد هزارتا برابر است با

۶ اختلاف عدد ۱۷۸۵ با تصویرش در آینه چند است؟

۷ در یک شرکت نفتی، در آذرماه سه میلیون و نهصد هزار بشکه نفت خام فروخته شده است. در هر روز چند بشکه نفت خام فروخته شده است؟

علوم

۱ آزمایش‌های مقایسه‌ای دارای چه ویژگی‌هایی هستند؟

۲ اگر دو کودک هم‌زمان یک توپ و یک بادکنک را از بام خانه‌ی خود پرتاب کنند، برای بادکنک و توپ چه اتفاقی می‌افتد؟
توپ و بادکنک به زمین می‌رسد.

۳ اگر نتیجه‌ی یک‌بار آزمایش کردن درست و مثبت شود، آیا فرضیه به نظریه تبدیل می‌شود؟

۴ گزینه‌ی صحیح را انتخاب کنید.

الف) فرضیه بعد از کدام مرحله صورت می‌گیرد؟

۱) مشاهده‌ی دقیق ۲) نظریه‌سازی ۳) طرح سؤال و پرسش ۴) آزمایش

ب) اگر دانش‌آموزی بخواند در تحقیقی ارتباط بین میزان مصرف اکسیژن و رشد گیاه را بررسی کند چه موردی را باید تغییر دهد؟

۱) دمای محیط ۲) نوع خاک ۳) میزان گاز اکسیژن ۴) مقدار خاک

۵ می‌خواهیم بدانیم که «یخ در ظرف پلاستیکی دیرتر آب می‌شود یا در ظرف فلزی؟»
برای این مسئله یک فرضیه بسازید.

۶ اصطلاحات زیر را توضیح دهید.

الف) مشاهده:

ب) کاوش علمی:

فارسی

۱ معنای واژه‌های زیر را در جای خود بنویسید.

بیم مونس تأمل کردن