

طرح سنجش استعداد: آبرنگ ۲ - توصیفی  
مدت پاسخگویی و انجام فعالیت: ۴۵ دقیقه

درس: استعداد فضایی اول دبستان  
زمان برگزاری: هفته سوم دی

## علوی

### فعالیت‌های استعداد فضایی پایه اول

#### فعالیت ۱

۳۱- با توجه به تصویر داده شده، چند شکل به صورت  $\bigcirc$  و چند شکل به صورت  $\square$  هستند؟



۳ ←  $\square$  (۱)

۴ ←  $\bigcirc$

۴ ←  $\square$  (۲)

۵ ←  $\bigcirc$

۴ ←  $\square$  (۳)

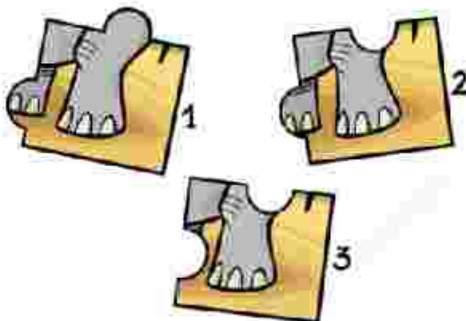
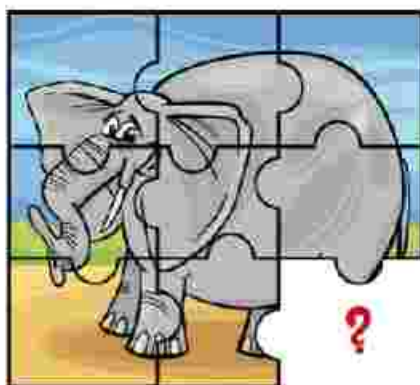
۳ ←  $\bigcirc$

۵ ←  $\square$  (۴)

۴ ←  $\bigcirc$

#### فعالیت ۲

۳۲- در تصویر داده شده، به جای علامت سؤال کدام مورد قرار می‌گیرد؟



طرح سنجش استعداد: آبرنگ ۲ - توصیفی  
مدت پاسخگویی و انجام فعالیت: ۴۵ دقیقه

درس: استعداد فضایی اول دبستان  
زمان برگزاری: هفته سوم دی

## علوی

### فعالیت ۲

با توجه به نقشه‌ی داده شده از یک پارک، به سؤالات پاسخ دهید.



۳۳- در سمت راست دریاچه‌ی اردک، کدام مورد قرار دارد؟

(۱) فضای شن‌بازی (۲) تاب (۳) سرسره (۴) نیمکت

۳۴- الاکلنگ بین چه چیزهایی قرار دارد؟

(۱) نیمکت و سرسره (۲) گل و فضای شن‌بازی

(۳) سرسره و فضای شن‌بازی (۴) دریاچه و تاب

۳۵- اگر بین دو فضای شن‌بازی ایستاده و به دریاچه نگاه کنی، تاب‌ها در کدام قسمت شما قرار دارند؟

(۱) چپ (۲) راست

۳۶- کدام جاده به فضای شن‌بازی نزدیک‌تر است؟

(۱) جاده‌ی شماره یک (۲) جاده‌ی شماره دو

طرح سنجش استعداد: آبرنگ ۲ - توصیفی  
مدت پاسخگویی و انجام فعالیت: ۴۵ دقیقه

درس: استعداد فضایی اول دبستان  
زمان برگزاری: هفته سوم دی

## علوی

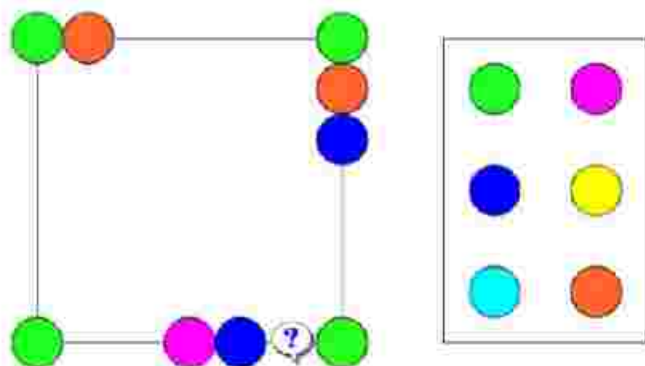
فعالیت ۴

۳۷- در شکل زیر، با دقت به تصویر گدوها نگاه کنید. کدام دو گدو تنبل، دقیقاً شبیه هستند؟



فعالیت ۵

۳۸- با توجه به رنگ‌های دایره‌ها، به جای علامت سؤال کدام مورد قرار می‌گیرد؟



طرح سنجش استعداد: آبرنگ ۲ - توصیفی  
مدت پاسخگویی و انجام فعالیت: ۴۵ دقیقه

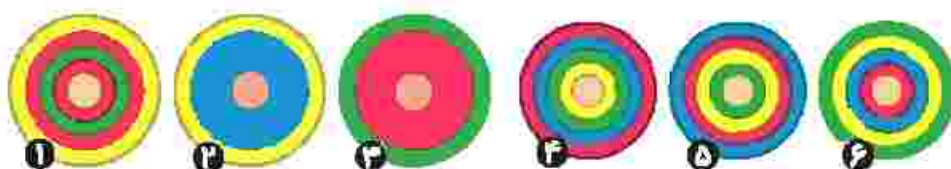
درس: استعداد فضایی اول دبستان

زمان برگزاری: هفته سوم دی

## علوی

### فعالیت ۶

۳۹- اگر به شکل داده شده از بالا نگاه کنید کدام تصویر را می بینید؟



### فعالیت ۷

۴۰- در تصویر چند مربع می بینید؟

