

ریاضی اول دبستان

طرح سنجش استعداد: آویگ ۲ - نویسی

زمانه:

هفته اول دی
۷۹ دقیقه

نام:

خانوادگی:

نام:

.....

.....

شماره:

۱) شکل‌های هر دسته را بشمارید و به عدد مربوطه وصل کنید.



۶ ۷ ۵ ۳

۳) در هر ردیف الگوی منظم را با ✓ و الگوی نامنظم را با ✗ مشخص کنید.



•

•



•

•

۲) در هر شکل تعداد گوشه‌ها را بشمارید و آن را به چوب‌خط مناسب وصل کنید.



•

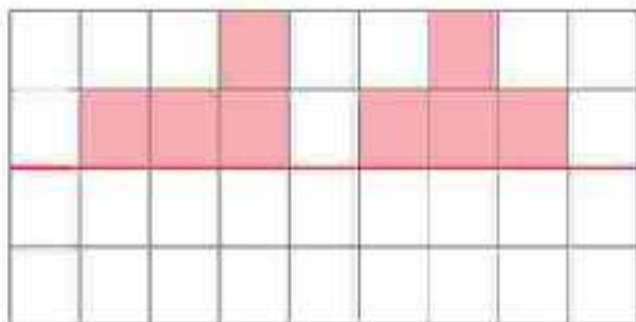
•

•

•



۵) جاهای خالی را مانند نیمه‌ی دیگر جدول کامل کنید.



۴) در هر قسمت دسته‌ی بیشتر را با علامت ✓ و دسته‌ی کمتر را با علامت ✗ مشخص کنید.



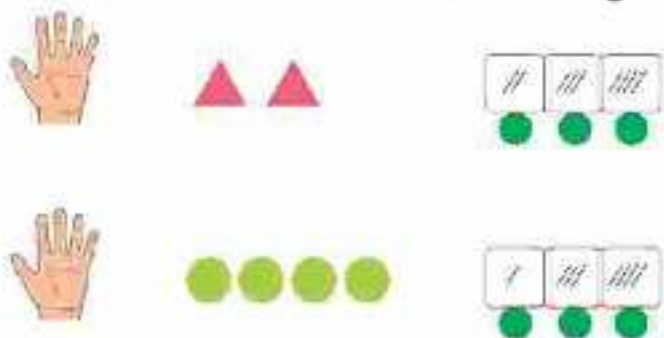
•

•

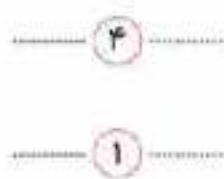
•

•

۷) در هر ردیف انگشتان یک دست را باز کنید، به تعداد شکل‌ها انگشتان خود را بینید و به تعداد انگشتان باقی‌مانده گزینه‌ی صحیح را علامت بزنید.



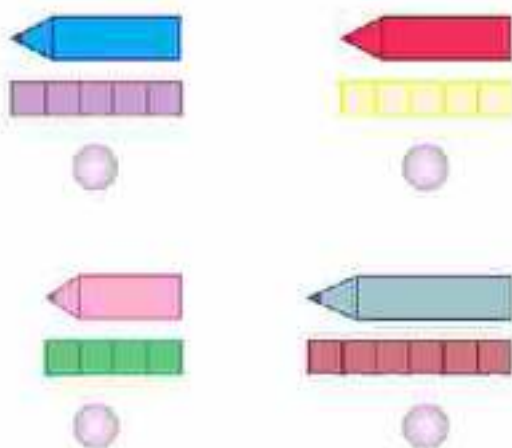
۶) در هر ردیف در جای خالی عدد قبل و بعد از آن عدد را بنویسید.



۹) جدول شگفت‌انگیز زیر را حل کنید.

۲	۵	۱	۳	۴
۳			۲	۵
۱	۲	۵	۶	۳
۴	۶		۵	۱
۵	۱	۴	۲	۶
۶	۳		۱	۳

۸) در هر ردیف، بلندی کدام مداد بیشتر از چهارتا است؟ (علامت * بزنید)



۱۰) در کادر سمت راست به شکل‌ها ۲ تا اضافه کرده و در کادر سمت چپ از هر دسته از شکل‌ها ۲ تا کم کنید، سپس پاسخ را با عدد و چوب‌خط نمایش دهید.

