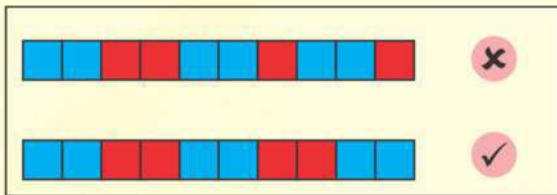
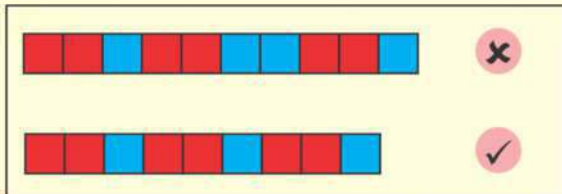


۲) (نمره) (هر مورد ۵/۰ نمره) (سارا بهجتی) (تم ۲۴ - فرش - ساعت‌های کامل، گذشته، مانده و بین - صفحه ۱۶۴ کتاب درسی) (گویه: ۱۱، ۱۶ و ۱۷) (آسان)

۲- الف)



ب)

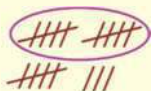


۲) (نمره) (هر مورد ۵/۰ نمره) (سارا بهجتی) (تم ۱ - آشپزخانه - الگوهای شطرنجی - صفحه ۵ کتاب درسی) (گویه: ۱۲ و ۱۵) (آسان)

۳- الف) گزینه‌ی «۲» - ۳۲

ب) گزینه‌ی «۱» - ۵۴

پ) گزینه‌ی «۳» -

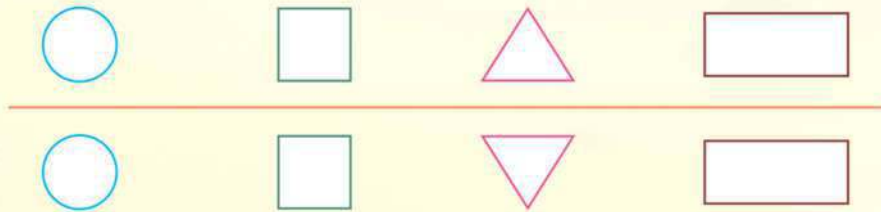


ت) گزینه‌ی «۲» - ۴ ده تایی و ۶ یکی

۲) (نمره) (هر مورد ۵/۰ نمره) (سارا بهجتی) (تم ۱۵ - نمازخانه - عدد نویسی، رسم چوب‌خط، ارزش مکانی - صفحه ۱۰۲ و ۱۰۳ کتاب درسی) (گویه: ۱۲ و ۱۸)


(متوسط)

۴-



(۲ نمره) (هر مورد ۵/۵ نمره) (سارا بهجتی) (تم ۷ - تولد - تقارن - صفحه ۴۹ کتاب درسی) (گویه: ۱۳ و ۱۵) (آسان)

۵-



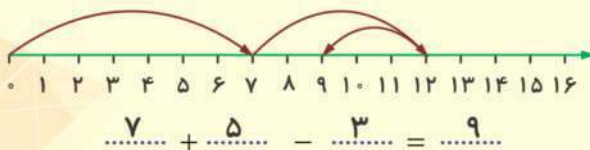
ده تایی	یکی
۲	۷

به عدد: ۲۷
به حروف: بیست و هفت

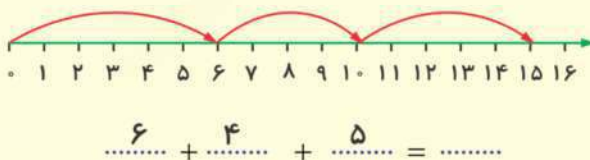
(۲ نمره) (دسته بندی کردن ۵/۵ نمره، کامل کردن جدول ارزش مکانی ۵/۵ نمره، نوشتن عدد ۵/۵ نمره، نوشتن عدد به

حروف ۵/۵ نمره) (سارا بهجتی) (تم ۱۵ - نمازخانه - ارزش مکانی - عدد نویسی - صفحه ۱۰۱ کتاب درسی) (گویه: ۱۳ و ۱۸) (متوسط)

۶- الف)



ب)



(۲ نمره) (پرکردن هر نقطه چین و رسم هر محور ۲۵/۵ نمره) (سارا بهجتی) (تم ۱۷ - صله رحم - حل محور اعداد - صفحه ۱۱۹ کتاب درسی)

(گویه: ۱۲ و ۱۹) (متوسط)

(پ) ۹

(ب) ۱۲

(الف) بین ۱۲ و ۱۳

(۲ نمره) (هر مورد ۵/۰ نمره) (سارا بهجتی) (تم ۱۶، ۱۷ و ۱۷ - اندازه گیری - صفحه ۹۶، ۱۱۲ و ۱۱۸ کتاب درسی) (گویه: ۱۱، ۱۵ و ۱۷) (متوسط)

(ت) ۴۰ - ۳۶

(پ) ۷۲ - ۶۳

(ب) ۶۴ - ۵۴

(الف) ۶۵ - ۶۰

(۲ نمره) (پر کردن هر جای خالی ۲۵/۰ نمره) (سارا بهجتی) (تم ۲۵ - آینه - الگوهای عددی - صفحه ۱۷۲ کتاب درسی) (گویه: ۱۴، ۱۸ و ۱۳)

-۹

$$۵۰ \boxed{<} = > ۶۰$$

$$۳۰ \boxed{=} > ۳۰$$

(۲/۵ نمره) (نوشتن پاسخ هر عبارت ۵/۰ نمره، مشخص کردن هر علامت ۲۵/۰ نمره) (سارا بهجتی) (تم ۲۳ - خواب - جمع و تفریق -

مقایسه اعداد - صفحه ۱۵۹ کتاب درسی) (گویه: ۱۲ و ۱۳) (دشوار)

-۱۰



رسم شکل (۵/۰ نمره)

نوشتن عملیات جمع (۵/۰ نمره) $۸ + ۷ = ۱۵ \Rightarrow$

نوشتن عملیات تفریق (۵/۰ نمره) $۱۵ - ۶ = ۹ \Rightarrow$

(۱/۵ نمره) (هر مورد ۵/۰ نمره) (سارا بهجتی) (تم ۲۴ - فرش - حل مسئله - صفحه ۱۶۸ کتاب درسی) (گویه: ۱۵ و ۱۶) (دشوار)