

نام خانوادگی:

نام:

شماره علی:

شعبه: کلاس:

۳) گزینه‌ی صحیح را مشخص کنید.

الف) در شمارش ۴ تایی بعد از ۱۶ می‌آید.

۲۱ (۱) ۲۰ (۲)

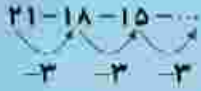
۱۹ (۳) ۱۸ (۴)

ب) در شمارش ۵ تایی قبل از ۷۵ می‌آید.

۸۰ (۱) ۷۱ (۲)

۶۵ (۳) ۷۰ (۴)

پ) عدد بعدی در الگوی داده شده کدام است؟



۱۲ (۱) ۱۴ (۲)

۱۳ (۳) ۱۰ (۴)

ت) در شمارش ۱۰ تایی بعد از ۵۳ می‌آید.

۵۴ (۱) ۴۵ (۲)

۶۰ (۳) ۶۳ (۴)

۴) با توجه به توضیحات، پاسخ درست را از بین کلمات داخل

کادر انتخاب کنید و بنویسید. **مربع، مستطیل، دایره، مثلث**

الف) شکلی که سه گوشه و لبه دارد، است.

ب) شکلی که دو لبه‌ی روبه‌روی آن برابر است، است.

پ) شکلی که گوشه و لبه ندارد، است.

ت) شکلی که چهار گوشه دارد و ۴ لبه‌های آن با هم برابرند،

..... است.

۵) پاسخ درست را به دست آورید و در جای خالی علامت

مناسب < = > بگذارید.

الف) $20 + 10 - 10 + 20 + 5 = \dots$ $10 + 20 + 5 + 5 - 5 = \dots$

ب) $10 + 20 + 10 - 10 = \dots$ $20 + 5 + 10 - 5 = \dots$

۱) هر جمله را به عدد مورد نظر وصل کنید.

- ۵۷ • ۴ بسته‌ی ده تایی و ۸ یکی
- ۴۸ • ۵ یکی و یک بسته‌ی ده تایی
- ۶۹ • ۹ یکی و ۶ بسته‌ی ده تایی
- ۱۵ • ۵ بسته‌ی ده تایی و ۷ یکی

۲) با توجه به شکل، جمله‌های درست را با علامت ✓ و جمله‌های نادرست را با ✗ مشخص کنید.

الف) مداد شماره‌ی ۵ هم‌اندازه‌ی مداد شماره‌ی ۴ است.

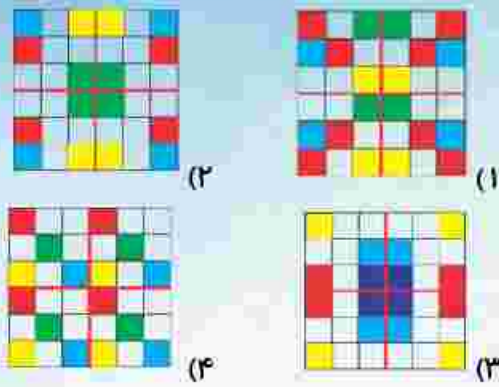
ب) اندازه‌ی مداد ۲ بین ۴ و ۵ است.

پ) مداد ۴ کوتاه‌ترین مداد است.

ت) مداد ۱ کمی از ۳ بلندتر است.



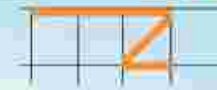
۶) دو تا از شکل هایی که چهار قسمت آن مانند هم رنگ شده و تقارن درستی دارند را انتخاب کنید.



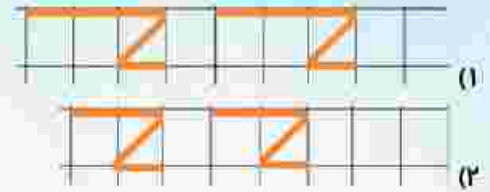
۶) با توجه به نمونه‌ی داده شده، در هر قسمت الگوی درست را انتخاب کنید.



الف) نمونه



ب) نمونه



۱۰) پاسخ مسئله‌ی زیر را با کمک چوب خط به دست بیاورید. درنا برای تولد دوستان دو قلویش شکلات خرید. او برای هر کدامشان ۷ شکلات خرید. ولی بعد ۴ تا از شکلات هایی که خریده بود به برادرش داد. چند شکلات برای دوقلوها باقی مانده است؟

۷) محورهای زیر و جاهای خالی را کامل کنید.

الف) $9 + 3 - 6 = \dots$



ب) $\dots - 1 = \dots$



۸) ساعت چند است؟

الف) ساعت است.



ب) ساعت کمی به مانده است.



ت) زمان بین ساعت ... و ... است.