

طرح سنجش استعداد: جامدای ۱-توسیفی  
مدت پسخگویی و انجام فعالیت: ۴۵ دقیقه

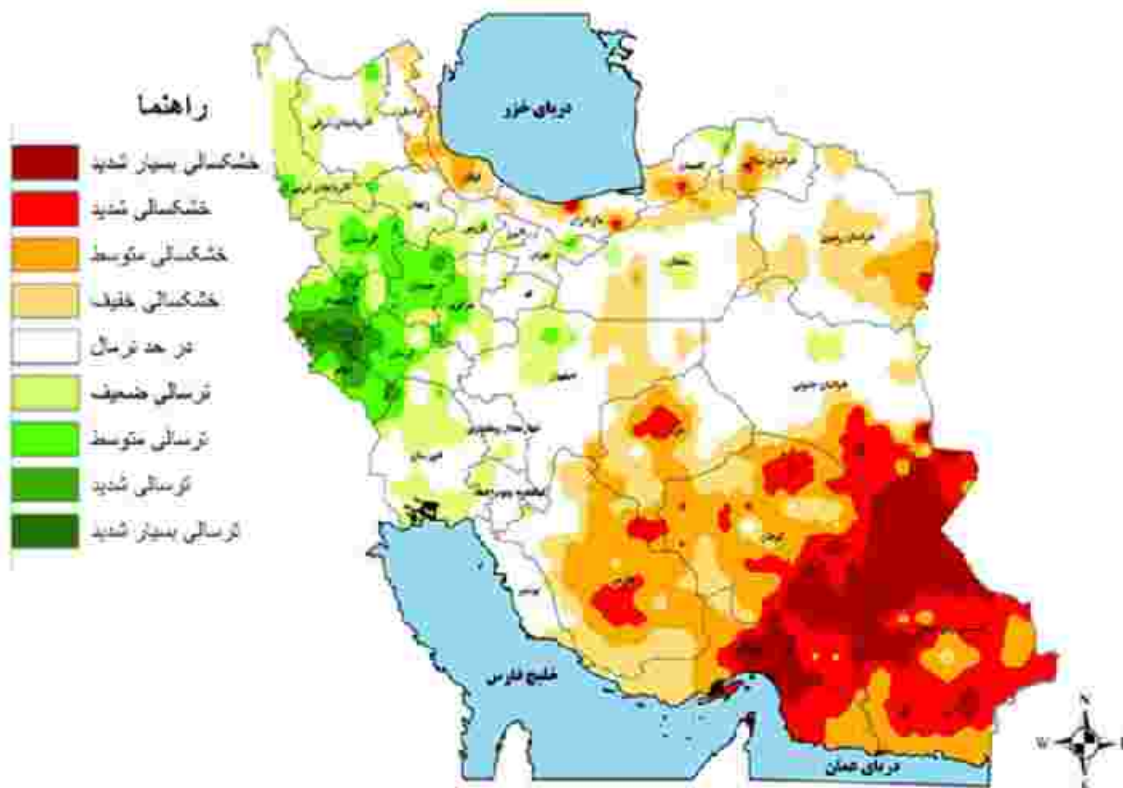
درس: استعداد فضایی ششم دبستان  
زمان برگزاری: هفته سوم دی

**علوی**

### فعالیت‌های استعداد فضایی پایه ششم

#### فعالیت ۱

۷۱- نقشه‌ی زیر وسعت و نوع خشکسالی استان‌های کشور را در بهمن ماه سال ۹۶ نشان می‌دهد. با توجه به راهنمای نقشه به سؤالات پاسخ بده.

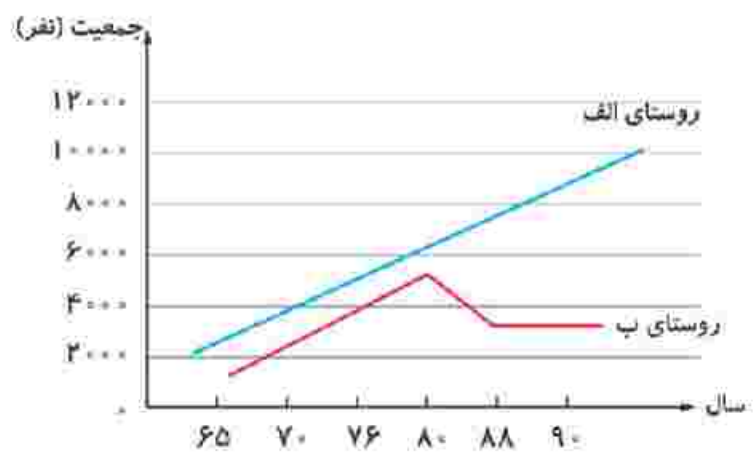


الف) خشکسالی بسیار شدید ایران در کدام جهت جغرافیایی قرار دارد؟ .....

ب) خشکسالی در این نقشه به چند قسمت (پهنه‌بندی) تقسیم شده است؟ ۲ مورد نام ببرید. ....

پ) بیشترین خشکسالی در استان خراسان جنوبی مربوط به کدام نوع از پهنه‌بندی می‌باشد؟ .....

۷۲- نمودار رشد جمعیت دو روستا در شمال ایران در تصویر زیر نشان داده شده است. با توجه به این نمودار به سؤالات پاسخ بده.



الف) جمعیت روستای «الف» را به‌طور تقریبی در سال‌های ۷۶ و ۸۰ بنویس.

سال ۷۶ ← .....

سال ۸۰ ← .....

ب) روند تغییر جمعیت روستای الف و ب را از سال ۷۰ تا ۹۰ در نظر بگیر و برای هر روستا افزایش، کاهش و ثابت بودن جمعیت را بیان کن.

روستای الف:

روستای ب:

پ) روند تغییر جمعیت در چه سال‌هایی در دو روستا تقریباً یکسان بوده است؟

.....

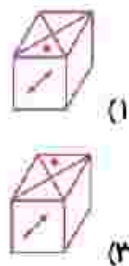

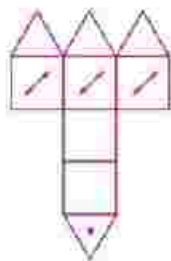
طرح سنجش استعداد: جامدادی ۱- توصیفی  
مدت پاسخگویی و انجام فعالیت: ۴۵ دقیقه

درس: استعداد فضایی ششم دبستان  
زمان برگزاری: هفته سوم دی

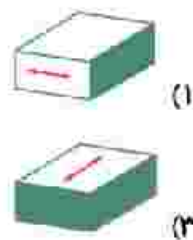
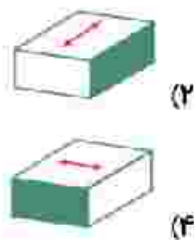
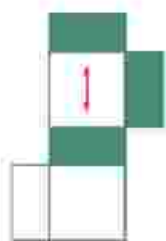
# علوی

## فعالیت ۳

۷۳- در هر یک از قسمت‌های زیر، گزینه‌ی مناسب را انتخاب کن.  
در سؤال‌های «الف و ب» کدام گزینه مربوط به گسترده‌ی داده شده است.

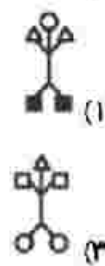
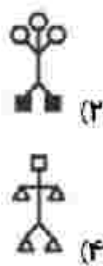
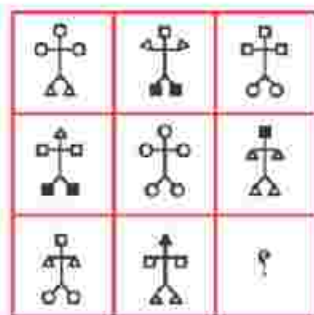


(الف)

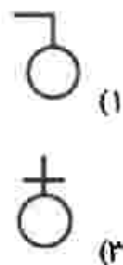
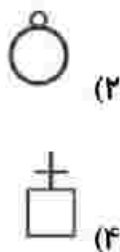
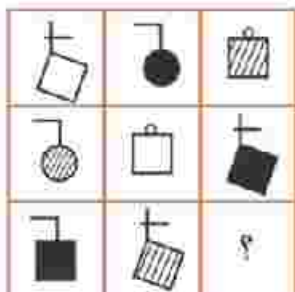


(ب)

در سؤال‌های «پ و ت» به جای «؟» کدام گزینه قرار می‌گیرد.



(پ)



(ت)

طرح سنجش استعداد: جامدادی ۱-نوسیفی  
مدت پلسخوبی و انجام فعالیت: ۴۵ دقیقه

درس: استعداد فضایی ششم دبستان  
زمان برگزاری: هفته سوم دی

علوی

فعالیت ۴

۷۴- گسترده‌ی خانه‌ی زیر را با دقت از کاغذ جدا کن و خانه‌ای زیبا بساز. (از قیچی و چسب استفاده کن)

